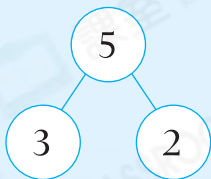



知識要點



$$5 = 3 + 2$$

$$3 + 2 = 5$$

$$5 - 3 = 2$$



試一試



9 分解為 4 和 _____。

易錯舉例

易錯點：數的分解有遺漏。

例 寫出 4 可分解得到的各組數。

答案：_____

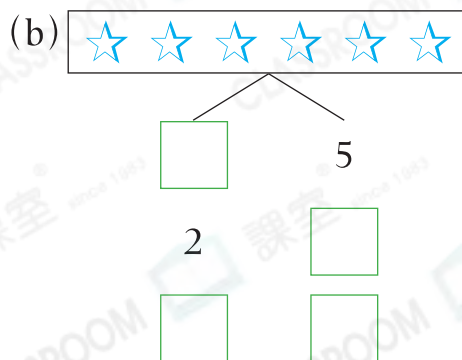
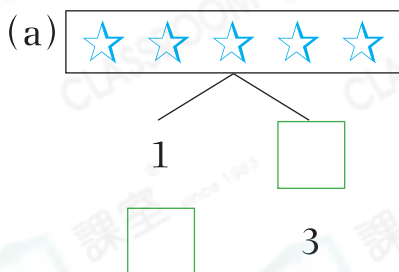
錯解 1 和 3

正解 1 和 3，2 和 2

小貼士：一個數可依次分解為 1 和幾，2 和幾，3 和幾……

即學即練



1. 分一分，填一填。



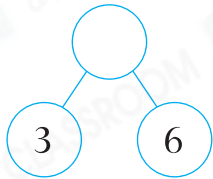
2. _____ 分解為 2 和 6。

基礎訓練

3. 下列哪一個圖表示「 $6 = 4 + 2$ 」?

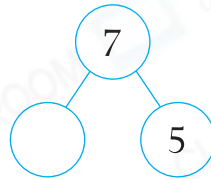


4. (a)



$$3 + 6 = \square$$

(b)



$$7 - 5 = \square$$

5. 如果 和 合成為 8，那麼 代表多少？

- A. 2 B. 3 C. 4 D. 5

6. 根據數的分解，填一填。

(a)

7	1		
	6		

(b)

10	1				
	9				

7. 下列哪一組數合成的結果是奇數？

- A. 1 和 1 B. 7 和 2
 C. 3 和 5 D. 4 和 2

應用天地

8. 右圖是李太太買的兩套碟子。

(a) 共有_____隻碟子。

(b) 打破1隻碟子後，餘下_____隻。






9. 把5個分裝成兩盒，在盒內畫「○」表示。



$$5 = \square + \square$$

10.

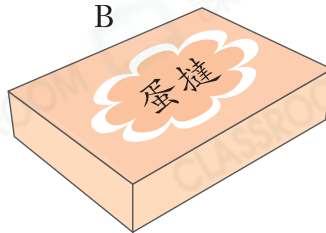


外婆把以上全部分給2人，每人分得的數量相同，即每人可分得_____件.

11. A




B



C



共有10個.

(a) 盒子B有_____個.

(b) 從盒子C中拿走2個，盒子C還有_____個.