



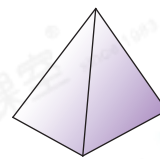
易錯舉例

易錯點：寫錯別字。

例 右圖是一個_____。

 錯解 角椎


 正解 角錐

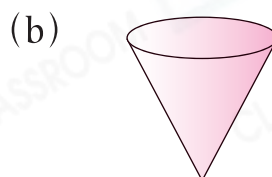


小貼士：正確書寫各種立體圖形的名稱。

即學即練

1. 寫出下列各立體圖形的名稱。



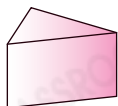
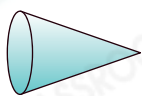


基礎訓練



2. 依指示，圈出所有答案。

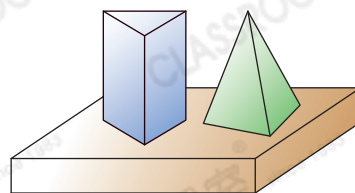
(a) 有尖頂的立體圖形



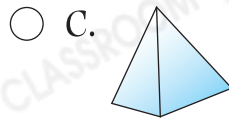
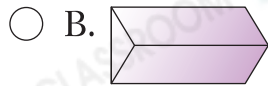
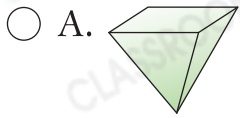
(b) 可以滾動的立體圖形



3. 右圖是由一個_____和兩個_____組成。

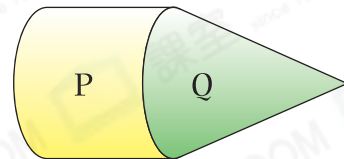


4. 下列哪一個立體圖形與其他**不同類**？



5. 右圖是由P和Q兩個立體圖形組成。

Q是_____。



應用天地


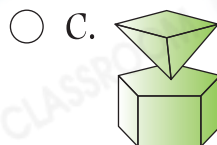
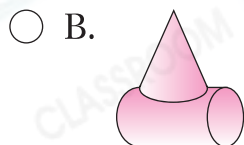

6. 觀察下列物件，寫出所有代表答案的英文字母。



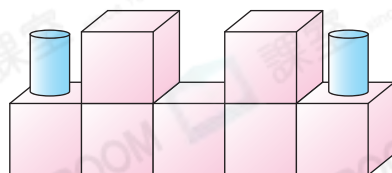
(a) 球：_____

(b) 圓柱：_____

7. 下列哪一組立體圖形能疊得穩？



8.



弟弟用立體圖形砌出上面的模型，他共用了_____個角柱和
_____個圓柱。