


# 跨課題應用(一)

練習1至14




時限  
20分鐘

1. 以下是活動室內各種積木的數量。

積木			
數量(塊)	325	197	201

(a) 把積木的數量由少至多排列出來。

答案：\_\_\_\_\_塊，\_\_\_\_\_塊，\_\_\_\_\_塊  
(最少) (最多)

(b) \*  /  /  (\*圈出答案)的側面數目最多。

2. (a) 每天兼職的薪金是\_\_\_\_\_元。

(b) 婉怡在迪輝公司兼職一星期，她共兼職了多少小時？(列式計算)

**迪輝公司誠聘兼職**

時薪：50元

工作時間：11:30 a.m. - 4:30 p.m.



**CLASSROOM Tips**

先找出每天的工作時間。

3. (a) 右面的盒子是一個\_\_\_\_\_，底是一個\_\_\_\_\_形。



(b) 盒子內原有54顆珠子，嘉兒串一條手鏈用去18顆珠子，還餘珠子多少顆？(列式計算)



日期：\_\_\_\_\_

成績：\_\_\_\_\_



4. 右圖是一星期前的日曆。

(a) 麗欣今天參加歌唱比賽初賽，今天是  
\_\_\_\_\_月\_\_\_\_\_日。




(b) 麗欣於 **9:13<sub>AM</sub>** 到達比賽地點，17分鐘後開始比賽，歌唱比賽  
在什麼時候開始？

答案：\_\_\_\_\_午\_\_\_\_\_時\_\_\_\_\_分

(c) 把參賽者分成7組，每組有10人。每組將有3人進入決賽，共有多  
少人進入決賽？(列式計算)



5. 進樂正在量度自己的身高。



(a) 進樂高 \_\_\_\_\_ cm。

(b) 文希的身高與進樂的相差 38cm，文希高多少？(列式計算)

