

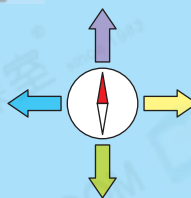
知識要點

- ✓ 指南針着色的一端指向北方。
- ✓ 四個基本方向：東、南、西、北

例



試一試



左圖中，紫色箭頭指向_____方。

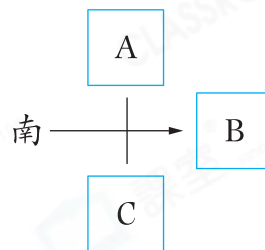
易錯舉例

易錯點：誤以為上方一定是北方。

例 右圖中，A代表_____方。

錯解 北

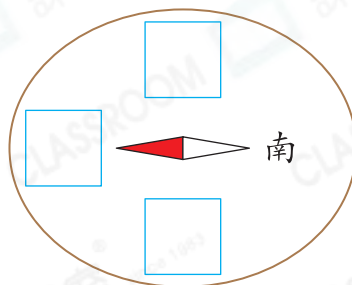
正解 西



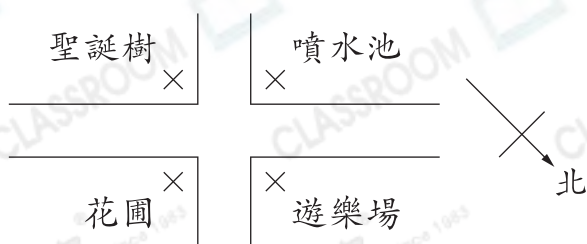
小貼士：找出北方，然後按順時針方向依次是東、南、西。

即學即練

1. 在右圖中填上正確的方向。



2.

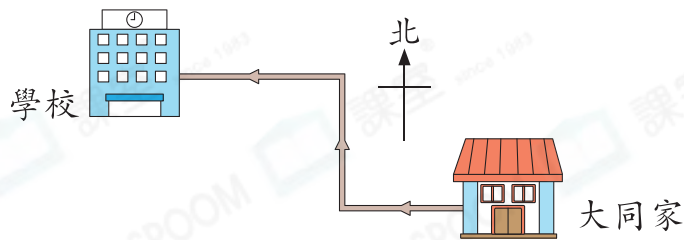


左圖中，花園在噴水池的
* 東 / 西 / 南 / 北方。
(* 圈出答案)

基礎訓練

3. 右圖是大同步行上學的路線，下列哪一項是他步行的方向？


- A. 東方 → 南方 → 西方
- B. 東方 → 北方 → 西方
- C. 西方 → 南方 → 東方
- D. 西方 → 北方 → 西方

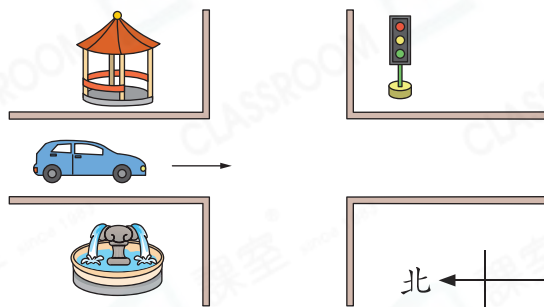


4. 依婷面向南方，她的後面是_____方，左面是_____方，右面是_____方。

5. (a)  在  的 _____ 方。

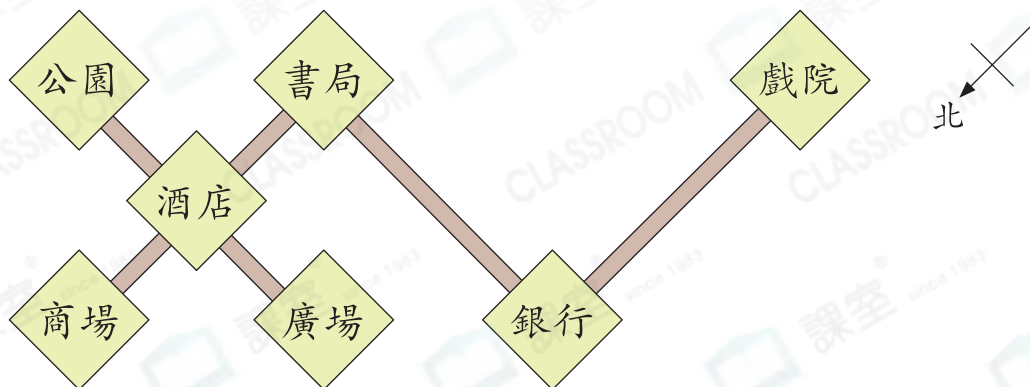
(b)  正在向 _____ 方行駛。

(c)  到達分岔路口時，向右轉，它便會轉向 _____ 方行駛。



應用天地

6. 下圖是酒店附近的平面圖。

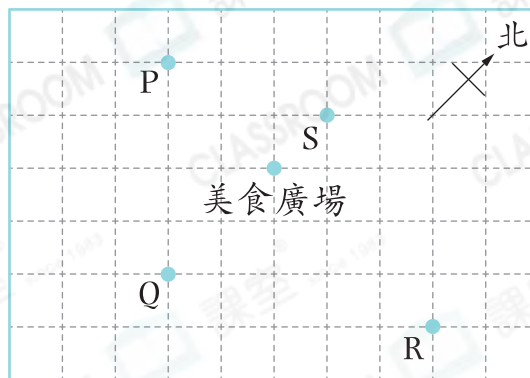


(a) 酒店的東方是* 公園 / 書局 / 廣場 / 商場 (*圈出答案)。

(b) 叔叔從酒店向 _____ 方走，經過書局後，再轉向 _____ 方走，便可到達銀行。

7. 妙玉在美食廣場的東方，她可能在
地圖中的哪一個位置？

- A. P ○ B. Q
○ C. R ○ D. S



8. 雅雯在早上時面向太陽站立，然後
依順時針方向轉了兩個直角，她現
在面向哪一方？

答案：_____方



解題思路

- ① 面向太陽即面向_____方。
- ② 畫出草圖輔助解題。

◆ ①

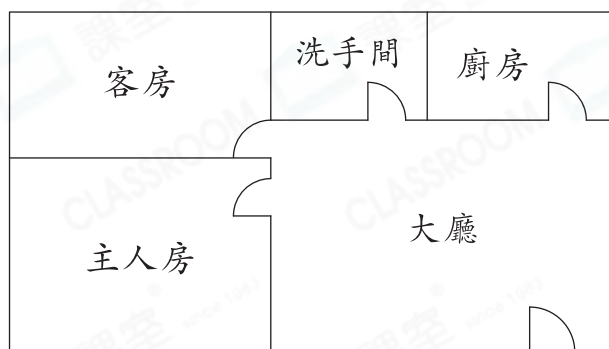


9. 下午3時正，時針指向北方，3小時後，時針將指向哪一方？

答案：_____方



10.



以上是某大廈示範單位的平面圖。

(a) 客房在主人房的東方，廚房在客房的_____方。

(b) 這棟大廈有10層，每層有8個單位，即共有_____個單位。

11. 卓星在文君的西方，他們相距200米，

(a) 文君向西方走了300米後，現在
卓星在文君的_____方。

(b) 現在他們相距_____米。



解題思路

- ① 畫出兩人原來所在的位置。
- ② 畫出文君走300米後的位置。

