

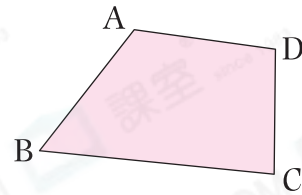
易錯舉例

易錯點：混淆對邊和鄰邊。

例 右圖中，AB和_____是一組鄰邊。

錯解 CD

正解 AD/BC

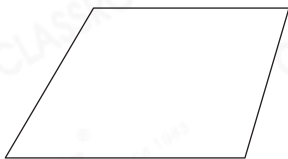


小貼士：鄰邊是相連的，對邊是不相連的。

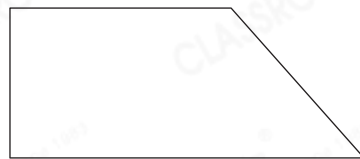
即學即練

1. 用顏色筆畫出指定的邊。

(a) 一組對邊



(b) 一組鄰邊



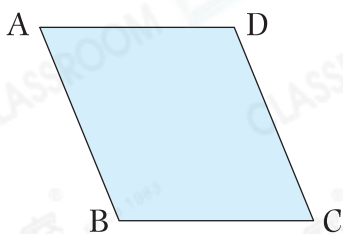
基礎訓練

2. 下列哪一條是線段？

○ A.  ○ B. 

○ C.  ○ D. 

3.



左圖中，

(a) AB和_____是一組對邊。

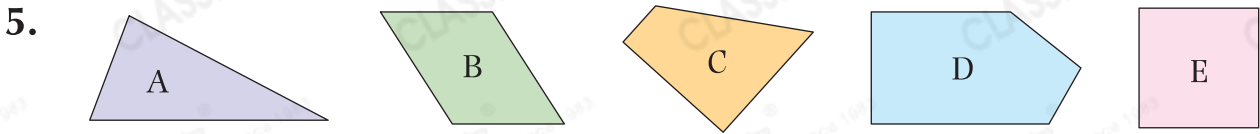
(b) AB的鄰邊是* BC / DC / AD 。

(*圈出所有答案)

4. 在右圖中，畫一條最短的線，把M點和N點連起來。



應用天地



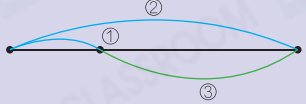
- (a) 上圖中，共有_____個四邊形。
 (b) 圖_____是一個只有2個直角的四邊形。
 (c) 圖_____由最多線段組成。



上圖中，共可數出線段多少條？

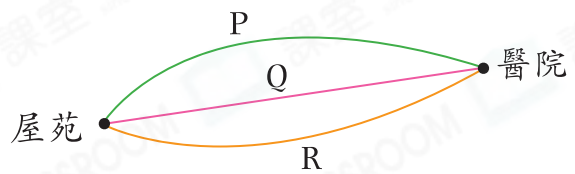
答案：_____條

解題思路
 從左邊的第一個端點數起。

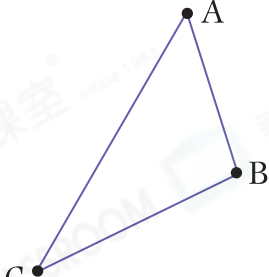


7. 從屋苑到醫院有三條路線，哪一條路線最短？

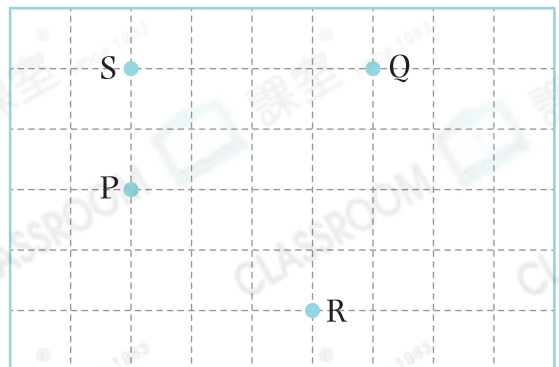
答案：路線_____



跨課題

8. 
- (a) 左圖是一個由_____條線段圍成的三角形。
 (b) 用尺子量度最長的一邊的長度，它的長度是_____cm。

9. 右面的方格紙上有4個點，可兒連接其中任意兩個點，共可畫出_____條線段。



易錯指南
 小心不要重複計算。