
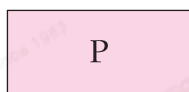


## 易錯舉例

易錯點：未能分辨一些相似的圖形。

例



列出所有正方形：\_\_\_\_\_



錯解

Q、R



正解


Q



小貼士：正方形有4個直角，且四邊長度相等。

## 即學即練

1.



左圖中，


(a) 有 \_\_\_\_\_ 個正方形。

(b) 有 \_\_\_\_\_ 個長方形。

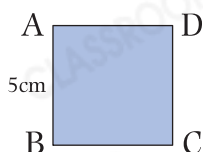
## 基礎訓練

2. 右圖是一個 \_\_\_\_\_ 形，它的\* 對邊 / 鄰邊

(\* 圈出答案) 長度相等。



3.

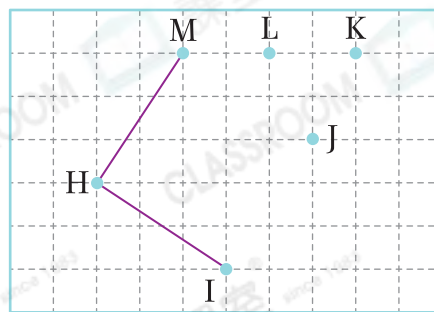


左圖是一個正方形，BC的長度是多少？

答案：\_\_\_\_\_ cm

4. 弟弟想在右圖中圍出一個正方形，他應選擇M點、H點、I點和哪一個點？

答案：\_\_\_\_\_ 點



**應用天地**

5. 下列哪一件物件的形狀和其他的**不同**？

A.



B.



C.



D.



6.

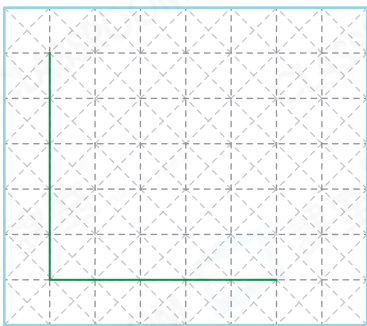


左面的紙條可以砌出哪種四邊形？

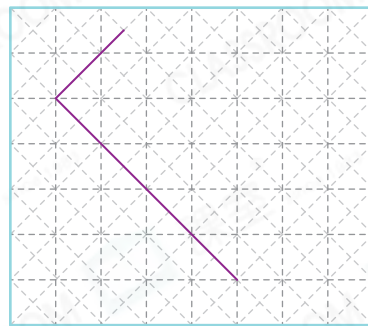
答案：\* 長方形 / 正方形 (\* 圈出答案)

7. 在各圖中加畫兩條線段，與原有的線段組成指定的四邊形。

(a) 正方形



(b) 長方形

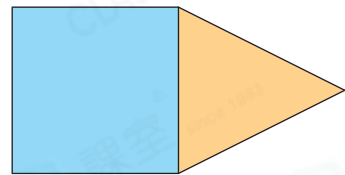


跨課題

8. 伯父把果園分為兩個區域，如右圖所示。

(a) 藍色區域是什麼形狀？

答案：\_\_\_\_\_ 形



(b) 果園裏有 10 棵桃樹，是梨樹的 5 倍，即有 \_\_\_\_\_ 棵梨樹。

9.



在左圖中加畫兩條線段，把它分成一個正方形和兩個長方形。

10. 從右圖中最少要取走 \_\_\_\_\_ 根火柴，  
才能使它只能數出 2 個正方形。

