



# 方塊圖

## 知識要點

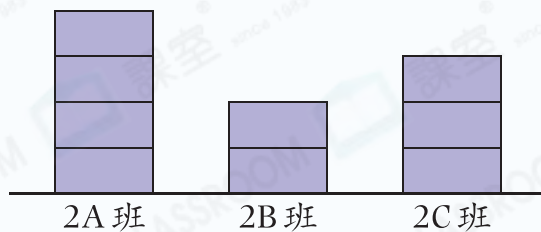
方塊圖是統計圖的一種。

### 提示

方塊圖有橫放和直放兩種形式。

二年級各班戴眼鏡的學生人數 ← 標題

每個方塊代表 1 人



← 項目名稱

## 初學乍練

想挑戰  
請掃描



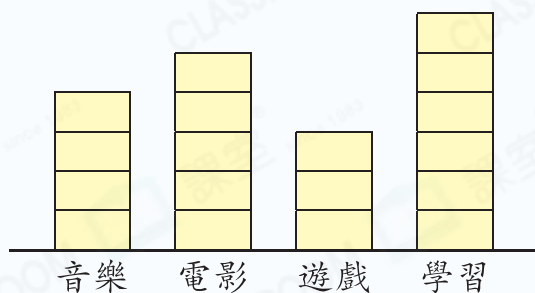
1. 右圖顯示美珍家中各種光碟的數量。

美珍家中各種光碟的數量

(a) 有 \_\_\_\_\_ 種光碟數量有 5 張或以上。





每個方塊代表 1 張

(b) \_\_\_\_\_ 光碟和 \_\_\_\_\_ 光碟的數量相差最多。



(c) 家中共有 \_\_\_\_\_ 張光碟。

2. 下表記錄了一盒迴形針的數量，根據資料，完成方塊圖。

迴形針種類				
數量(枚)	6	4	9	3

一盒迴形針的數量

每個方塊代表 1 枚

