

跨課題應用(二)

練習 1 至 28

時限
20 分鐘

1. 林老師買了 5 種不同顏色的手工紙。

(a) 每種顏色各有 500 張，共有_____張。

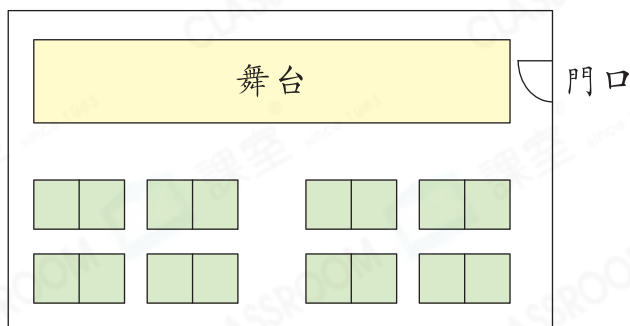
(b) 每張手工紙都是什麼形狀？

答案：_____形

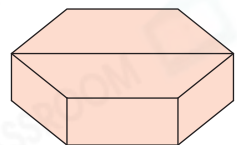
(c) 林老師付了 90 元購買手工紙，找回 12 元 5 角，這些手工紙的總價是多少？(列式計算)



2.



圖一



圖二

(a) 圖一是戲院的平面圖。門口在舞台的南方，觀眾入座後，他們面向_____方。

(b) 圖二是一個六角柱的舞台，它由兩個大小相同的_____組成，側面都是_____形。

(c) 戲院有 365 個座位，278 名觀眾入座後，還餘下空位多少個？(列式計算)



日期：_____

成績：_____



3. 一首兒歌長3分鐘，貝兒在  開始循環播放這首兒歌，25分鐘後停止播放。

(a) 停止播放時，鐘面上的時針和分針形成一個_____角。

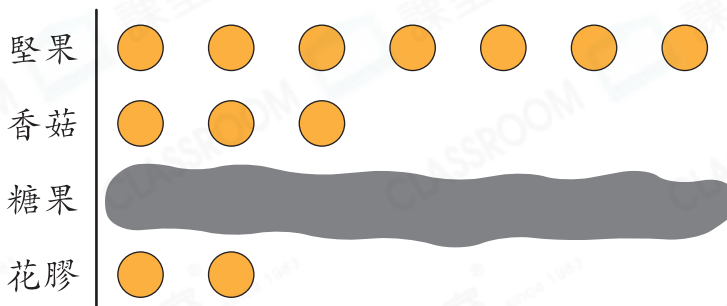
(b) 這首兒歌完整地播放了多少次？(列式計算)



4. 下圖顯示媽媽購買各種年貨的數量。

媽媽購買各種年貨的數量

每個  代表一包



(a) 媽媽共買了16包年貨，即買了_____包糖果。

(b) 比較數量最多和最少的兩種年貨，相差_____包。

(c) 一包香菇售102元，比一包花膠便宜319元，一包花膠比一包堅果貴287元。一包堅果售多少元？(列式計算)

