

姓名：_____

班別：_____ ()

日期：_____

成績：_____ /62

限時：40分鐘

範圍：練習1-14

綜合測試(一)

計算下列各題。【8分，每題1分】

1. $3 \times 5 =$ _____

2. $6 \times 7 =$ _____

3. $0 \times 4 =$ _____

4. $10 \times 1 =$ _____

5. $74 - 39 =$ _____

6. $67 - 24 - 19 =$ _____

7. $568 + 392 =$ _____

8. $326 + 117 + 205 =$ _____

回答下列各題。【26分】

9. 在834這個數中，數字「8」代表的數值是

* 8 / 80 / 800 (*圈出答案)。【1分】

10. 屋苑舉行了一次旅行，下表顯示參加這次旅行的人數。

	小童	成人	長者
人數(人)	138	226	103

(a) 把人數由少至多排列。【1分】

答案：_____ 人， _____ 人， _____ 人
(最少) (最多)

(b) 共有 _____ 人參加旅行。【1分】

11.



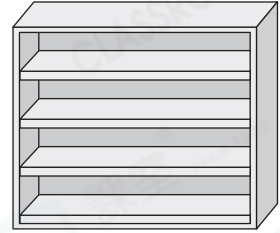
共有車輪：_____ \times _____ = _____ (個) 【1分】

12. 外婆今年70歲，與媽媽相差27歲，12年前媽媽多少歲？【1分】

答案：_____歲

13. (a) 右面的鞋櫃每層高25cm，這個鞋櫃高_____m。【1分】

(b) 每層可放4雙鞋子，這個鞋櫃共可放_____雙鞋子。【1分】



14. 超級市場舉行印花換領活動。



80個



250個



?個

(a) 換領一個水壺的印花剛好可換領4個杯子，換領一個杯子需要_____個印花。【1分】

(b) 陳太太換領2個平底鍋後，還餘下35個印花，她原有_____個印花。【1分】

15. 右圖是昨天的日曆。

(a) 今天是_____月_____日。【1分】

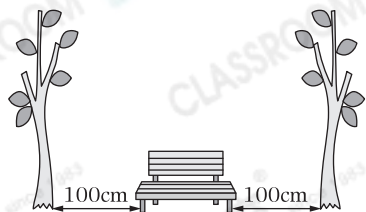
(b) 百貨公司由今天開始舉行一連三天的大減價，最後一天減價是星期_____。【1分】



16. 右圖中，兩棵樹之間的距離

* 大於 / 等於 / 小於 2m。【1分】

(* 圈出答案)



17. 書展規定身高超過120cm的學生，須持成人票入場。



(a)* 立新 / 佳佳 / 小雲 / 學林 須持成人票進場。【1分】

(*圈出所有答案)

(b) 每張成人票售50元，以上四人入場，購買成人票共用了
_____元。【1分】

18. 以下的月曆部分被撕破了。

六月						
日	一	二	三	四	五	六
1	2	3	4	5	6	7
8	9	10	11	12	13	14
	16	17	18	19	20	21
		24	25	26	27	28

(a) 海洋館每逢星期日舉行童樂日，六月共有_____天童樂日。【1分】

(b) 童樂日的團體活動在11:30 a.m.開始，持續45分鐘，即在
_____午_____時_____分結束。【1分】

(c) 七月的第一個星期六是_____月_____日。【1分】

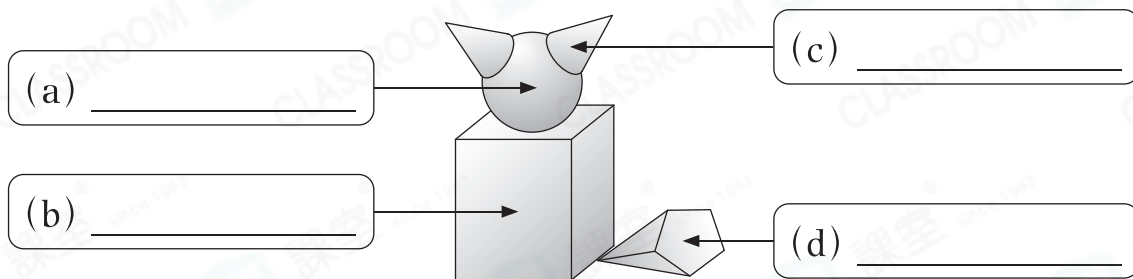
19.

渡輪服務時間(中環－馬灣)

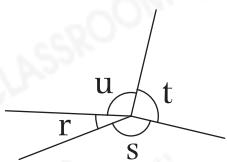
中環二號碼頭開出	7:00 a.m. – 11:30 p.m.
班次	每15分鐘一班
全程時間	22分鐘

- (a) 李先生在 8:10 a.m. 到達碼頭，他最快可乘搭 _____ 午
_____ 時 _____ 分開出的渡輪。【1分】
- (b) 爸爸乘搭最後一班渡輪去馬灣，他將會在 _____ 午
_____ 時 _____ 分到達。【1分】

20. 下圖有五個立體圖形，寫出它們的名稱。【4分，每分題1分】



21.



(a) 左圖中的鈍角是角 * r / s / t / u 。【1分】

(* 圈出所有答案)

(b) 把角 r、角 s 和角 t 由大至小排列。【1分】

答案：角 _____ ，角 _____ ，角 _____
(最大) (最小)

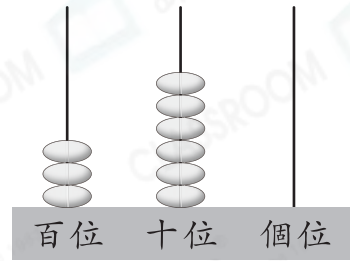
22. 一個立體圖形的底是六邊形，側面都是四邊形，它是一個

_____ 。【1分】

選出答案，把代表答案的○塗黑和塗滿。【10分，每題1分】

23. 下列哪一個數最接近右圖算柱所表示的數？

- A. 306 ○ B. 350
○ C. 361 ○ D. 400



24.




下列哪一項不能表示上圖氣球的總數目？

- A. 3的5倍 ○ B. $3 + 5$
○ C. 3×5 ○ D. $3 + 3 + 3 + 3 + 3$

25. 6套右圖的餐具，共有餐刀多少把？

- A. 0把 ○ B. 4把
○ C. 6把 ○ D. 12把




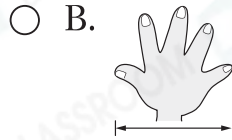
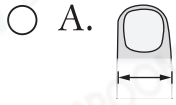
26. 凡購物滿\$500，加\$199可換購一個電飯煲。王先生購買一張價值\$589的被子，並換購一個電飯煲，共付款多少？


- A. \$689 ○ B. \$699 ○ C. \$778 ○ D. \$788

27. 下列哪一項描述是正確的？

- A. 平年有366天。
○ B. 每年有七個月是月大。
○ C. 二月最少有29天。
○ D. 平年每四年出現一次。

28. 下列哪一項最適合用來量度一間房間的長度？



29. 數學小測於  開始，半小時後結束，那時是

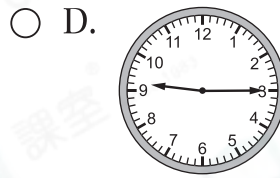
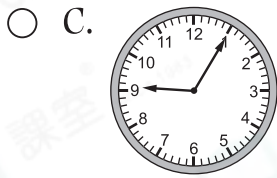
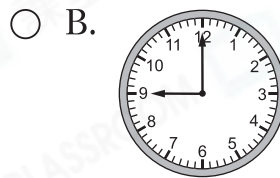
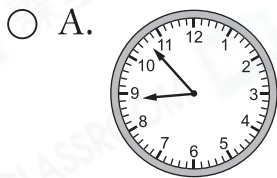
A. 上午10時20分。

B. 上午10時50分。

C. 下午11時20分。

D. 下午10時50分。

30. 爸爸在8時53分到達公司，17分鐘後去參加會議。他在開會期間接了一通電話，下列哪一項可能是當時接電話的時間？



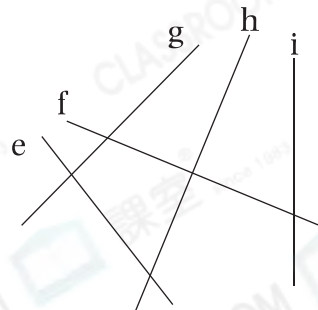
31. 右圖中，哪兩條直線相互垂直？

A. 直線e和g

B. 直線e和i

C. 直線f和h

D. 直線f和i



32. 下列哪一個立體圖形沒有曲面？

A. 球

B. 圓柱

C. 圓錐

D. 三角錐

列式計算下列各題。【18分，每題3分】

33. 公司準備了一些抽獎券，三等獎有 56 張，比二等獎多 29 張，一等獎比二等獎少 21 張，一等獎有多少張？



34. 便利店昨天售出了 7 排乳酸飲品，每排有 8 瓶，即售出乳酸飲品多少瓶？



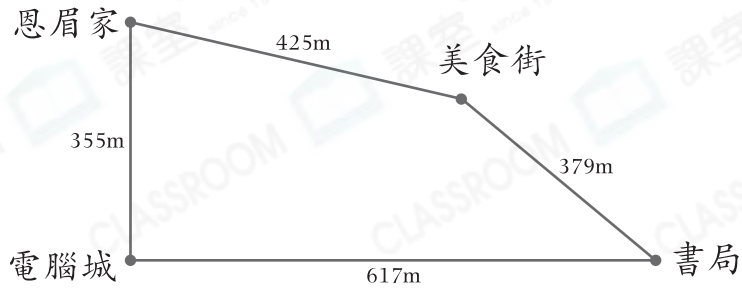
35.

種類	擦膠	剪刀	直尺
售價(元)	5	10	8

今天上午沒有人購買剪刀，文具店售出剪刀共收得多少元？



36.



恩眉從家出發到書局買書，最少需要走多遠？

37. 媽媽買半打燈籠，須付款多少元？



38. 小志昨天看了7頁故事書，哥哥看的頁數是小志的4倍，哥哥昨天看了故事書多少頁？

— 全卷完 —