

姓名：_____

班別：_____ ()

日期：_____

成績：_____ /62

限時：40分鐘

範圍：練習1-28

綜合測試(二)

計算下列各題。【8分，每題1分】

1. $4 \times 9 =$ _____

2. $0 \times 7 =$ _____

3. $20 \div 4 =$ _____

4. $39 \div 8 =$ _____

5. $478 + 197 =$ _____

6. $56 - 18 =$ _____

7. $615 - 136 =$ _____

8. $316 - 108 + 82 =$ _____

回答下列各題。【27分】

9.



天文館今天的入場人數是三千二百五十人。

用阿拉伯數字寫出天文館今天的入場人數。【1分】

答案：_____人

10. 購買2杯布甸，共須付款多少？【1分】

答案：_____元_____角



\$8.10

11. 音樂室擺放了9行椅子，每行有8張椅子。

(a) 音樂室共有_____張椅子。【1分】

(b) 2A班有28名學生，他們由第一行開始順序入座，最後一名學生入座第_____行。【1分】

12. 寫出一個比989大，又比1020小的奇數。【1分】

答案：_____

13.

快樂自助餐廳

每位 \$409

*逢星期二，每位減 \$25

星空自助餐廳

每位 \$456

*二人同行，第二人減 \$98

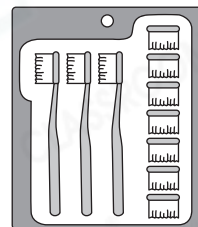
(a) 快樂自助餐廳 在星期二每位收費 _____ 元。【1分】

(b) 陳先生 夫婦在星期六去吃自助餐，他們應選擇哪間餐廳會較便宜？試解釋。【2分】

答案：因為在快樂自助餐廳須付：_____，
在星空自助餐廳須付：_____，
所以他們選擇去_____自助餐廳會較便宜。

14. 員工把 27 枝牙刷和 56 個牙刷頭包裝成右圖的套裝出售。最多可包裝成套裝多少個？【1分】

答案：_____ 個




15. 大廈的升降機在 11:30 a.m. 至 3:30 p.m. 例行檢查並暫停使用。

(a) 升降機停止運作 _____ 小時。【1分】

(b) 美晴 在升降機恢復運作 40 分鐘後回到家，那時是 _____ 午 _____ 時 _____ 分。【1分】

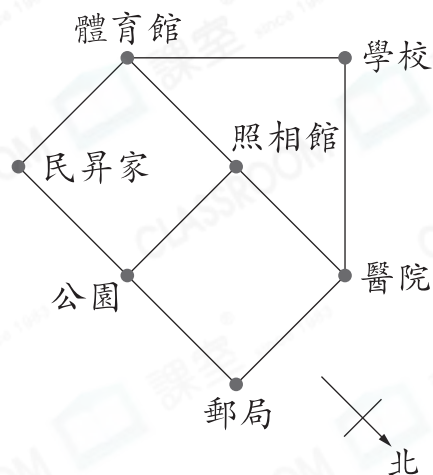
16. 以下是林先生有的款項。



每份禮物售 200 元，林先生最多可買 _____ 份禮物。【1分】

17. (a) 民昇由家向_____方走，經體育館，再向_____方走，便可到達照相館。【1分】

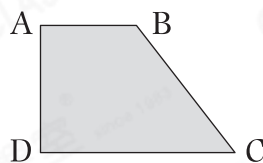
(b) 民昇在照相館印相片，並以一張50元紙幣付款，店員找回22元8角給他，印相片用了_____元_____角。【1分】




18. 右圖中，

(a) 共有_____個直角。【1分】

(b) AD和_____是一組鄰邊。【1分】



19.




P



Q



R



S



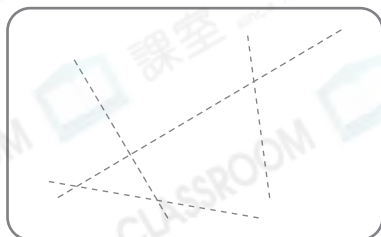
T

(a) 正方形：_____【1分】

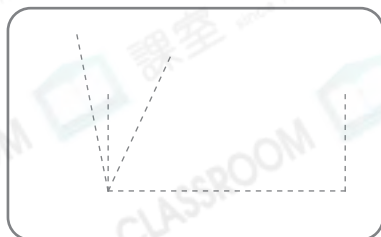
(b) 長方形：_____【1分】

20. (a) 在圖一中，沿虛線畫出一組垂直線。【1分】

圖一



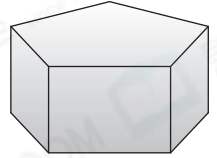
圖二



(b) 在圖二中，沿虛線畫出一個最大的銳角。【1分】

21. 右圖是一個禮物盒。

(a) 這個禮物盒是一個 _____ ，
它共有 _____ 個側面。【1分】



(b) 這個盒子的側面是 _____ 形。【1分】

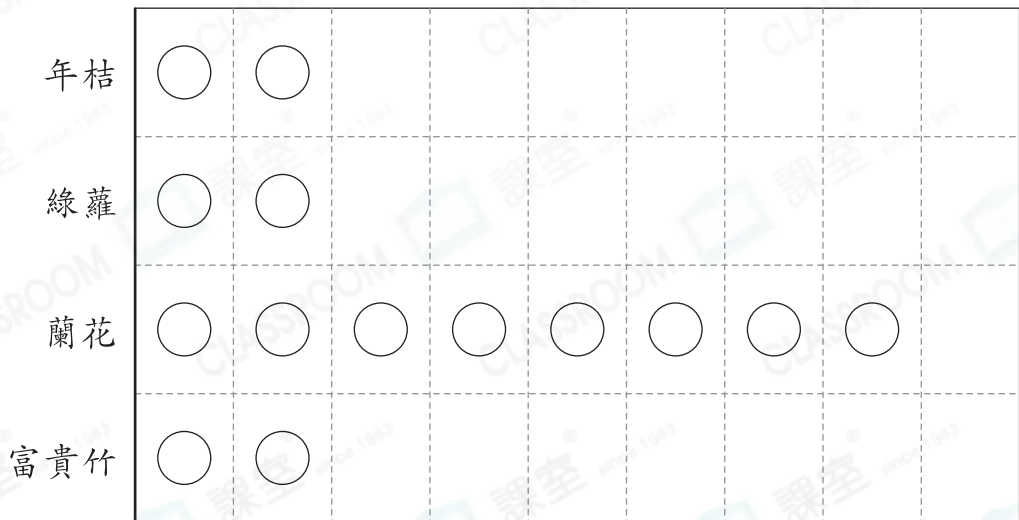
22. 經理統計了酒店購買盆栽的數量。

種類	年桔	綠蘿	蘭花	富貴竹
數量(盆)	6	4	8	5

(a) 根據統計結果，完成以下的象形圖並加上標題。【2分】

(標題)

每個○代表1盆



(b) 比較數量最多和最少的兩種盆栽，相差 _____ 盆。【1分】

(c) 每盆富貴竹售 \$200，酒店用了 \$ _____ 購買富貴竹。

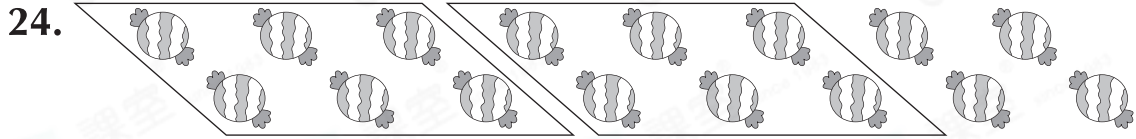
【1分】

(d) 酒店共購買了 _____ 盆盆栽。【1分】

選出答案，把代表答案的○塗黑和塗滿。【9分，每題1分】

23. 在4035這個數中，數字「3」的數值是「5」的多少倍？

- A. 2倍 ○ B. 4倍 ○ C. 6倍 ○ D. 8倍



下列哪一道算式可把上圖中分物的方式表示出來？


- A. $16 \div 2 = 6 \cdots 4$ ○ B. $16 \div 6 = 2 \cdots 4$
○ C. $12 \div 2 = 6$ ○ D. $12 \div 6 = 2$

25. 一個箱子可裝250個扭計骰，貨倉有5箱扭計骰，其中一個箱子沒有裝滿，貨倉最多有扭計骰多少個？

- A. 999個 ○ B. 1000個
○ C. 1249個 ○ D. 1250個

26. 右面展板的長度可能是多少？

- A. 80cm
○ B. 1m
○ C. 130cm
○ D. 1m50cm



27. 靜茵有3張 、5張 和2個 ，她購買了一個售價是260元的書包，共有多少種不需要找贖的付款方法？

- A. 1種 ○ B. 3種 ○ C. 5種 ○ D. 6種

28. 促銷活動的第五天是

- A. 6月30日。
- B. 7月1日。
- C. 7月2日。
- D. 7月3日。

正暉文具店

全場滿\$60減\$20

促銷時間：6月28日至7月3日

29.

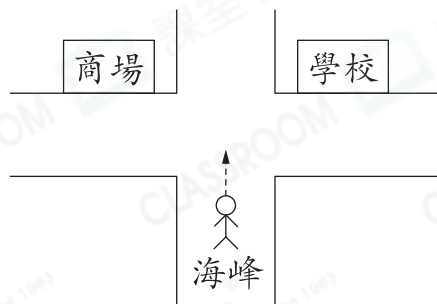


沿虛線把上面的四邊形剪開後，可得到兩個圖形。下列哪一項關於圖形P的描述是正確的？

- A. 四邊長度相等
- B. 對邊長度相等
- C. 只有一個直角
- D. 鄰邊長度相等

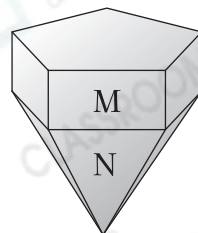
30. 海峰沿着路向西方走，當他到達岔路口時，他應向什麼方向走才能走到學校？

- A. 東方
- B. 南方
- C. 西方
- D. 北方



31. 右圖中，M和N兩個立體圖形的底完全重合。N是哪種立體圖形？

- A. 四角柱
- B. 四角錐
- C. 五角錐
- D. 五角柱



列式計算下列各題。【18分，每題3分】

32.

A店



\$369

B店




\$359

王太太到售價較便宜的商店買了一個手袋，她付了500元，應找回多少元？



33. 右圖是今天的日曆，哥哥逢星期六去做義工2小時，他在五月共做義工多少小時？



34. 遮陽帽的存貨量不足，商場購入300頂。賣出239頂後，還餘下97頂遮陽帽，在購入遮陽帽前，商場有遮陽帽多少頂？



35.



店主把上面的雞翼每4隻串成一串，共可串成多少串？



36. 芳晴購買一個右面的公仔，她節省了多少？



特價
\$66.80

~~\$73.90~~

37. 每輛纜車可載6人，現在有36人排隊等候纜車，駿豪前面有24人，他最快搭乘第幾輛纜車？



— 全卷完 —