

## 易錯舉例

易錯點：誤以為越大的物件越重。

例  比  \* 重 / 輕 (\*圈出答案)。

 錯解  重 /  輕

 正解 重 /  輕



小貼士：物件的重量不一定與其大小相關。

## 即學即練

1. 依指示圈出物件。

(a) 較輕的



(b) 較重的



2. 把右面物件由重至輕排列，寫出代表答案的英文字母。

答案：\_\_\_\_\_，\_\_\_\_\_，\_\_\_\_\_。  
(最重) (最輕)



A



B



C

## 基礎訓練

3. \*  /  (\*圈出答案)較重。


4. 下列哪一件物件比一個羽毛球輕？




A. 一個乒乓球

B. 一個足球

C. 一個橄欖球


D. 一個網球

5. (a) 用 \*  /  (\*圈出答案)來量度  的重量較合適。

(b) 用 \*  /  (\*圈出答案)來量度  的重量較合適。

應用天地

6.

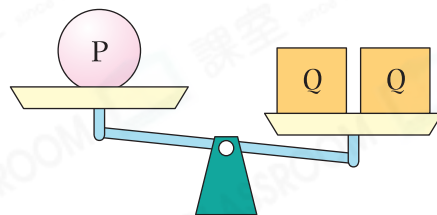


以上哪種/些動物比一隻山羊重？寫出所有代表答案的英文字母。

答案：\_\_\_\_\_

7. 根據右圖，下列哪一項描述是正確的？

- A. P 和 Q 的重量相等。
- B. P 比 Q 重。
- C. P 比 Q 輕。
- D. 無法比較 P 和 Q 的重量。



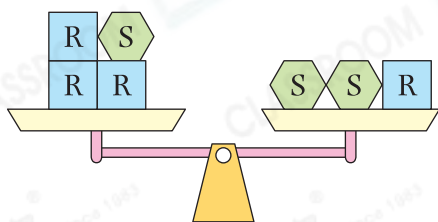
8.



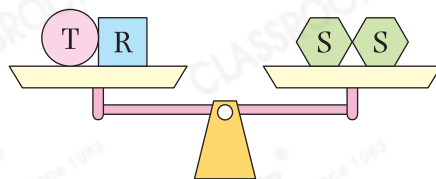
(a) 重 \_\_\_\_\_ 塊 。

(b) 重 \_\_\_\_\_ 塊 。

9.



圖一



圖二

根據上圖，哪件物件最重？

答案：物件 \_\_\_\_\_

解題思路

① 由圖一可知 = \_\_\_\_\_ 個 。

② 把 ① 代入圖二：

+ = \_\_\_\_\_ 個 。