

跨課題應用(一)

練習 1 至 14

時限
20 分鐘

1.

1

2

1

4

3


(a) 雅婷用上面的數字卡拼出三個不同的五位奇數，然後把它們由小至大排列出來。第二個數是 12341，在橫線上填上適當的數。

答案：_____，12341，_____
(最小) (最大)

(b) 思翰用上面的數字卡組成一題「三位數 × 一位數 × 一位數」的算式，寫出其中結果最大的算式，並計算出結果。

答案：_____ × _____ × 4 = _____

2.



(a) 一袋曲奇餅比三袋巧克力* 重 / 輕 _____ g。

(* 圈出答案)

(b) 每袋巧克力有 3 顆，平均每顆巧克力重多少？(列式計算)



CLASSROOM Tips

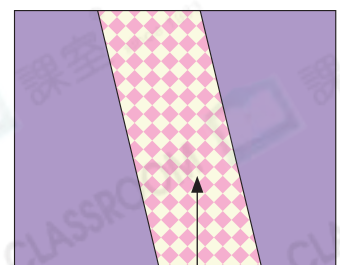
留意重要字眼「每顆」。

3. 右面的長方形設計由 1 張花紙和 2 張顏色紙組成。

(a) 花紙是什麼形狀？

答案：_____ 形

(b) 工人用該設計鋪滿牆壁，用了 120 張花紙，即共用了 _____ 張顏色紙。



花紙



4. 右圖是安寧的貼紙。

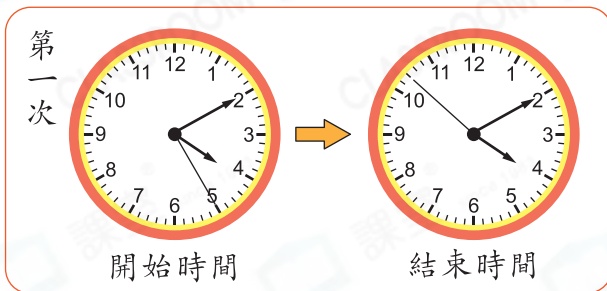
(a) 這張貼紙是什麼形狀？

答案：_____形

(b) 貼紙的長度是_____毫米。



5. 樂怡在跑道上練習跑步，以下是她首兩次練習的開始時間和結束時間。



(a) * 第一次 / 第二次 (*圈出答案)練習所用的時間超過半分鐘。

(b) 跑道每 80m 分成一段，共分成 4 段，跑道長多少？(列式計算)



6.

君悦自助餐廳

入場券 (小童半價)

* 營業時間：5:00 p.m. – 10:00 p.m.

何先生一家在 20:45 到達君悦自助餐廳。

(a) 他們購買成人入場券和小童入場券各兩張，共付了 894 元。每張成人入場券售_____元。

(b) 他們花了 1 小時用餐，離開君悦自助餐廳時，距離營業結束時間還有_____分鐘。



CLASSROOM Tips

兩張小童入場券的價錢相當於一張成人入場券的價錢。