

階段性評估(二)

練習8至14

時限
20分鐘

計算下列各題。【6分，每題1分】

1. $44 \div 2 =$ _____

2. $64 \div 5 =$ _____

3. $874 \div 7 =$ _____

4. $612 \div 6 =$ _____


5. $918 \div 9 \div 3 =$ _____

6. $448 \div 7 \div 8 =$ _____

回答下列各題。【6分】

7. 學校需要給新圖書館安裝260個燈膽。每盒燈膽有9個，學校至少要購買 _____ 盒燈膽。【1分】

8.



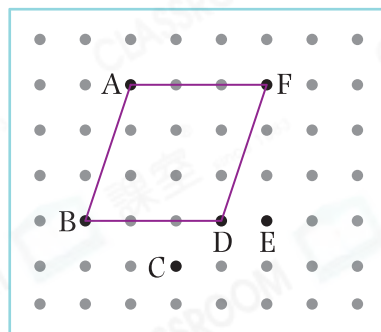
左圖中，葡萄的重量是多少？【1分】

答案： _____
(答案須寫上單位)

9. 卓伶用橡皮圈把A、B、D和F四點圍起來。

(a) 她圍出了一個 _____ 形。【1分】


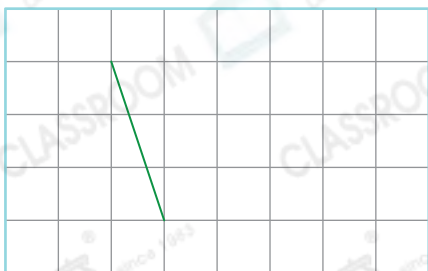
(b) 她把橡皮圈由D點移往 _____ 點，
將會圍出一個梯形。【1分】



10. 在各圖中加畫線段，與原有的線段組成指定的四邊形。【2分，每分題1分】

(a) 平行四邊形

(b) 梯形



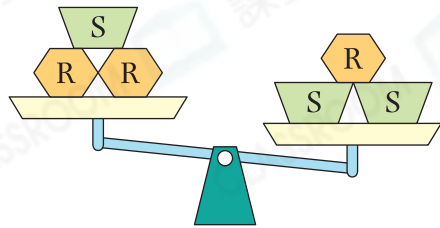
選出答案，把代表答案的○塗黑和塗滿。【4分，每題1分】

11. 在10458這個數中，「4」的數值是「8」的多少倍？

- A. 200 B. 50 C. 5 D. 2

12. 細閱右圖，下列哪一項是正確的？

- A. R和S的重量相等。
 B. R比S輕。
 C. R比S重。
 D. 無法比較R和S的重量。



13. 下列哪一個中文字沒有平行線？

- A. 大 B. 日 C. 川 D. 平

14. 正方形、長方形和平行四邊形一定有以下哪一種共同性質？

- A. 最少有一個直角 B. 四邊相等
 C. 四角相等 D. 兩組對邊平行

列式計算下列各題。【6分，每題3分】

15. 立信有97元，他最多可以購買塗改液多少枝？



文具價目表

鉛筆	\$2
原子筆	\$5
塗改液	\$7

16. 每箱牙刷的數量相同，3箱牙刷共有450枝。店員將其中一箱牙刷每6枝包裝成一盒，共可包裝成多少盒？

