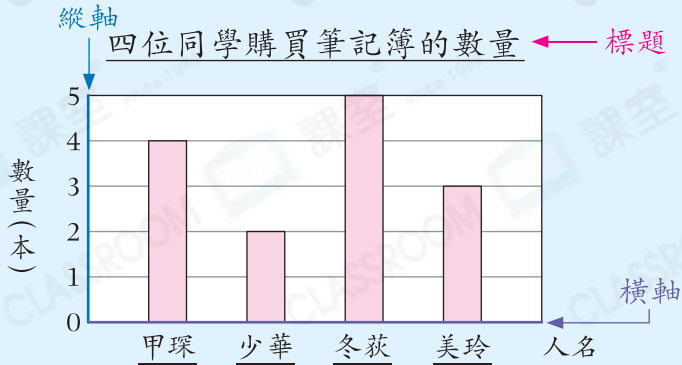


知識要點

✓ 棒形圖：以棒的高度或長度表示每項的數目。

例



試一試

根據左圖，冬荻購買了筆記簿多少本？

答案：_____本

易錯舉例

易錯點：沒有留意题目的關鍵字眼。

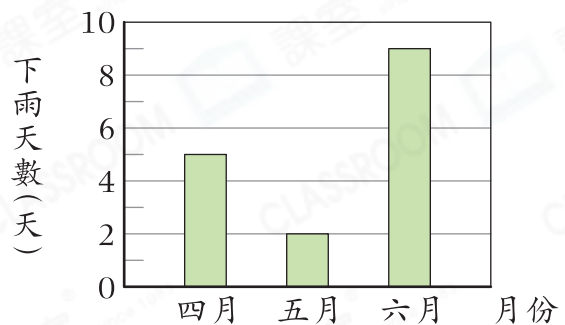
例 A城六月有_____天未下雨。

錯解 9

正解 21 六月有30天。
 $30 - 9 = 21$

小貼士：須回答「未下雨」天數，而不是「下雨」天數。

A城第二季下雨的天數



即學即練

1. 右圖顯示佳媚儲蓄硬幣的數量。

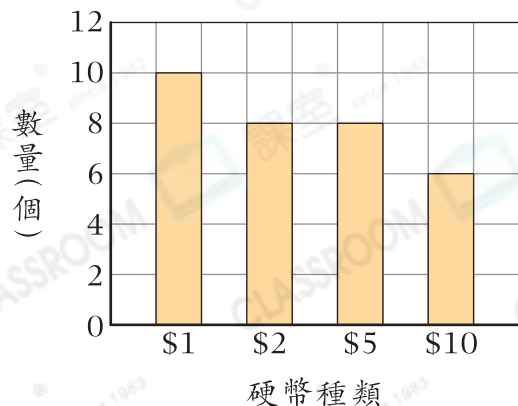
(a) 哪種硬幣的總值最多？

答案：_____硬幣

(b) \$5硬幣和\$10硬幣的總值相差\$_____。

(c) 她共儲蓄了_____個硬幣。

佳媚儲蓄的硬幣

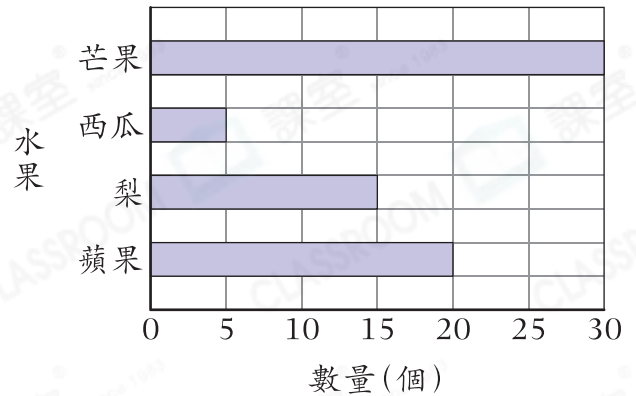


基礎訓練

2. 右圖顯示水果店過去一小時售出的水果數量。

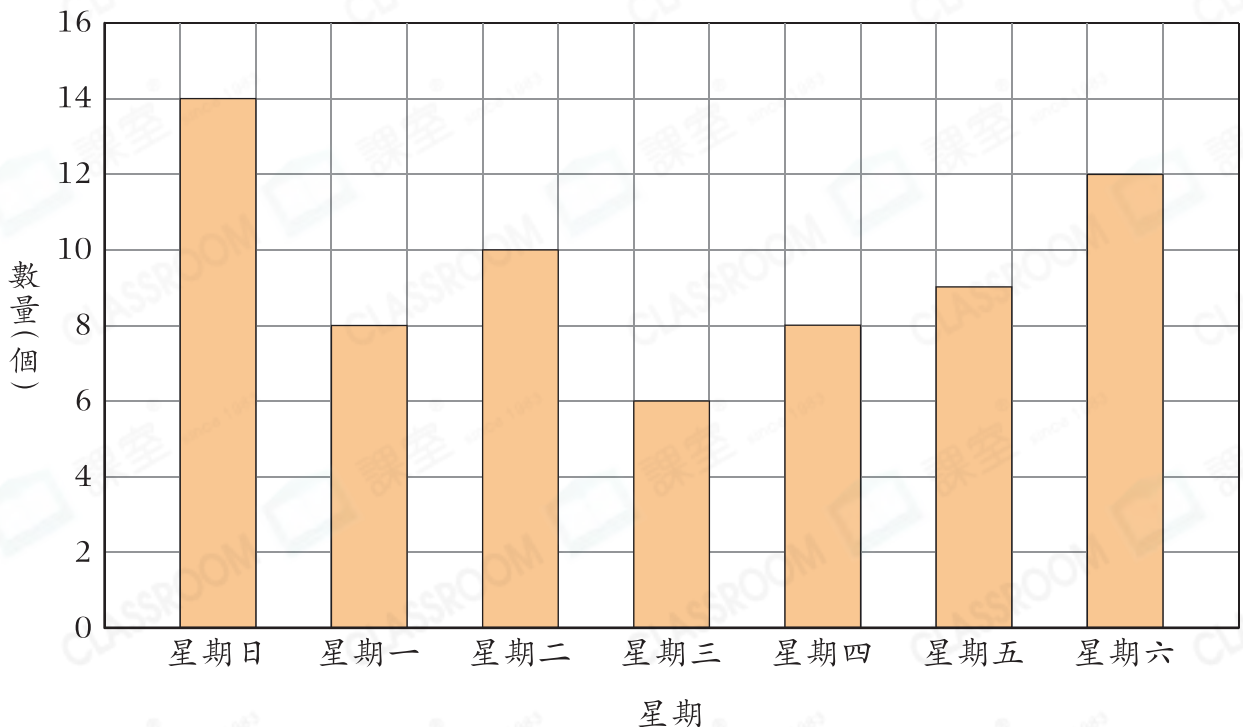
- (a) _____ 的銷量最低，只有 _____ 個。
- (b) 芒果的銷量是 _____ 的 2 倍。
- (c) 售出的蘋果中，一半是青蘋果。即售出 _____ 個青蘋果。

過去一小時售出的水果數量



3. 下圖顯示上星期西餅店用去蛋糕盒的數量。

上星期西餅店用去蛋糕盒的數量



(a) 哪兩天用去的蛋糕盒數量相同？

答案：星期 _____ 和星期 _____

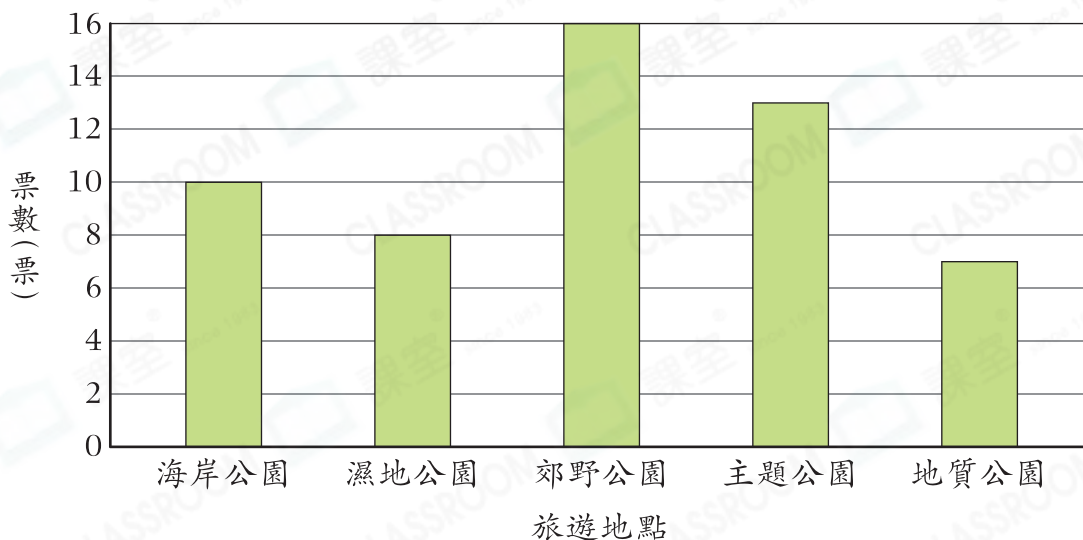
(b) 星期三用去的蛋糕盒比星期六用去的少 _____ 個。

(c) 每個蛋糕盒價值 5 元，上星期用去的蛋糕盒共值 _____ 元。

應用天地

4. 某公司員工以一人一票的方式選出旅遊地點，以下是投票結果。

某公司選擇旅遊地點的投票結果



- (a) _____ 的票數比濕地公園的少。
- (b) 下列哪一項說法是正確的？
- A. 海岸公園比濕地公園多得1票。
 - B. 郊野公園比主題公園多得4票。
 - C. 濕地公園和主題公園共得21票。
 - D. 海岸公園和地質公園共得16票。
- (c) 票數在10票或以上的旅遊地點有_____個。
- (d) 投票當日有2人因病而缺席投票，該公司共有_____名員工。

開放題

5. 承上題，最終郊野公園被選為旅遊地點。若加上2名缺席員工的投票，會否改變投票結果？為什麼？

答案：因為_____

所以* 會 / 不會 (*圈出答案)改變投票結果。