

易錯舉例

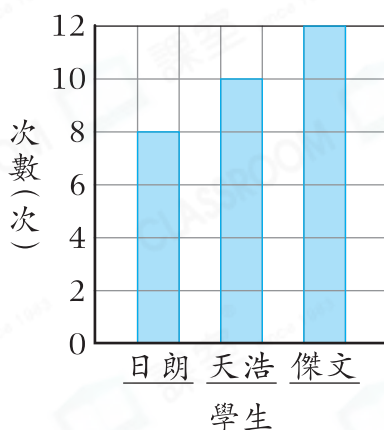
易錯點：誤以為每格代表的數目是1。

例 下表顯示三名學生默書滿分的次數。根據下表，完成棒形圖。

學生	日朗	天浩	傑文
次數(次)	4	5	6

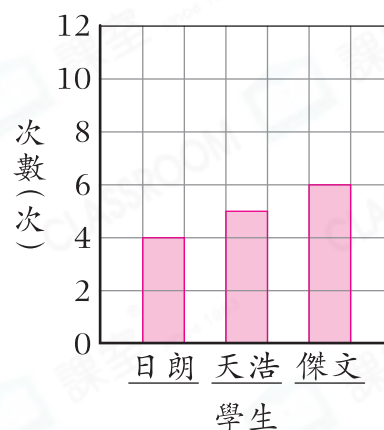
錯解

三名學生默書滿分的次數



正解

三名學生默書滿分的次數



小貼士：先找出每格代表多少，再畫出對應的棒。

即學即練

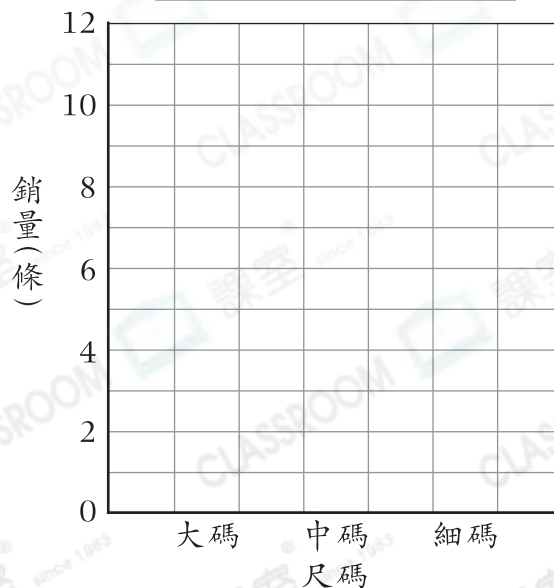
1. 店員記錄了服裝店運動褲的銷量。

(a) 根據記錄完成下表。

尺碼	大碼	中碼	細碼
記錄	正下	正	正正
銷量(條)			

(b) 根據上表，完成右面的棒形圖。

服裝店運動褲的銷量

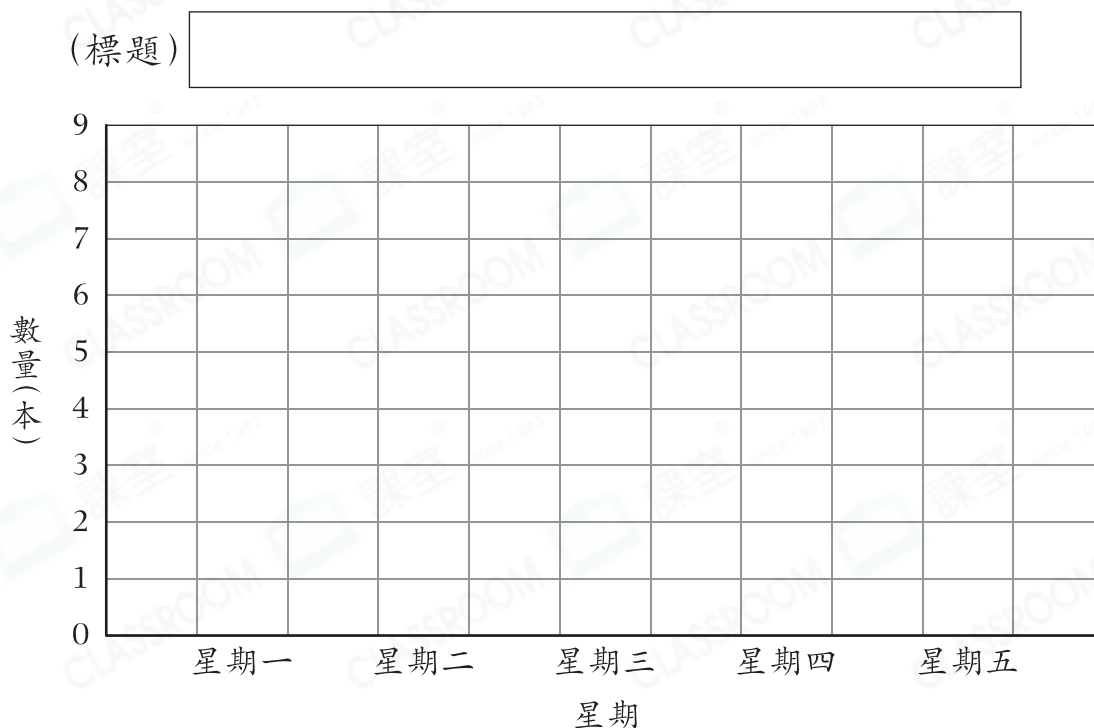


基礎訓練

2. 下表顯示上星期一至五圖書角借出圖書的數量。

星期	一	二	三	四	五
數量(本)	8	5	6	4	2

根據上表，完成以下棒形圖，並加上標題。



應用天地

3. 右圖顯示四間分店的員工人數。

- (a) 四間分店共有員工80人，在右圖畫出代表分店C員工人數的棒。
- (b) 分店_____的員工最少。
- (c) 分店B和分店D共有員工_____人。

四間分店的員工人數

