

階段性評估(四)

練習 22 至 28

時限
20分鐘

回答下列各題。【9分】




(a) 上圖中， 佔全部的_____。(以分數作答)【1分】

(b) 勤勤取走 的 $\frac{1}{5}$ ，即取走_____枚。【1分】

2. 在空格內填上適當的數字。【2分，每分題1分】



(a) 1 等於 $\frac{\square}{7}$ 。



(b) $\frac{4}{9}$ 比 $\frac{\square}{\square}$ 小。



用鉛筆塗黑左圖，使陰影部分佔全圖的 $\frac{3}{8}$ 。【1分】



盛滿水的 剛好注滿。

盛滿水的 剛好注滿_____個。【1分】

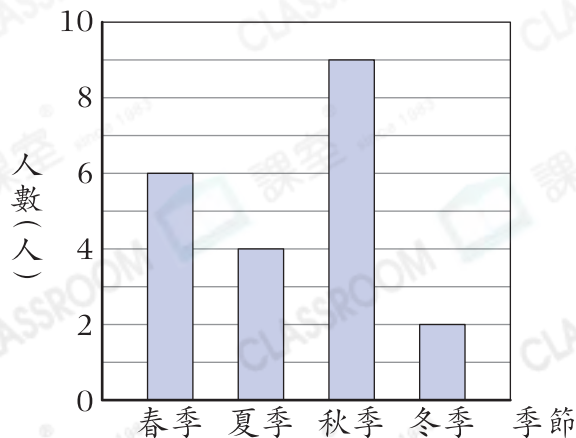
5. 右圖顯示 3A 班學生最喜愛的季節。

(a) 3A 班最喜愛_____季的學生最多。【1分】

(b) 3A 班最喜愛冬季的學生是最喜愛_____季的一半。【1分】

(c) 3A 班共有學生_____人。【1分】

3A班學生最喜愛的季節



選出答案，把代表答案的○塗黑和塗滿。【3分，每題1分】

6. 下列哪一個分數的值最大？

- A. $\frac{5}{17}$ ○ B. $\frac{5}{12}$ ○ C. $\frac{3}{17}$ ○ D. $\frac{7}{12}$

7. 下列哪一個物件最適合用來量度  的容量？

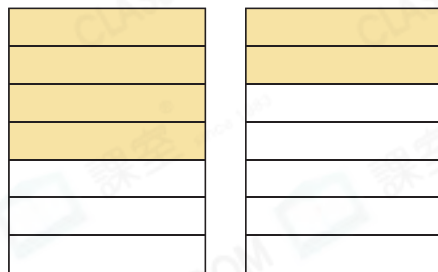
- A.  ○ B.  ○ C.  ○ D. 

8.  和  剛好注滿  的一半， 的容量是多
少？

- A. 900mL ○ B. 1L ○ C. 1800mL ○ D. 2L

列式計算下列各題。【6分，每題3分】

9. 芝玉用了 $\frac{4}{7}$ 張卡紙，秀蘭用了 $\frac{2}{7}$ 張卡紙。她們共用了卡紙多少張？



10. 盒子裏有 $\frac{7}{8}$ 個布甸，思宇吃了 $\frac{3}{8}$ 個，思彤吃了 $\frac{1}{8}$ 個。他們吃了的布甸相差多少個？

