

姓名：_____

班別：_____ ()

日期：_____

成績：_____ /57

限時：40分鐘

範圍：練習1-14

綜合測試(一)

計算下列各題。【6分，每題1分】

1. $25 \times 3 =$ _____

2. $149 \times 4 =$ _____

3. $155 \times 4 \times 5 =$ _____

4. $87 \div 3 =$ _____

5. $111 \div 2 =$ _____

6. $752 \div 2 \div 8 =$ _____

回答下列各題。【23分】

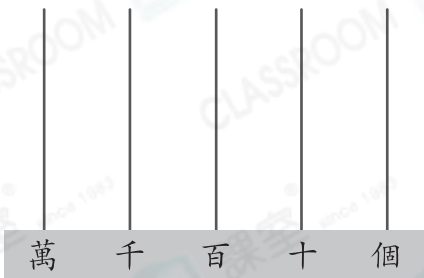
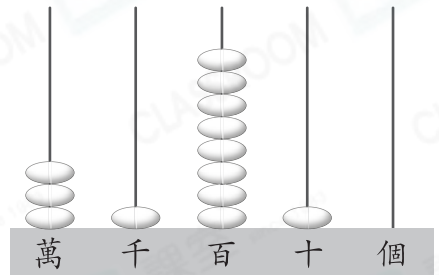
7. 在53401這個數裏，數字「3」的數值是

* 30000 / 3000 / 300 / 30 / 3 (*圈出答案)。【1分】


8. (a) 用中國數字寫出右圖算柱所表示的數。【1分】

答案：_____

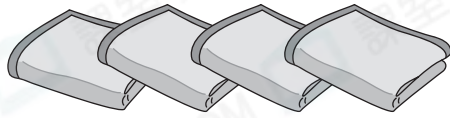
(b) 這個數加200是多少？把結果畫在下面的算柱上。【1分】



9. 李先生打算買右面的故事書送給三個姪女，如果她們各得一套，他須付款\$ _____。【1分】



10.



4條
特價 \$90

外婆買4條毛巾，平均每條毛巾價值多少？【1分】


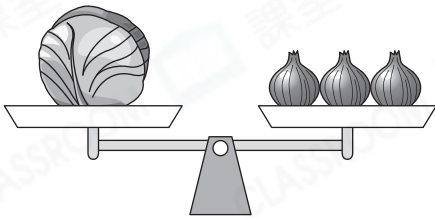
答案：_____元_____角



11. 文朗收到3封紅包，每封都是50元。

(a) 他共收到_____元。【1分】

(b) 每個代幣售5元，文朗盡用紅包的款項購買代幣，然後分給自己 and 兩個弟弟，平均每人分得_____個代幣。【1分】

12.



1個  的重量等於_____個  。【1分】

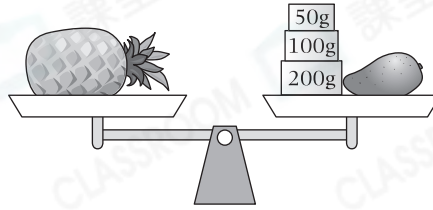

13. 以下是志峰的基本體能測試記錄表，在橫線上填上適當的度量單位。【2分，每個答案1分】

基本體能測試記錄表	
坐前伸	15cm
1分鐘仰臥起坐	28個
9分鐘耐力跑	1_____
手握力	26_____



李志峰
男

14.



(a) 的重量是 _____ 。（答案須寫上單位）【1分】

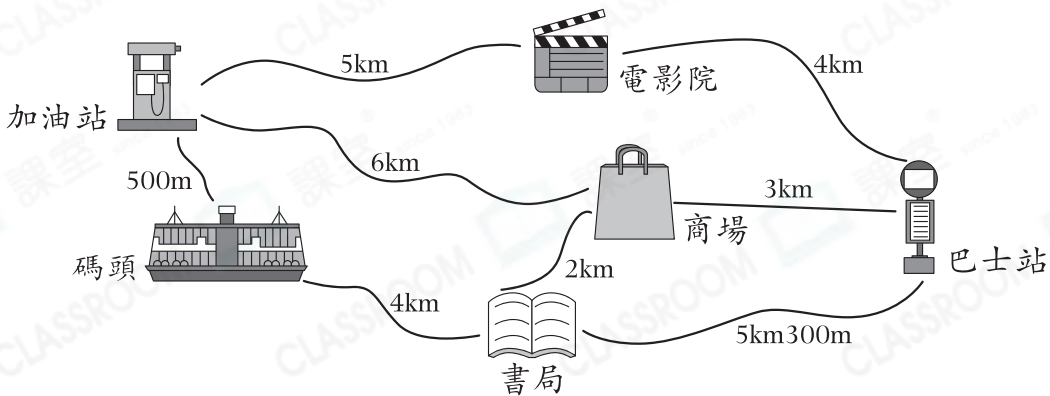
(b) 比 * 輕 / 重 (* 圈出答案) _____ g。【1分】

15.



上圖顯示明台唸急口令所需的時間，他比雪兒慢2秒，雪兒所需的時間是 _____ 秒。【1分】

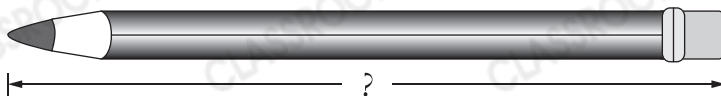
16.



(a) 叔叔駕車從商場經 _____ 去碼頭，只須行駛6km。【1分】

(b) 從書局到電影院，最短的路程是 _____ km。【1分】

17.

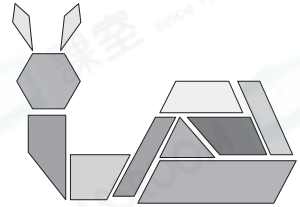


用尺子量度上面鉛筆的長度。鉛筆的長度是 _____ 毫米。【1分】

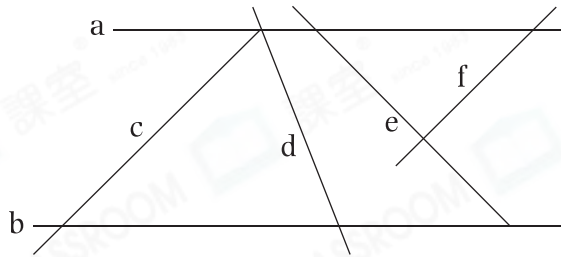
18. 家樂用不同的平面圖形拼砌出一幅圖畫。

(a) 圖中共有_____個平行四邊形。【1分】

(b) 圖中共有_____個梯形。【1分】



19.



上圖中，



(a) 直線_____和直線_____相互垂直。【1分】

(b) 共有_____組平行線。【1分】

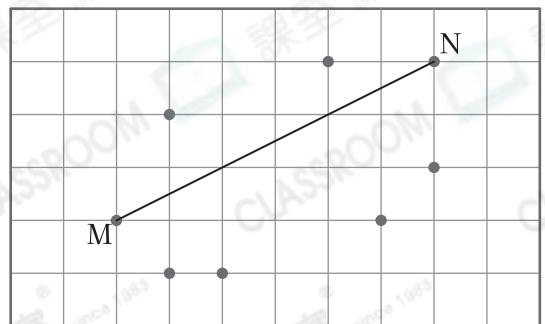
20. 在下面的釘板上畫出指定的四邊形。【2分，每分題1分】

(a) 平行四邊形

(b) 梯形



21. 在右圖中選取兩點，把它們連成一條線段，使它和線段MN組成一組平行線。【1分】



選出答案，把代表答案的○塗黑和塗滿。【10分，每題1分】

22. 把三個五位數由小至大排列如下：

29085, , 30217
 (最小) (最大)

空格裏的數可能是：

- A. 20925 B. 29000 C. 29850 D. 30712

23. 每個髮圈售 \$8，優惠期間「買五送一」。
 銀萍買一打髮圈，她共須付款多少？



- A. \$40 B. \$48
 C. \$80 D. \$96

24. 報攤今天上午售出 780 份報紙，是下午的 3 倍，報攤今天下午售出報紙多少份？

- A. 26 份 B. 234 份 C. 260 份 D. 2340 份

25. 數學測試在 11:30 a.m. 結束，考試時間長 50 分鐘。數學測試在什麼時候開始？

- A. 上午 10 時 40 分 B. 下午 10 時 40 分
 C. 上午 12 時 20 分 D. 下午 12 時 20 分









26.

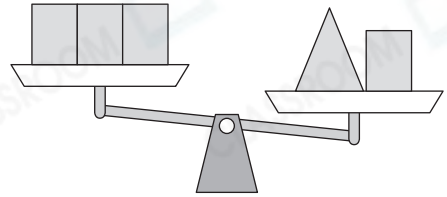
膠棒	紅色	黃色	藍色	綠色
長度	10cm	90mm	75mm	8cm5mm

以上四枝膠棒中，哪一種顏色的膠棒最長？

- A. 紅色 B. 黃色 C. 藍色 D. 綠色

27. 細閱右圖，以下哪一項是正確的？

- A.  和  的重量相等。
- B.  比  輕。
- C.  比  輕。
- D. 無法比較  和  的重量。



28. 煙花匯演在下午8時15分開始。下列哪一項可能是煙花匯演的結束時間？

- A. 18:10
- B. 18:40
- C. 20:10
- D. 20:40

29. 下列哪一種四邊形只有一組平行線？

- A. 正方形
- B. 長方形
- C. 平行四邊形
- D. 梯形

30. 玉潔有三根長度相等的竹枝，她把其中一根竹枝平均分成兩段，然後用這些竹枝製作平面圖形，她可以製作下列哪個/些圖形？

I. 正方形 II. 長方形 III. 平行四邊形

- A. 只有 I
- B. 只有 II
- C. 只有 I 和 II
- D. 只有 II 和 III

31. 下列哪一項描述是必定錯誤的？

- A. 梯形是平行四邊形的一種。
- B. 梯形可能有兩個直角。
- C. 正方形是平行四邊形的一種。
- D. 長方形是平行四邊形的一種。

列式計算下列各題。【18分，每題3分】

32. 曉婕和3位朋友各點了一碗麵，他們最少須付款多少？



價目表	
	每碗
排骨麵	\$40
牛腩麵	\$38
海鮮麵	\$42

33. 馬路兩邊各安裝了24根右面的燈柱，給所有燈柱換上新的燈泡，共需要燈泡多少個？



34.



經理

一台機器每天可生產
992卷衛生紙。

機器把衛生紙每8卷包裝成一包，每4包放入一個紙箱，這台機器每天可生產衛生紙多少箱？



35. 立信和三位朋友去吃海鮮自助餐，共付了\$972，每位原價是多少？

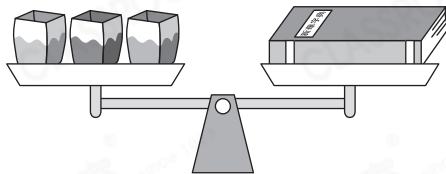

海鮮自助餐

原價：\$ 

**四人惠顧
一人免單**



36.



根據上圖，一本字典重多少克？

37. 一本童話故事書有192頁，哥哥每天看5頁，他在第幾天才看到第98頁？

— 全卷完 —