

姓名：\_\_\_\_\_

班別：\_\_\_\_\_ ( )

日期：\_\_\_\_\_

成績：\_\_\_\_\_ /64

限時：40分鐘

範圍：練習1-28

## 綜合測試(二)

計算下列各題。【6分，每題1分】

1.  $63 \times 6 =$  \_\_\_\_\_

2.  $840 \div 5 \div 8 =$  \_\_\_\_\_

3.  $2648 + 2567 =$  \_\_\_\_\_

4.  $8493 - 3547 =$  \_\_\_\_\_

5.  $7613 - (3214 + 1245) =$  \_\_\_\_\_

6.  $(104 + 21) \times (5 + 3) =$  \_\_\_\_\_

回答下列各題。【28分】

7. 寫出一個比29678大，又比30076小的偶數。【1分】

答案：\_\_\_\_\_


8. 甜品店上月售出1535碗楊枝甘露、980碗綠豆沙和1042碗紅豆沙。甜品店上月共售出豆沙多少碗？【1分】

答案：\_\_\_\_\_碗

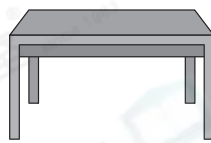
9. 佳君和兩個弟弟共有36粒波子，平均每人有\_\_\_\_\_粒。【1分】

10.

購物每滿\$1000減\$50



\$2250



\$1030

(a) 陳太太購買一張沙發，須付\_\_\_\_\_元。【1分】

(b) 張先生有兩張500元紙幣，購買一張書桌，他\* 還餘 / 尚欠

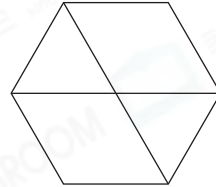
(\* 圈出答案) \_\_\_\_\_元。【1分】

11. (a) 在空格內填上適當的數字。【1分】


$\frac{7}{9}$  比  $\frac{7}{\square}$  大。

(b)  $\frac{5}{5}$  \* 小於 / 等於 / 大於 (\*圈出答案) 5。【1分】

12. 用鉛筆把全圖的  $\frac{1}{3}$  塗上  
陰影。【1分】



13. 點心師傅煮了 10 碗湯圓，其中  $\frac{3}{5}$  是花生湯圓，3 碗是紫薯湯圓，其餘的是芝麻湯圓。



(a) 花生湯圓有 \_\_\_\_\_ 碗。【1分】

(b) 芝麻湯圓佔全部湯圓的幾分之幾？【1分】

答案：\_\_\_\_\_

14.

### 圖書館開放時間

星期一、二、四、五、六及日 10:00 至 21:10

星期三 13:00 至 21:00

公眾假期 10:00 至 19:00

(a) 圖書館最晚在 \_\_\_\_\_ 午 \_\_\_\_\_ 時 \_\_\_\_\_ 分閉館。【1分】

(b) 今天是國慶日。紹洋在下午 4 時到達圖書館，他最多可在圖書館逗留 \_\_\_\_\_ 小時。【1分】

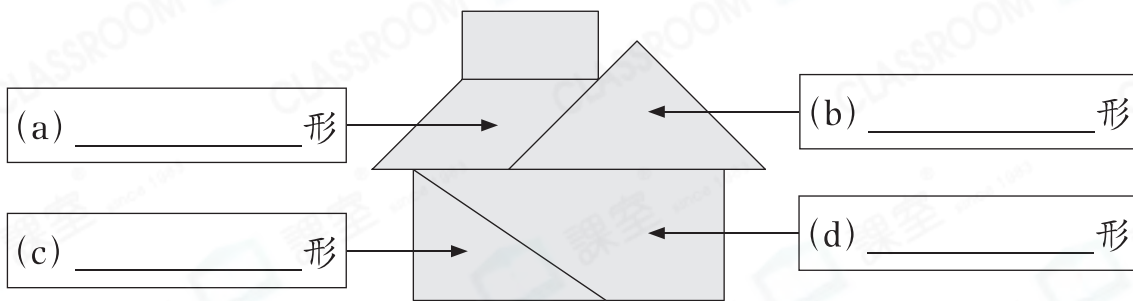
15. 在橫線上填上適當的度量單位。【4分，每分題1分】

- (a) 一塊擦膠厚約 12 \_\_\_\_\_。
- (b) 一個嬰兒浴盆的容量約是 45 \_\_\_\_\_。
- (c) 一隻寵物狗重約 8 \_\_\_\_\_。
- (d) 一個礦泉水瓶的容量約是 550 \_\_\_\_\_。

16.  和  剛好注滿， 的容量是多少？【1分】

答案：\_\_\_\_\_ mL

17. 下圖由哪些平面圖形拼砌而成？填上它們的名稱。【4分，每分題1分】



(a) \_\_\_\_\_ 形

(b) \_\_\_\_\_ 形

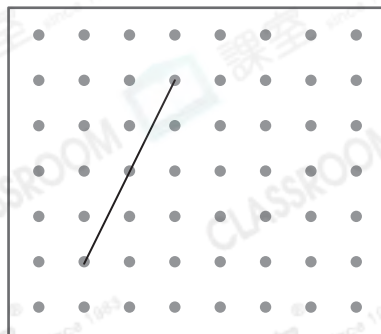
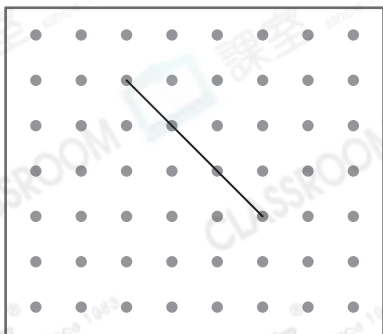
(c) \_\_\_\_\_ 形

(d) \_\_\_\_\_ 形

18. 在下面釘板上加上兩條線段，畫出指定的三角形。【2分，每分題1分】

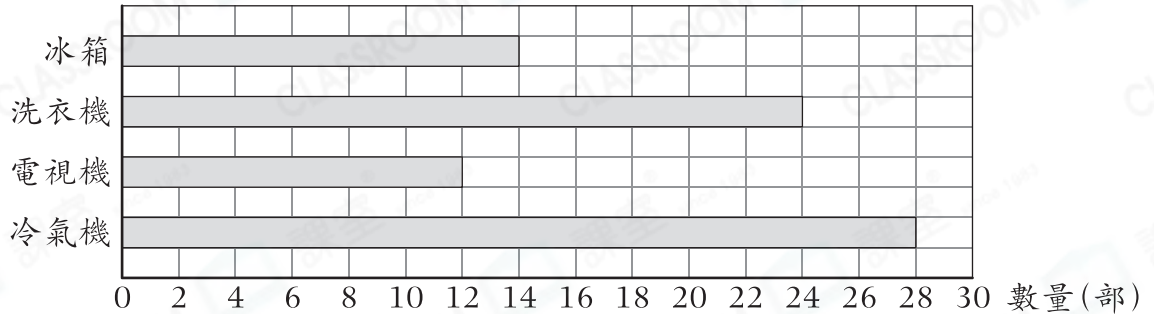
(a) 等腰直角三角形

(b) 不等邊三角形



19. 經理統計了電器店上星期各種電器的存貨量。

電器店上星期各種電器的存貨量



(a) \_\_\_\_\_ 和 \_\_\_\_\_ 的存貨量相差最少。【1分】

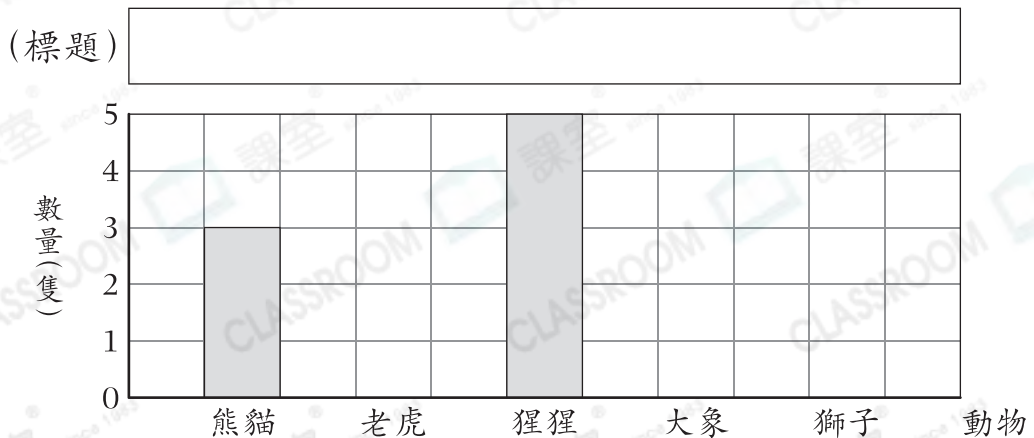
(b) 當某種電器的存貨量低於 $M$ 部時，下星期將購入這種電器。現只購入冰箱和電視機， $M$ 的值可能是多少？為什麼？【2分】

答案： $M$ 的值可能是 \_\_\_\_\_，因為 \_\_\_\_\_。

20. 志揚統計了動物園內五種動物的數量。

動物	熊貓	老虎	猩猩	大象	獅子
數量(隻)	3	2	5	3	1

根據統計結果，完成以下棒形圖，並加上標題。【2分】



選出答案，把代表答案的○塗黑和塗滿。【12分，每題1分】

21. 9452最少加上多少才是一個五位奇數？

- A. 548       B. 549       C. 648       D. 659

22. 下列哪一個圖形的陰影部分大於全圖的 $\frac{3}{4}$ ？

- A.        B.        C.        D. 

23. 下列哪一道算式的值比「 $8 \times (50 - 17)$ 」的大？

- A.  $8 \times 33$        B.  $8 \times 50 - 8 \times 17$   
 C.  $8 \times 50 - 17$        D.  $8 \times 17 - 50$

24. 下列哪一個分數的值在 $\frac{3}{11}$ 和 $\frac{3}{5}$ 之間？

- A.  $\frac{3}{13}$        B.  $\frac{3}{8}$        C.  $\frac{3}{4}$        D.  $\frac{3}{3}$


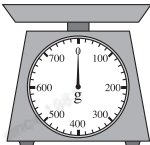
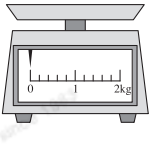

25. 文具店原有258個筆盒，售出9打筆盒後，文具店現在共有筆盒多少個？

- A. 150個       B. 246個       C. 249個       D. 366個

26. 下列哪一件物件最適合以「升」作為容量單位？

- A. 茶杯       B. 湯匙       C. 飯盒       D. 水煲

27. 王太太購買了一包重約100克的芝士條。下列哪一個量度工具最適合用來量度一包芝士條的重量？

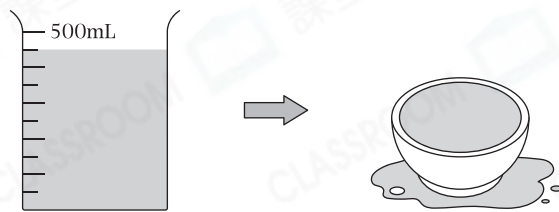
- A.        B.        C.        D. 

28. 某航班於  起飛，飛行4小時到達目的地。它在何時

到達目的地？

- A. 6:20 a.m.                       B. 8:20 a.m.  
 C. 6:20 p.m.                       D. 8:20 p.m.

29.



把量杯中的水全部倒入碗中，如上圖所示，碗的容量可能是多少？

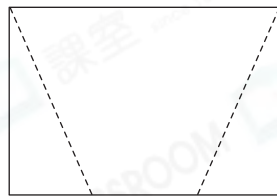
- A. 400mL       B. 450mL       C. 480mL       D. 500mL

30. 一個三角形的其中兩條邊分別長3cm和7cm，第三邊可能長

- A. 3cm。       B. 4cm。       C. 5cm。       D. 10cm。

31. 把右面的長方形沿虛線剪開，可得到

- A. 一個直角三角形和兩個平行四邊形。  
 B. 一個直角三角形和兩個梯形。  
 C. 兩個直角三角形和一個平行四邊形。  
 D. 兩個直角三角形和一個梯形。



32. 下列哪一項必定是錯誤的？

- A. 不等邊三角形可能有一個直角。  
 B. 等邊三角形只有兩條邊長度相等。  
 C. 等腰三角形有兩條邊長度相等。  
 D. 等邊三角形是等腰三角形的一種。

列式計算下列各題。【18分，每題3分】

33. 承安參加了半年的書法班，每個月的學費是\$780，他共須付學費多少？



34.


**積分換領計劃**



4250分



3580分



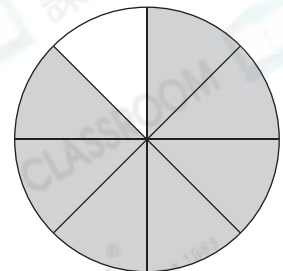
1055分

夢如在玩具店換領了兩件不同的玩具，她最少有積分多少分？



35. 現有 $\frac{7}{8}$ 個月餅，婉雯吃了 $\frac{5}{8}$ 個，弟弟吃了 $\frac{1}{8}$ 個。餘下月餅多少個？





36.

### 收費表

運動襪(每雙)	\$35
運動鞋(每雙)	\$260

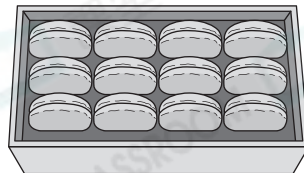
梁先生打算給兩個兒子各購買三雙運動襪和一雙運動鞋，他應付款多少？



37. 一卷絲帶長12米，製作一個蝴蝶結需要95厘米絲帶，製作8個蝴蝶結後，餘下絲帶多少厘米？



38. 媽媽買了一盒鬆餅，梓涵吃了 $\frac{5}{12}$ 盒，媽媽吃了3個，兩人共吃了鬆餅多少盒？



— 全卷完 —