

知識要點

- ✓ 毫米：適合用於記錄較短的長度。
- ✓ 公里：適合用於記錄較遠的距離。
- ✓ 1 厘米 = 10 毫米，1 公里 = 1000 米

例 3 厘米 5 毫米
= 30 毫米 + 5 毫米
= 35 毫米

試一試

行山徑長 4km50m，即長 _____ m。

易錯舉例

易錯點：填單位時，未考慮數據的大小。

例 在橫線上填上適當的長度單位。
一本字典厚約 60 _____。

錯解 cm / 厘米

正解 mm / 毫米

小貼士：聯繫實際生活且須考慮單位前的數據大小。

即學即練

概念題

1. 在橫線上填上適當的長度單位。

(a) 一條鑰匙長約 58 _____。

(b) 兩座城市相距約 50 _____。

(c) 一棵大樹高約 8 _____。

2.



上圖中的鉛筆長 _____。
(答案須寫上單位)

易錯指南

留意測量的起始刻度不是「0」。

基礎訓練

3. 在橫線上填上答案。

(a) 5 厘米 = _____ 毫米

(b) 30 公里 = _____ 米

(c) 1cm2mm = _____ mm

(d) 2km150m = _____ m


4. 量度下列各物件的長度。

(a)



髮夾長 _____ mm。

(b)



迴形針長 _____ mm。

5. (a) 一本筆記簿厚 1* mm / cm / m / km (* 圈出答案)。

(b) 把 6 本筆記簿整齊地疊起來，共高 _____ mm。

6. 下列哪一項最適合用「毫米」作為量度單位？

A. 筷子的長度

B. 智能手機的厚度

C. 大廈的高度

D. 公路的長度

7. 香港和廣州相距約 * 15km / 150m / 150km 。

(* 圈出答案)

8. 下表顯示四條隧道的長度。

| 隧道 | W | X | Y | Z |
|----|-----|---------|--------|---|
| 長度 | 5km | 4km700m | 6km50m | ? |

(a) 隧道 Y 長 _____ m。

(b) 把四條隧道由長至短排列，隧道 Z 排第二，它的長度可能是多少？


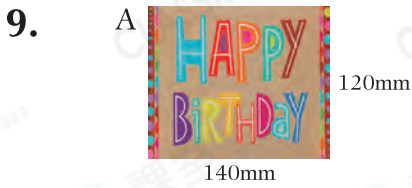
A. 6600m

B. 5500m

C. 4900m

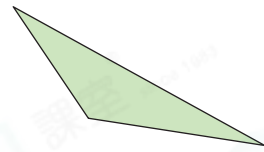
D. 4080m

應用天地

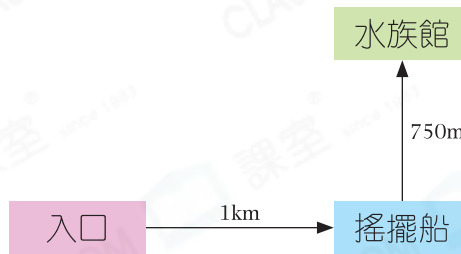


佳文有以上兩張生日卡，其中生日卡_____可放入信封內。

10. 用尺子量度右圖三角形最長的一條邊的長度，
這條邊長_____mm。

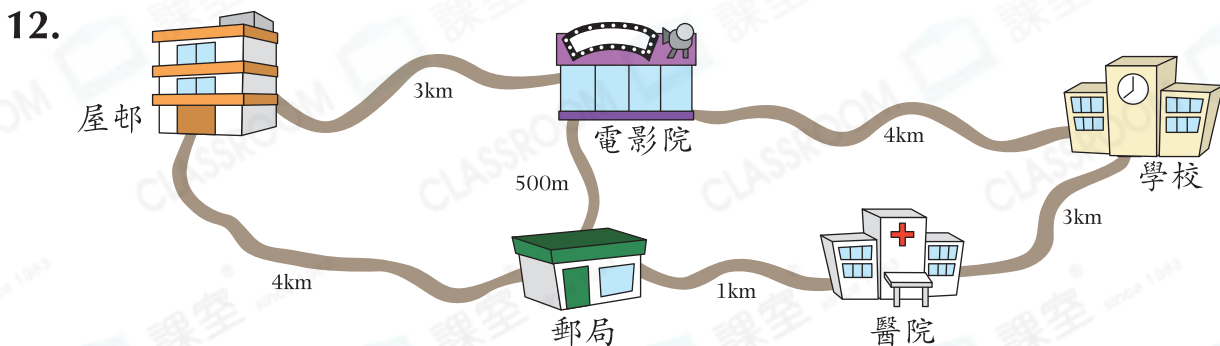


11. 文傑從海洋公園入口往南方走，便可到達搖擺船。



(a) 水族館在搖擺船的_____方。

(b) 文傑從入口經搖擺船到達水族館，共走了_____m。



(a) 距離電影院最近的地方是* 屋邨 / 郵局 / 學校 (*圈出答案)。

(b) 老師駕車從學校出發前往屋邨，全程行駛了7500m，比最短的路程多
行駛了_____m。