

## 知識要點

✓ 24小時報時制：一天的時間由午夜12時開始，以00:00至24:00表示。

例 上午7時5分 → 07:05

↑ 補0

下午10時20分 → 22:20

↑  $12 + 10 = 22$

### 試一試

用「24小時報時制」表示上午9時9分。

\_\_\_\_\_ : \_\_\_\_\_

## 易錯舉例

易錯點：未能正確表示「24小時報時制」的時間。

例 右面數字鐘顯示的是什麼時間？

錯解 下午 9 時 27 分



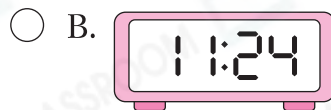
正解 下午 7 時 27 分

$$19 - 12 = 7$$

小貼士：用「12小時報時制」表示時，應減去12而不是減去10。

## 即學即練

1. 下列哪一個數字鐘顯示的時間是下午10時24分？



2. 用「24小時報時制」表示各數字鐘所顯示的時間。



\_\_\_\_\_ : \_\_\_\_\_

\_\_\_\_\_ : \_\_\_\_\_

### 基礎訓練

3. 下列哪一個可能是右圖時鐘顯示的時間？

- A. 03:36       B. 07:03  
 C. 17:15       D. 19:15



4. 細閱下列每項描述，若描述正確，加上「✓」；若描述錯誤，加上「✗」。

答案

(a) 下午3時30分即13:30。

(b) 午夜12時用24:00或00:00表示。

5. 籃球賽在下午6時30分開始，下列哪一項可能是籃球賽的結束時間？


- A. 08:30       B. 10:00  
 C. 18:00       D. 20:30

6. 用「24小時報時制」回答下列各題。

(a) 9:15 a.m.  $\xrightarrow{5\text{小時後}}$  \_\_\_\_\_ :

(b) \_\_\_\_\_ : \_\_\_\_\_  $\xrightarrow{48\text{分鐘後}}$  1:40 p.m.

### 應用天地

7. 陳太太在  開始做家務，當時的時間是\* 上午 / 下午 (\*圈出答案)

\_\_\_\_\_ 時 \_\_\_\_\_ 分。

8. 右圖顯示安妮開始吃午飯的時間。用「24小時報時制」

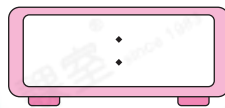
表示，當時是 \_\_\_\_\_ : \_\_\_\_\_ 。



9. 數學測試限時 50 分鐘。

(a) 數學測試在上午 10 時 30 分結束，用「24 小時報時制」表示測試的結束時間，當時是\_\_\_\_\_：\_\_\_\_\_。

(b) 用「24 小時報時制」在數字鐘上填寫測試的開始時間。



10. 下列哪一個時間，時鐘的分針和時針會形成一個直角？

- A. 02:00                       B. 06:00  
 C. 15:00                       D. 19:00

11. 右圖是觀塘往內地的跨境巴士時間表。

(a) 爸爸在正午 12 時到達觀塘站，他最快可乘搭\_\_\_\_\_午\_\_\_\_\_時\_\_\_\_\_分開出的跨境巴士。

(b) 現在是下午 5 時 10 分，尾班跨境巴士 \* 已開出 / 未開出。(\* 圈出答案)

開出時間表
08:30
10:15
12:45
14:00
16:20

**開放題**

12.

**劇場演出時間表**

歷險世界	12:15、13:45、16:00、17:00、18:30
夢想世界	14:20、16:30、18:00、19:00
未來之星	10:50、15:30、17:30

(a) 只有「\_\_\_\_\_」在上午有演出。

(b) 薇安在 5:35 p.m. 到達劇場，她可以觀看「\_\_\_\_\_」。