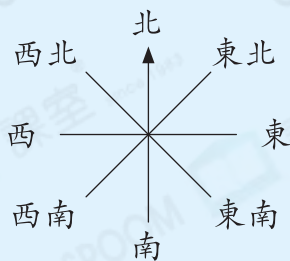


知識要點

✓ 指南針着色的指針必定指向北方，但北方不一定是向上的。

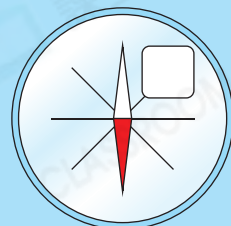
例



試一試

以下哪項代表右圖空格表示的方向？

- A. 東南方
- B. 東北方
- C. 西南方
- D. 西北方



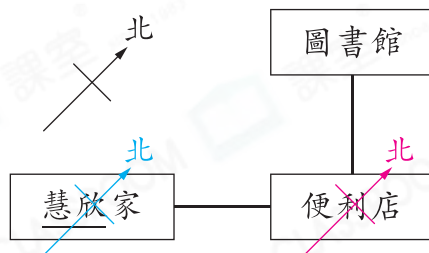
易錯舉例

易錯點：未能將方向標示移至(或畫在)圖中適當的位置。

例 慧欣家在便利店的哪一方？

錯解 東北 方

正解 西南 方

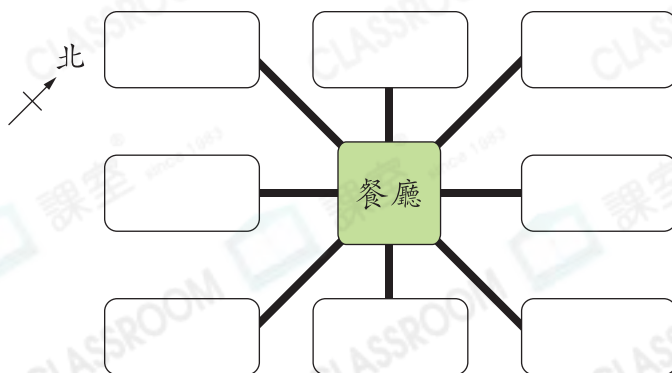


小貼士：若問「A在B的哪一方？」，即將方向標示移至B。

即學即練

1. 在適當的空格填上地方名稱。

- (a) 銀行在餐廳的東方。
- (b) 郵局在餐廳的西北方。
- (c) 公園在郵局的西南方。

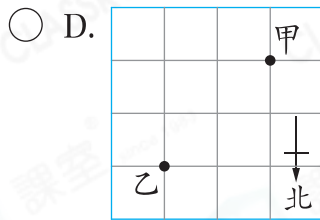
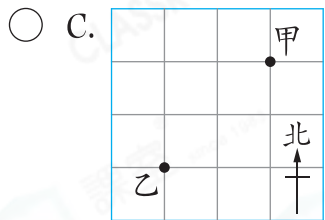
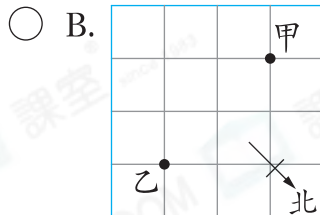
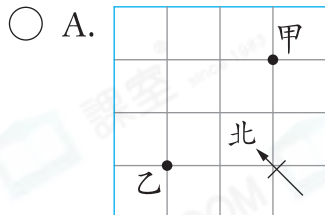


2. 佳雯面向東南方，即背向\_\_\_\_\_方。

概念題

### 基礎訓練

3. 在以下哪一張圖中，甲在乙的西南方？



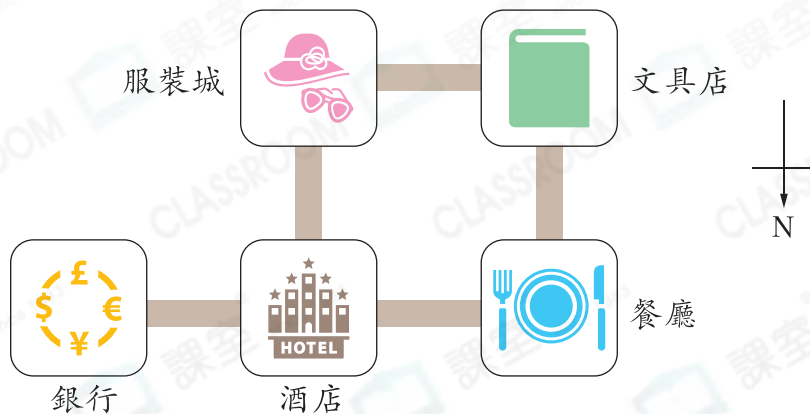
概念題

4. 卓軒和由美背向而行，已知卓軒向西南方走，即由美向\_\_\_\_\_方走。

5. 寶雲面向東北方站立，她\* 逆時針 / 順時針 (\* 圈出答案) 旋轉一個直角後，面向西北方。

### 應用天地

6. 下面是廣場的平面圖。

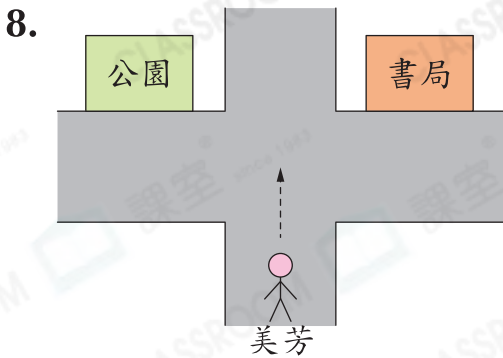


(a) 服裝城在餐廳的\_\_\_\_\_方。

(b) 佳琪從酒店向東方走，便可到達\* 銀行 / 餐廳 / 服裝城。

(\* 圈出答案)

7. 海萍面向東北方，電視機在她的右面，即海萍在電視機的\_\_\_\_\_方。



美芳沿路向東北方走，到達分岔路口時，她應往哪個方向走才可到達公園？

答案：\_\_\_\_\_方

9.



**易錯指南**

指南針上的字母不代表正確的方向。

成洪用指南針測方向，當他把指南針放在掌上時，指南針的紅色指針指向北方，他的食指指向\_\_\_\_\_方。

10. 下圖是主題樂園的地圖，精品店在摩天輪的東南方。



(a) 幸茹在泳池，要去鏡迷宮，她應向\_\_\_\_\_方走，路程才是最短的。

(b) 三人分別從諮詢處、鏡迷宮和摩天輪出發前往夢幻劇場，結果向西南方走的人最先到達，即從\_\_\_\_\_出發的人最先到達。



11. 卓瑩在寶華的東方 1500m，美珍在寶華的西方 1500m，光林在寶華的南方 1500m。

(a) 卓瑩和美珍相距\_\_\_\_\_ km。

(b) 卓瑩在光林的哪一方？

答案：\_\_\_\_\_方