

1.

## 超級市場印花換領計劃

毛巾 16 個

水壺 22 個

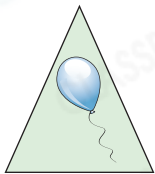
拖鞋 24 個

\*每消費 \$15 可獲贈一個印花


- (a) 媽媽的印花數量在 50 個至 100 個之間，剛好可換領若干條毛巾或若干雙拖鞋，即她有 \_\_\_\_\_ 個印花。
- (b) 媽媽最多可換領 \_\_\_\_\_ 個水壺。
- (c) 媽媽最少消費了多少元？(列式計算)



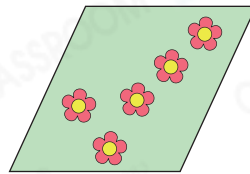
2. 以下是日朗的心意卡。



E



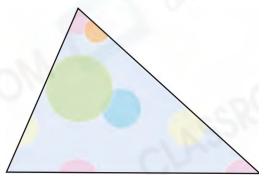
F




G



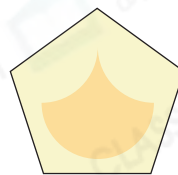
H



I



J



K

- (a) 哥哥的心意卡的數量是日朗的倍數。如果哥哥的心意卡不少於 25 張，他最少有 \_\_\_\_\_ 張心意卡。
- (b) 心意卡 \_\_\_\_\_ 沒有直角，且四邊相等，它是一個 \_\_\_\_\_ 形。
- (c) 最少需要 \_\_\_\_\_ 張心意卡 H 才可以拼成一個有直角的梯形。



### 3. 工人去倉庫取膠瓶。

- (a) 倉庫的密碼是兩個個位數字是9的兩位質數之和，該密碼最小是\_\_\_\_\_。

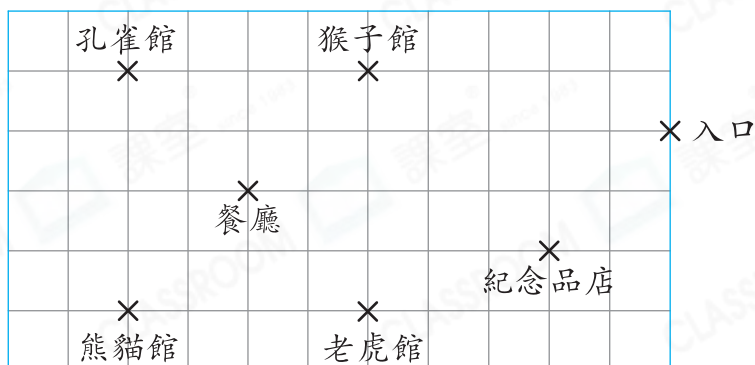
倉庫的密碼是一個三位數。



工人

- (b) 工人取走了26個膠瓶，它們的總重量是338克，平均每個膠瓶重多少克？(列式計算)

### 4. 下圖是動物園的平面圖。



- (a) 入口在紀念品店的北方，熊貓館在孔雀館的\_\_\_\_\_方。
- (b) 紀念品店正進行大減價，所有猴子擺設「買六送一」。志彬買了15個猴子擺設，每個的售價是\$28，他共須付款多少？(列式計算)

- (c) 餐廳有84張桌子，每張桌子有一個編號，桌子的編號是由1至84。其中編號能同時被3和5整除的桌子是雙人桌，雙人桌有\_\_\_\_\_張。