

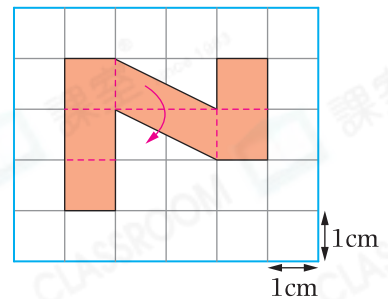
易錯舉例

易錯點：混淆了各種度量單位。

(例) 右圖中，着色部分的面積是 _____。(答案須寫上單位)

錯解 7cm

正解 7cm²



小貼士：平方厘米(cm²)或平方米(m²)是常用的面積單位。

即學即練

1. 在下列各項填上適當的度量單位。

- (a) 一個籃球場的面積約是 420 _____。
- (b) 一張牀的面積約是 3 _____。
- (c) 一扇門的面積約是 14400 _____。



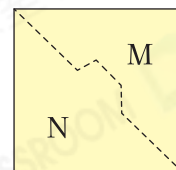
易錯指南


沒有留意數據大小，
僅以常識判斷。

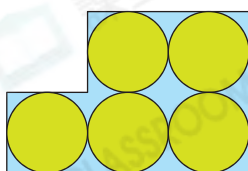
2. 一部智能手機的屏幕面積約是 100 * cm / cm² / m / m² (* 圈出答案)。

基礎訓練

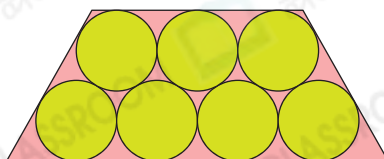
3. 把右面的正方形沿虛線剪成M和N兩部分，
M的面積* 大於 / 等於 / 小於 N的面積。
(* 圈出答案)



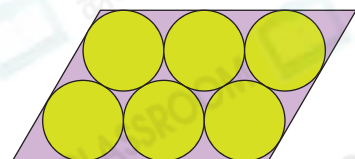
4. 天豪用  量度以下圖形的面積。



A



B



C

圖形 _____ 的面積最小，圖形 _____ 的面積最大。

應用天地

5.



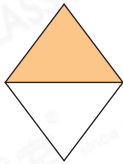
左圖中，哪本筆記簿的封面面積較大？

答案：* 棕色筆記簿 / 綠色筆記簿

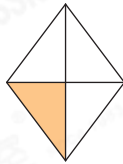
(* 圈出答案)

6. 以下四個菱形的大小相同，哪一個圖中着色部分的面積最大？

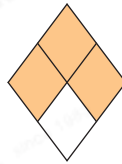
A.



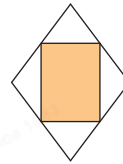
B.



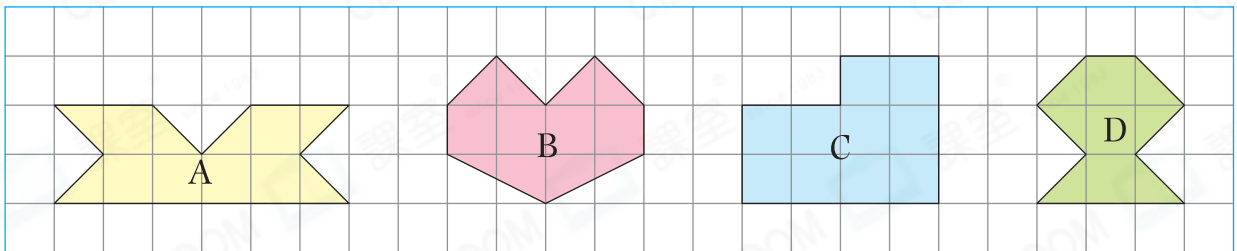
C.



D.



7. 晴昇小學舉辦襟章設計大賽，以下是文龍設計的4種圖案。圖案C的面積是 30cm^2 。



(a) 圖案A的面積是_____ cm^2 。

(b) 圖案B的面積比圖案D的面積* 大 / 小 (* 圈出答案) _____ cm^2 。

(c) 他選擇一個面積最小的圖案參賽，即選擇圖案_____ 參賽。



8. 依指示在方格紙上畫出圖形X和Y。

(a) 圖形X的面積比圖形Z少佔三格，圖形X是一個四邊形。

(b) 圖形Z的面積比圖形Y多佔四格，圖形Y是一個三角形。

