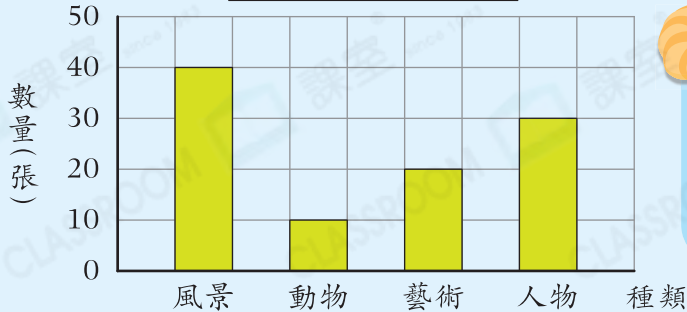


知識要點

✓ 閱讀棒形圖時，留意每格所代表的數目。

例

姊姊收集的明信片



試一試

根據左圖，姊姊收集了藝術明信片多少張？

答案：_____張

易錯舉例

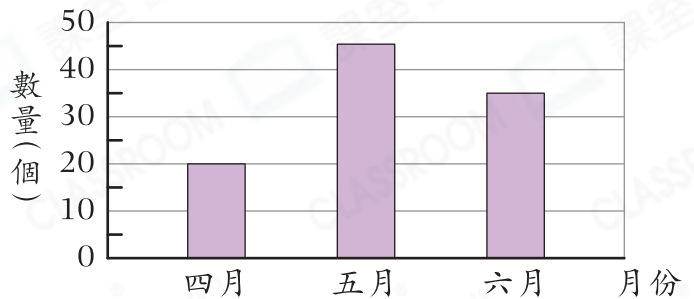
易錯點：忽略棒形圖中每半格所代表的數量。

例 學校在六月回收鐵罐多少個？

錯解 _____ 30 個

正解 _____ 35 個

學校在四月至六月回收鐵罐的數量



小貼士：3格半，即有35個。

即學即練

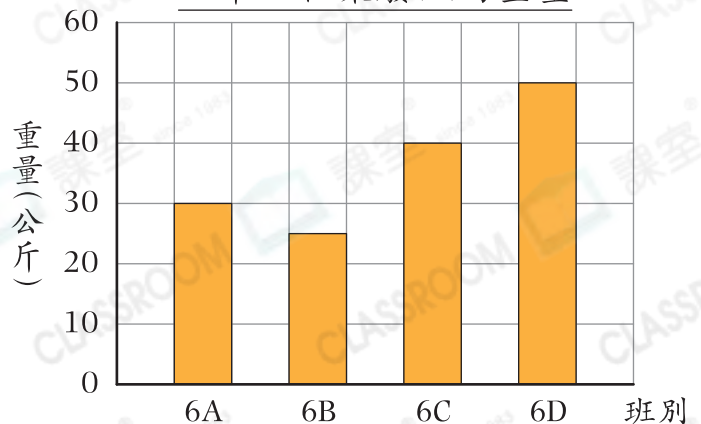
1. (a) 6A班收集了_____公斤廢紙。

(b) _____班比6C班多收集10公斤廢紙。

(c) 六年級共收集廢紙多少公斤？

答案：_____公斤

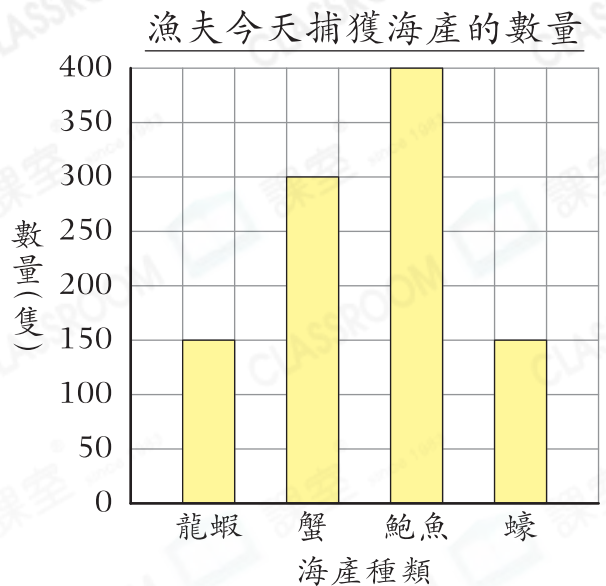
六年級收集廢紙的重量



基礎訓練

2. 右圖顯示漁夫今天捕獲海產的數量。

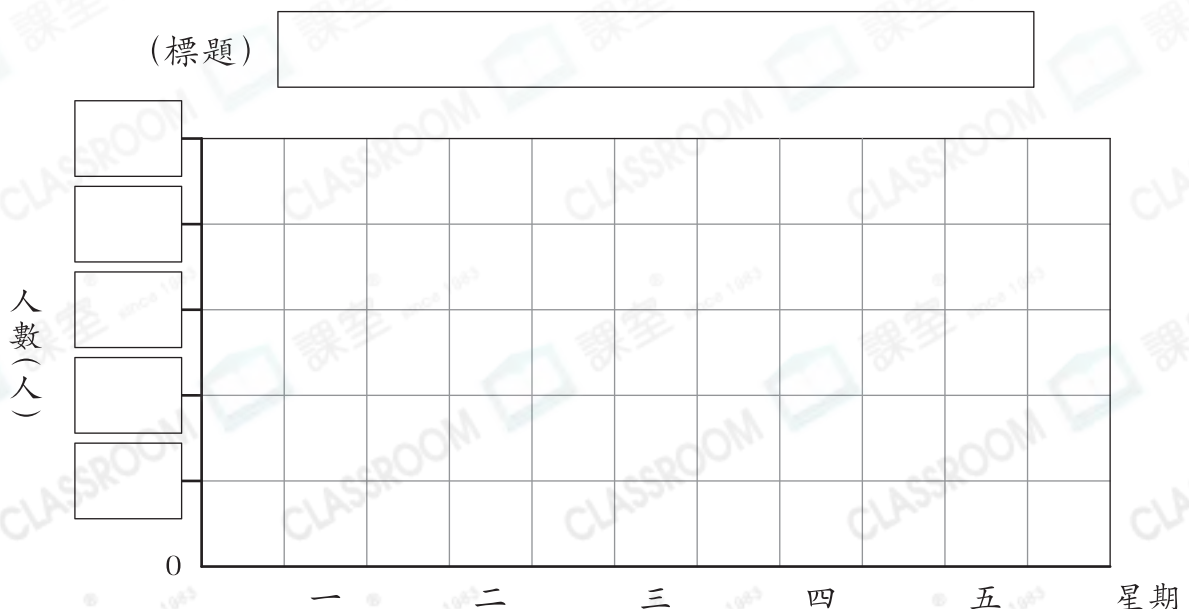
- (a) _____ 和 _____ 的數量相同，各有 _____ 隻。
- (b) 最多的海產是 _____。
- (c) 蟹比鮑魚* 多 / 少 (* 圈出答案) _____ 隻。
- (d) _____ 的數量是蠔的 2 倍。



3. 下表統計了酒樓過去五天的顧客人數。

星期	一	二	三	四	五
人數(人)	139	296	121	207	414
湊整至百位					

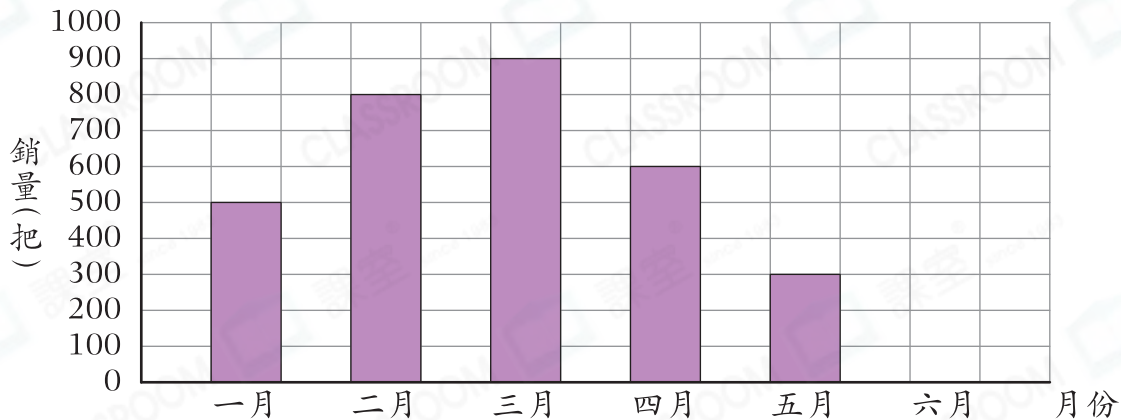
- (a) 湊整顧客人數至百位，並完成上表。
- (b) 根據湊整後的數據，完成下列棒形圖。



應用天地

4. 推銷員嘗試用下圖來表示廚具店上半年餐刀的銷量，但他忘記記錄六月的銷量。

廚具店上半年餐刀的銷量



- (a) 廚具店在六月售出的餐刀是二月的一半，在上圖畫出代表六月餐刀銷量的棒。
- (b) 比較銷量最高的月份與最低的月份，銷量相差_____把。
- (c) 三月的銷量是_____月和_____月的銷量之和。
- (d) 共有多少個月餐刀的銷量不低於500把？

答案：_____個

開放題

5. 每把餐刀原價\$45，因原材料價格上漲，在四月加價至\$60。根據上面的統計圖，廚具店在第二季售出餐刀的收入會否比第一季的少？試解釋。

答案：因為_____

所以廚具店在第二季售出餐刀的收入* 會 / 不會 (*圈出答案)比第一季的少。