



分類圖表

知識要點

分類的標準不同，圖表顯示的結果也不同。

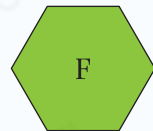
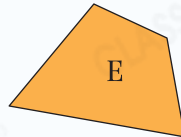
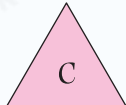

	涼鞋	皮鞋	運動鞋
男款			
女款			

想挑戰
請掃描



初學乍練

1.



觀察以上圖形，在下表中寫出所有代表答案的英文字母。

	有平行線	沒有平行線
四邊形		
不是四邊形		

2.



依指示，把以上各數填入下表。

	奇數	偶數
能被5整除的數		
不能被5整除的數		