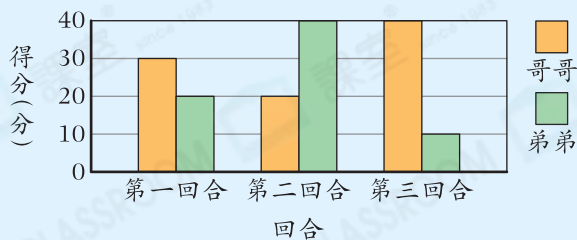


知識要點

- ☑ 閱讀複合棒形圖時，留意不同的棒所表示的組別。

兄弟二人玩遊戲的得分



橙色棒條代表哥哥的得分，綠色棒條代表弟弟的得分。

試一試

根據左圖，弟弟共得多少分？

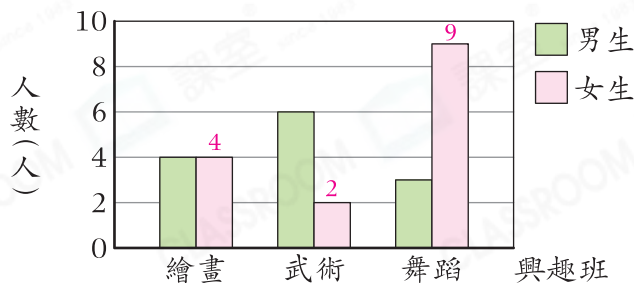
答案：_____分

易錯舉例

易錯點：混淆不同顏色的棒所表示的組別。

例

5A班參加興趣班的人數



如果每人只參加一項，5A班共有_____名女生參加興趣班。



錯解

13



正解

15



小貼士：先在圖上標記各項目的女生人數。

即學即練

- 根據以上的複合棒形圖，
 - 參加_____班的男、女生人數相同。
 - 最多人參加_____班，共有_____人。
 - 參加武術班的男生和女生人數相差_____人。
 - 5A班共有_____人參加興趣班。

基礎訓練

2. 右圖顯示三個年級籌得的款項。

(a) 哪個年級籌得的款項最少？

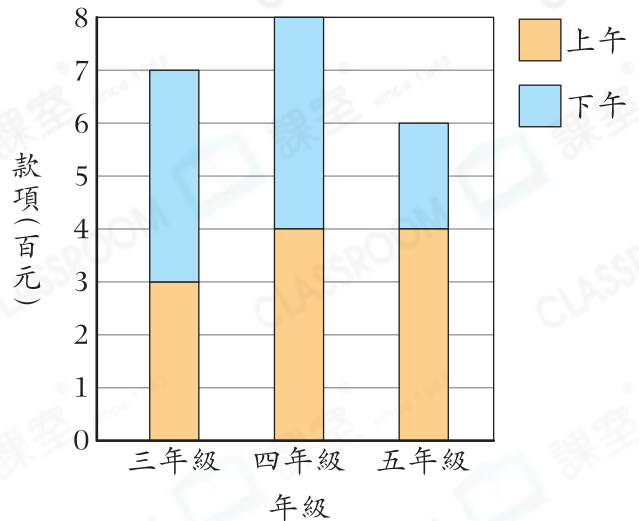
答案：_____年級

(b) _____年級上午和下午籌得的款項相等。

(c) 五年級上午籌得的款項是下午的_____倍。

(d) 三個年級共籌得_____元。

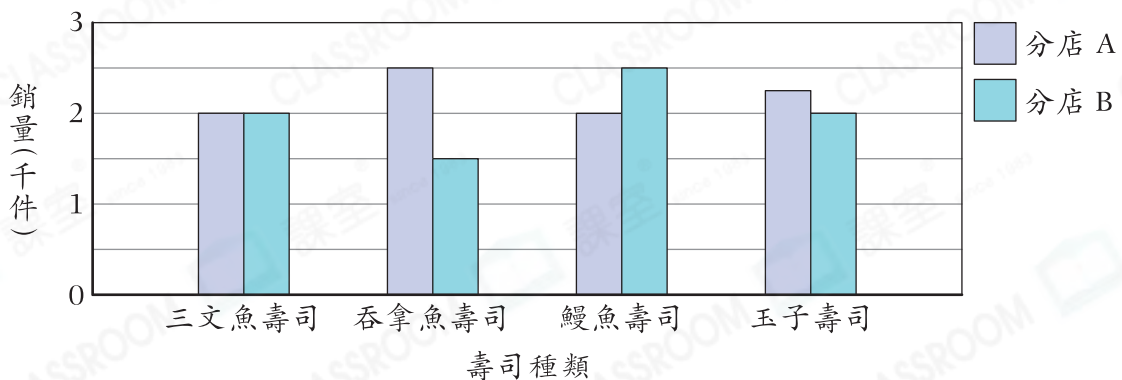
三個年級籌得的款項



應用天地

3. 下圖顯示兩間分店的壽司銷量情況。

兩間分店的壽司銷量



(a) _____壽司在兩間分店的銷量相同。

(b) _____壽司的總銷量最高，共有_____件。

(c) 下列哪一項描述是**不正確**的？

- A. 鰻魚壽司在兩間分店的銷量相差 500 件。
- B. 分店 A 壽司的總銷量比分店 B 的多 750 件。
- C. 玉子壽司在兩間分店的總銷量是 4000 件。
- D. 在兩間分店，銷量相差最多的壽司是吞拿魚壽司。

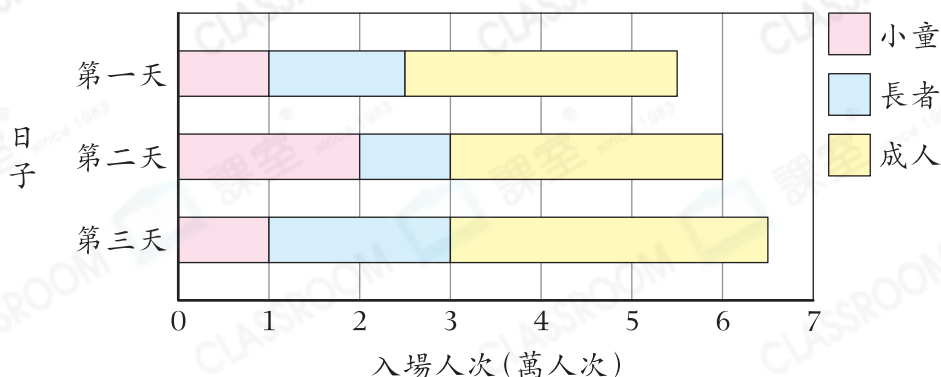


CLASSROOM Tips

留意半格代表的數量。

4. 以下是樂園開業前三天的入場人次。

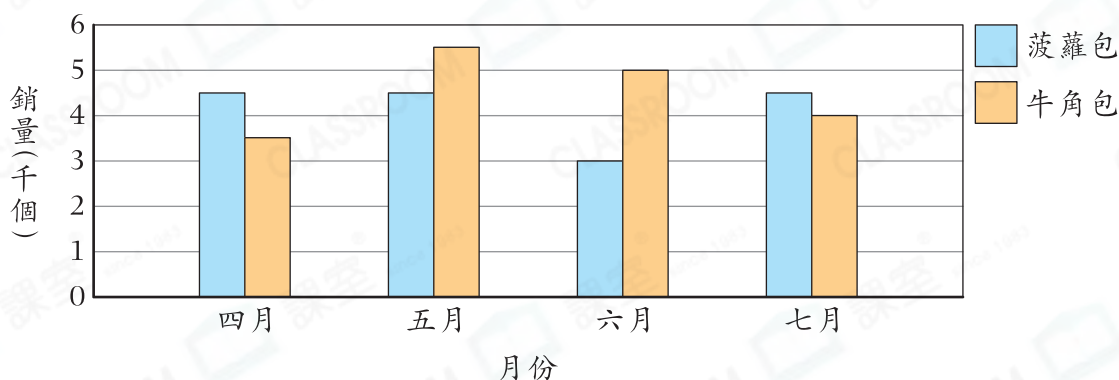
樂園開業前三天的入場人次



- (a) 首三天中，第_____天小童的入場人次多於長者的入場人次。
- (b) 在開業第二天，長者的入場人次是成人的_____。(以最簡分數作答)
- (c) 每張成人票售 \$100，小童及長者享有半價優惠。第三天樂園共收得_____百萬元。

5. 下圖顯示西餅店四月至七月兩種麪包的銷量。

西餅店四月至七月兩種麪包的銷量



- (a) 共有_____個月牛角包的銷量比菠蘿包的多。
- (b) 在六月，牛角包每個售 \$7，七月加價至每個 \$9。在牛角包類別，七月的收入會否比六月少？試解釋。

答案：因為_____

_____，

所以在牛角包類別，七月的收入* 會 / 不會 (*圈出答案)比六月少。