

易錯舉例

易錯點：未能選出合適的統計圖。

例 店主想用一個統計圖來表示小食店在上星期的收入和支出，他應選用
* 象形圖 / 棒形圖 / 複合棒形圖 (*圈出答案)最適當。

錯解 象形圖 / 棒形圖 / 複合棒形圖

正解 象形圖 / 棒形圖 / 複合棒形圖

小貼士：象形圖和棒形圖都不能同時比較兩組對應的數據。

即學即練

1. 下列哪一項最適合用複合棒形圖來表達數據？

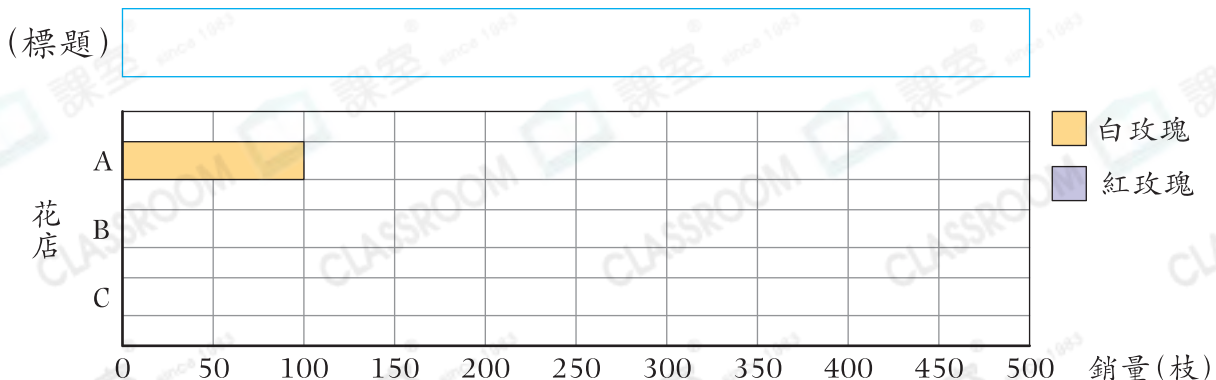
- A. 五名學生閱讀中、英文圖書的數量 ○ B. 5A班女生最喜愛的寵物
- C. 不同國家取得奧運會金牌的數量 ○ D. 餐廳上半年的營業額

基礎訓練

2. 下表顯示三間花店昨天售出玫瑰的數量。

	A	B	C
白玫瑰(枝)	100	50	100
紅玫瑰(枝)	350	250	400

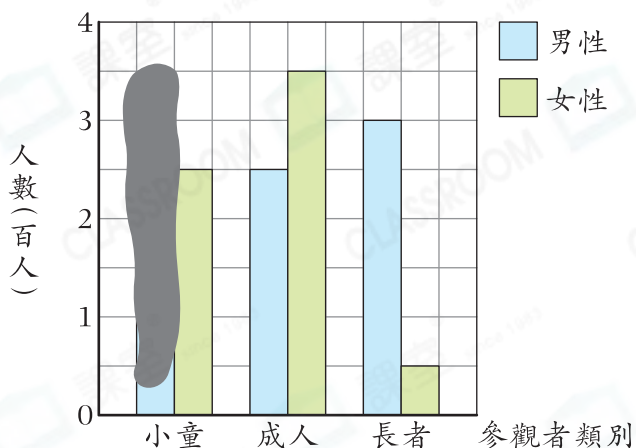
根據數據，製作複合棒形圖，並加上標題。



應用天地

3. 製作以下統計圖時，工作人員把部分棒畫錯了。

參觀畫展的人數

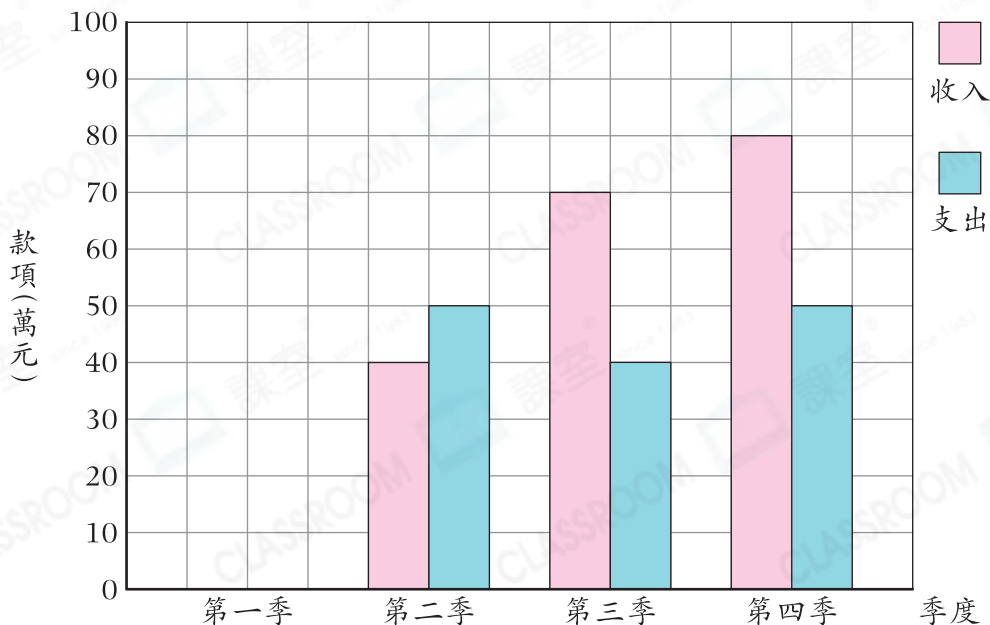


(a) 在長者類別中，女性參觀人數是男性的一半，即女性長者一欄應多塗色_____格。

(b) 共有男性參觀者 750 人，即男童一欄應塗色_____格。

4. 下圖是酒店去年的收入和支出。

酒店去年的收入和支出



(a) 酒店在上半年的總收入是 130 萬元，比上半年的總支出多 20 萬元。在上圖畫出代表第一季收入和支出的棒。

(b) 酒店在第_____季出現虧蝕。

(c) 酒店在第四季盈利_____萬元。

(d) 酒店去年共* 盈利 / 虧蝕 (* 圈出答案)_____萬元。



CLASSROOM Tips

當收入多於支出時，即盈利，反之虧蝕。