

# 階段性評估(一)

練習1至7

時限  
20分鐘

計算下列各題。【5分，每題1分】

1.  $24.5 \div 14 =$  \_\_\_\_\_

2.  $576.5 \div 10 =$  \_\_\_\_\_

3.  $1.24 \div 0.1 =$  \_\_\_\_\_

4.  $2.47 \div 0.5 =$  \_\_\_\_\_

5.  $(23.1 - 12.5) \times 1.4 =$  \_\_\_\_\_

回答下列各題。【6分】

6. (a) 媽媽買了右面的橙汁，平均每瓶橙汁售 \$ \_\_\_\_\_。【1分】

(b) 每瓶橙汁有 1.25L，喝去 0.3L 後，餘下的橙汁可倒滿 \_\_\_\_\_ 個容量各是 0.25L 的杯子。【1分】

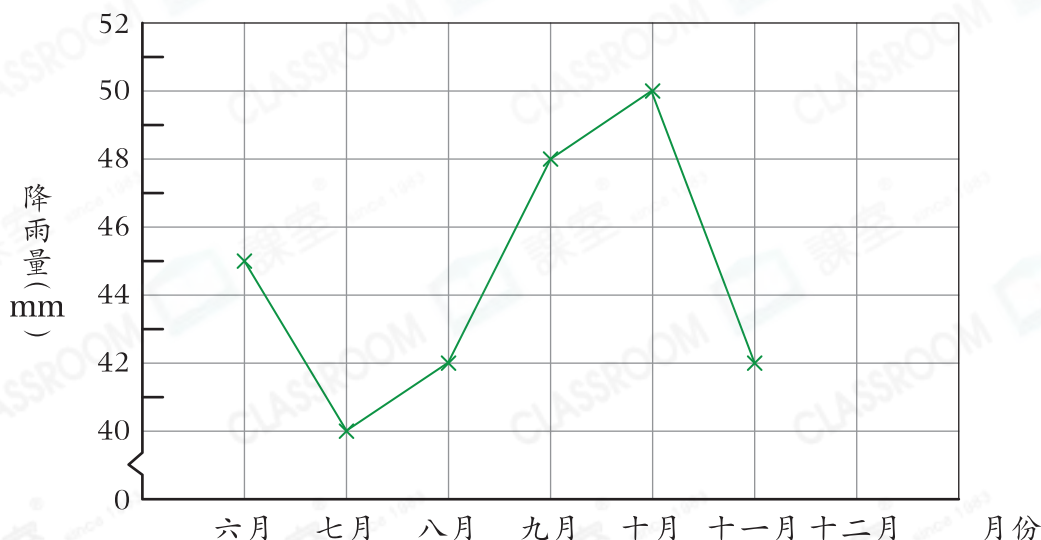


孖裝 \$19.80

7. 朗讀比賽中，六位評判給學信的評分分別是：5分，7分，9分，8分，8分，10分。如果不計最高分及最低分，學信的平均分是 \_\_\_\_\_ 分。【1分】

8.

A城下半年的降雨量



(a) A城在十二月的降雨量剛好等於十月和十一月平均每月的降雨量，在上圖完成折線圖。【1分】

(b) 在七月至十月期間，降雨量持續\* 增加 / 減少 (\* 圈出答案)。【1分】

(c) \_\_\_\_\_ 月與上月的降雨量相差最多，相差 \_\_\_\_\_ mm。【1分】

選出答案，把代表答案的○塗黑和塗滿。【4分，每題1分】

9. 下列哪一項比 0.5 大，但又比  $\frac{5}{8}$  小？

A. 0.48

B. 0.7

C.  $\frac{5}{7}$

D.  $\frac{5}{9}$

10. 將 8.8L 橄欖油倒入容量各是 750mL 的瓶子內，最多可以注滿多少瓶？

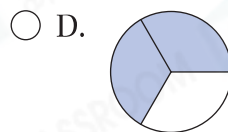
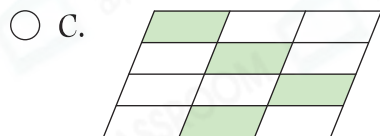
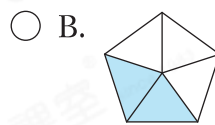
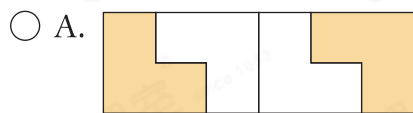
A. 10 瓶

B. 11 瓶

C. 12 瓶

D. 13 瓶

11. 下列哪一個圖的着色部分佔全圖的 0.4？



12. 如果 4.2、\*、 $\frac{4}{5}$  和 6.3 這 4 個數的平均數是 3，那麼 \* 的值是多少？

A. 0.7

B. 1.2

C. 5

D. 7

列式計算下列各題。【6分，每題3分】

13. 流動電話服務收費如右表所示，勞先生上月總通話時間是 1024 分鐘，他要繳交電話費多少？



每月通話收費	
首 900 分鐘	\$108
以後每分鐘	\$0.18

14. 升降機內原有 8 人，他們的平均體重是 64.75kg。一名重 76kg 的乘客進來後，平均每人的體重是多少？

