

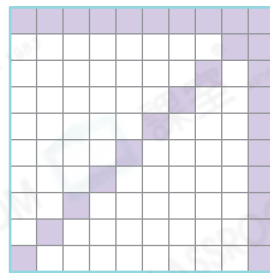
易錯舉例

易錯點：讀題不仔細。

例 右圖中，白色部分佔全圖的百分之幾？

錯解 答案： 28 %

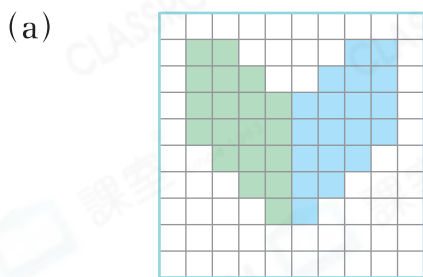
正解 答案： 72 %




小貼士：注意關鍵字「白色部分」。

即學即練

1. 在橫線上填上答案。



藍色部分佔全圖的 20 %。



黃色部分佔全圖的 20 %。

基礎訓練

2. 把下列各數寫成百分數。

(a) $\frac{77}{100} =$ _____

(b) $3 =$ _____

(c) 七成半 = _____

(d) $2.07 =$ _____

3. 以下哪些數的數值等於1？（圈出所有答案）

1000%

1%

100%

$\frac{1}{10}$

$\frac{100}{100}$

應用天地

4.



班長



我們統計了100名學生的體能測試成績，其中成績優秀的學生有18名，成績一般的學生佔15%。

成績優秀的學生佔全部學生的_____%，比成績一般的* 多 / 少。
(* 圈出答案)

5. 兩位同學玩拋圈圈遊戲，每位可拋100次。把方格塗黑，以表示各位同學拋中圈圈的數量。

(a) 美芳：56%

(b) 偉明：百分之二十三



6. 水果店購入一批蘋果，其中4%的蘋果壞了，好的蘋果佔全部的_____%。

7. 6A班有學生32人，今天出席的學生佔全班的100%，即出席的學生有_____人。

8. 以下是頌恩100元零用錢的分配情況。

用途	文具	玩具	儲蓄
金額(元)	27	39	

(a) 頌恩共儲蓄了_____元。

(b) 儲蓄的款項比用去的* 多 / 少 (* 圈出答案)佔零用錢的_____%。