

## 易錯舉例

易錯點：誤以為1分鐘等於100秒。

例 信義用了300秒跑完800米，即用了多少分鐘？  $300 \div 60 = 5$

錯解 3 分鐘

正解 5 分鐘

小貼士：1小時 = 60分鐘，1分鐘 = 60秒。

## 即學即練

概念題

1. 在橫線上填上答案。

(a) 30分鐘 = \_\_\_\_\_ 小時

(b) 150秒 = \_\_\_\_\_ 分鐘

(c) 3.7小時 = \_\_\_\_\_ 分鐘


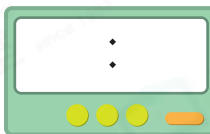
(d) 5.6分鐘 = \_\_\_\_\_ 秒

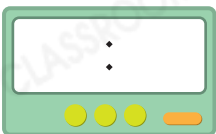

(e) 200分鐘 = \_\_\_\_\_ 小時 \_\_\_\_\_ 分鐘



(f)  $4\frac{2}{3}$ 小時 = \_\_\_\_\_ 小時 \_\_\_\_\_ 分鐘

## 基礎訓練

2. 完成下列各題。

(a)   $\xrightarrow{1\text{小時 } 15\text{分鐘}}$  

(b)   $\xrightarrow{2\text{小時 } 10\text{分鐘}}$  


(c)   $\xrightarrow{\text{_____小時 } \text{_____分鐘}}$  

3. 立邦用了1.5小時完成手工作品，即用了多少分鐘完成手工作品？

答案：\_\_\_\_\_ 分鐘

**應用天地**

4. 以下的鐘面分別顯示插花培訓課程的開始時間和結束時間。



插花培訓課程共長\_\_\_\_\_小時\_\_\_\_\_分鐘。

5. 子傑在 **17:13** 離開圖書館，他在圖書館逗留了3小時50分鐘。子傑在

\* 上午 / 下午 (\*圈出答案) \_\_\_\_\_ 時 \_\_\_\_\_ 分進入圖書館。

6. 可琳在13:15至14:30練習鋼琴。妹妹在13:30開始練習鋼琴，她比可琳多練了25分鐘，即妹妹何時完成鋼琴練習？

- A. 13:55       B. 14:55       C. 15:10       D. 16:10

7. 下圖顯示奶茶店一天的營業時間。



(a) 奶茶店全日共營業\_\_\_\_\_小時。(以小數表示)

(b) 晴雯在12:35到達奶茶店，這時奶茶店已經營業了\_\_\_\_\_小時。  
(以分數表示)

8. 《中秋晚會》時長2小時20分鐘。電視台由14:30開始連續播放《中秋晚會》兩次，《中秋晚會》在\_\_\_\_\_:\_\_\_\_\_播放結束。(用「24小時報時制」表示)

9. 某列車從始發站到終點站全程用時 $2\frac{3}{4}$ 小時。該列車在14:05到達終點站，即在\_\_\_\_\_:\_\_\_\_\_從始發站駛出。(用「24小時報時制」表示)