

## 易錯舉例

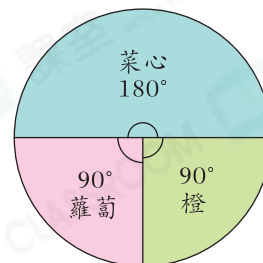
易錯點：漏數部分統計項目。

例 右面的圓形圖顯示媽媽購入的蔬果。媽媽購入的蔬菜佔全部蔬果的百分之幾？

錯解 50 %

正解 75 %  $\frac{180+90}{360} \times 100\% = 75\%$

媽媽購入的蔬果



小貼士：蔬菜包括菜心和蘿蔔。

## 即學即練

1. 右面的圓形圖顯示某區9月的天氣情況。

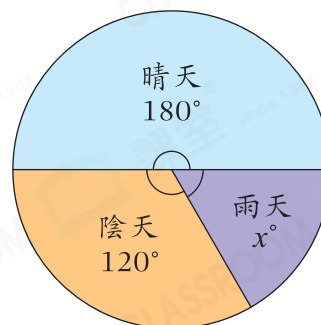
某區9月的天氣情況

(a)  $x$  的值是\_\_\_\_\_。

(b) 晴天佔9月總天數的\_\_\_\_\_ %。

(c) 該區9月有多少天沒有下雨？

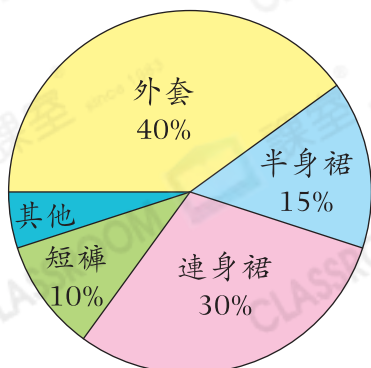
答案：\_\_\_\_\_天



## 基礎訓練

2. 以下的圓形圖顯示時裝店各種服裝的銷量。

時裝店各種服裝的銷量



(a) \* 外套 / 半身裙 / 連身裙 / 短褲 (\* 圈出答案) 的銷量最高。

(b) 半身裙的銷量是\_\_\_\_\_的一半。

(c) 裙子的銷量佔總銷量的\_\_\_\_\_ %。

(d) 「其他」佔總銷量的\_\_\_\_\_ %。

