

易錯舉例

易錯點：未能區分各種圖表的特點。

例 若要統計過去五年內，某校學生人數的變化，應選擇哪一種統計圖最合適？

- I. 圓形圖 II. 棒形圖 III. 折線圖



小貼士：若要顯示一段時間內統計項目的數據的變化，應用折線圖來表示這些項目的數據。

即學即練

1. 根據下列各要求，選擇最合適的統計圖。寫出代表答案的英文字母。

P. 圓形圖

Q. 棒形圖

R. 折線圖

答案

(a) 表示小食店上星期各項收入佔總收入的百分數。

(b) 表示某電視台最近一年每月收視率的趨勢。

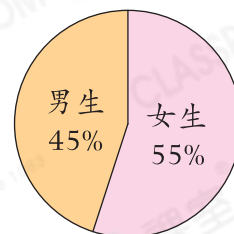
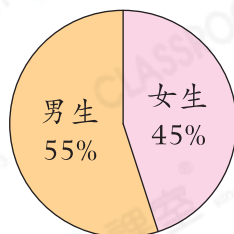
(c) 表示家具店昨天各款牀的銷量。

基礎訓練

2. 以下的圓形圖分別顯示課室小學和長河小學兩間學校的男、女生人數。

課室小學的男、女生人數

長河小學的男、女生人數



倩雲認為課室小學的男生人數和長河小學的女生人數同樣多，你同意？為什麼？

答案：因為_____

所以我* 同意 / 不同意 (* 圈出答案)倩雲的說法。

應用天地

3. 下表顯示某日主題公園的入場人次。

組別	小童	成人	長者
入場人次(人次)	1500	2000	1000

(a) 若表示某日主題公園各組別的入場人次，應繪製_____圖。

(b) 若表示各組別佔總入場人次的百分數，應繪製_____圖。

4. 右面的棒形圖顯示某地居民的平均壽命。

子君認為女性的平均壽命是男性的2倍。你同意嗎？為什麼？

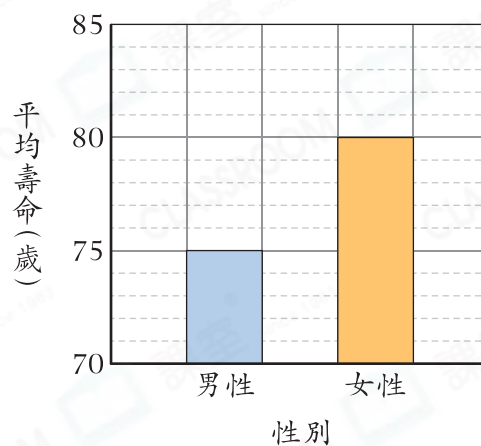
答案：因為_____

_____，

所以我* 同意 / 不同意 (*圈出答案)

子君的說法。

某地居民的平均壽命



5. 以下的兩個折線圖分別顯示甲、乙兩款水壺過去三個月的銷量情況。

圖 A

甲款水壺的銷量

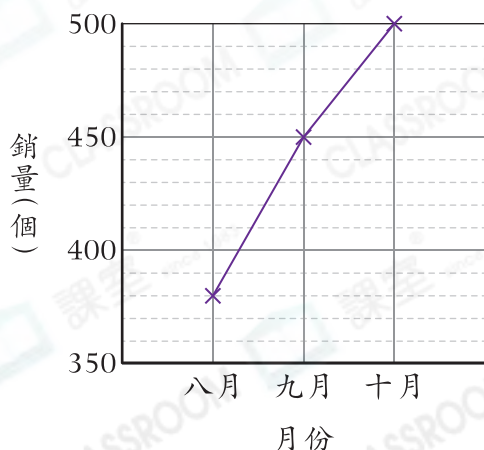
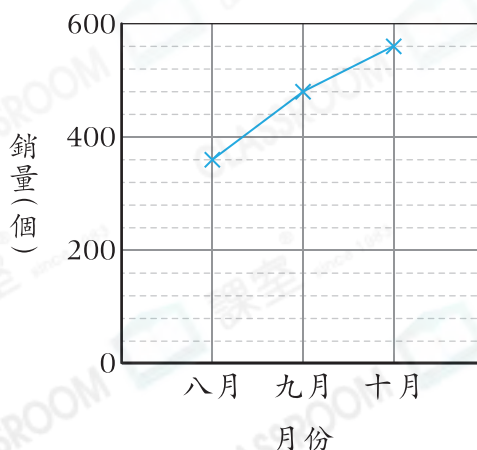


圖 B

乙款水壺的銷量



(a) 圖* A / B (*圈出答案)會令讀者覺得該款水壺的銷量每月的加幅較大。

(b) * 甲款 / 乙款 (*圈出答案)水壺的銷量每月的加幅較大。