

階段闖關 (一)

15分鐘

練習 1-7


回答下列各題。(10分)  8分鐘

1. 依規律填數字。(2分, 每分題1分)

(a) _____, 9, 8, 7, _____


(b) 12, _____, _____, _____, 16

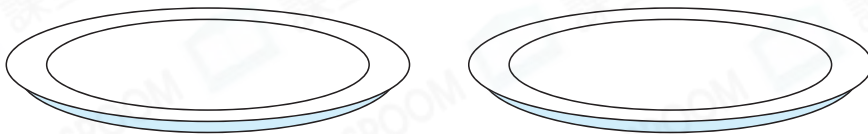


(a) 上圖中, 有 _____ 隻 。(1分)


(b) 上圖中,  的數目是一個 * 單數 / 雙數 (* 圈出答案)。(1分)

(c) 上圖中, *  /  (* 圈出答案) 的數量較多。(1分)


3. 把7塊  放入兩個盤子, 在盤子內畫「△」表示。(1分)



4.



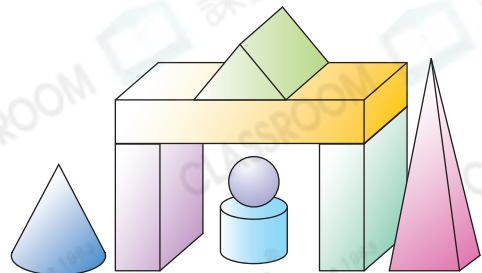
(a) 共有 _____ 輛車正在交通燈前等候。(1分)

(b) 交通燈轉為綠燈後, 前面4輛車行駛走了, 現在  排第 _____。(1分)

5. 弟弟用不同的立體砌了右面的模型。

(a) 他用了 _____ 個角柱。(1分)

(b) 他用了 _____ 個能滾動的立體圖形。(1分)




選出答案，把代表答案的○塗黑和塗滿。(6分，每題1分)  7分鐘

6.



觀察上圖，下列哪一項是錯誤的？

- A. 共有3種顏色的紙鶴。 ○ B. 紙鶴的總數目是一個奇數。
○ C. 藍色紙鶴的數量最多。 ○ D. 有5隻紅色紙鶴。

7. 姊姊有12個 ，送給弟弟4個後，還餘下多少個？

- A. 6個 ○ B. 7個 ○ C. 8個 ○ D. 9個

8.



把上面的數字卡依倒數排列，以下哪一項是正確的？

- A. 6, 8, 7, 9, 5, 4 ○ B. 9, 8, 7, 6, 5, 4
○ C. 4, 5, 6, 7, 8, 9 ○ D. 8, 7, 9, 4, 5, 6

9. 比16小，但比9大的單數有多少個？

- A. 3個 ○ B. 4個 ○ C. 5個 ○ D. 6個

10.



只有一枝花的花瓶排第二，空花瓶排第幾？

- A. 第一 ○ B. 第二 ○ C. 第三 ○ D. 第五

11. 右圖由哪些立體圖形組成？

- A. 圓錐和圓柱
○ B. 角錐和角柱
○ C. 圓錐和角柱
○ D. 角錐和圓柱

