




## 要點導航

例



$$3 + 2 = 5 \text{ 或 } 2 + 3 = 5$$

- 「 $3 + 2 = 5$ 」讀作「3加2等於5」。
- 把兩個數交換位置相加，結果不變。

依圖示，完成算式。



共有髮圈：\_\_\_\_\_ + \_\_\_\_\_ = \_\_\_\_\_ (個)



共有鎖匙扣：\_\_\_\_\_ + \_\_\_\_\_ = \_\_\_\_\_ (個)

計算下列各題。

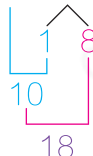
3.  $9 + 6 =$  \_\_\_\_\_  
速算

4.  $7 + 7 =$  \_\_\_\_\_

5.  $2 + 5 = 5 +$  \_\_\_\_\_ = \_\_\_\_\_

## 速算指南

$$9 + 9 = 18$$



## 湊十法



子辰的姊姊有許多蠟燭。



6. 姊姊共有 \_\_\_\_\_ 粒 和 。

7. 姊姊送出 2 粒 和全部 ，即送出了 \_\_\_\_\_ 粒蠟燭。

伊晴和妹妹參加摺紙活動。

8.



(a) 伊晴摺了以上的紙蝴蝶，她共摺了紙蝴蝶多少隻？(列式計算)

她共摺了紙蝴蝶：

$$\underline{\hspace{2cm}}$$

$$= \underline{\hspace{2cm}} \text{ (隻)}$$

(b) 妹妹比伊晴多摺了3隻 ，妹妹摺了          隻 .

9.



妹妹



我摺了8個   
和9個 .

我摺了9個   
和一些 .



伊晴

伊晴和妹妹摺的紙心數量相同，伊晴摺了          個 .

10. 妹妹摺了3隻 ，比伊晴少摺4隻。伊晴摺了  多少隻？  
(列式計算)

伊晴摺了 ：

$$\underline{\hspace{2cm}}$$

$$= \underline{\hspace{2cm}} \text{ (隻)}$$

 解題金鑰匙

妹妹 ○○○      少4隻  
伊晴 ○○○○○

 能力挑戰館

11. 弟弟有5顆巧克力，家傲再給弟弟4顆後，兩人有的巧克力數量便相同，家傲原有巧克力多少顆？

答案：         顆

