



要點導航

例

原來共有： $2 + 4 = 6$ (塊)餘下： $6 - 2 = 4$ (塊)吃了： $6 - 4 = 2$ (塊)

依圖示，完成算式。

餘下 : $9 - \underline{\quad\quad} = \underline{\quad\quad}$ (個)餘下 : $11 - \underline{\quad\quad} = \underline{\quad\quad}$ (隻)

計算下列各題。


3. $8 - 4 = \underline{\quad\quad}$

4. $16 - 8 = \underline{\quad\quad}$

5. $14 - 6 = \underline{\quad\quad}$

6. $7 - \underline{\quad\quad} = 3$

婉怡家裏有一個水族箱。

水族箱中的 比 * 多 / 少 (* 圈出答案) 尾。從水族箱中取出 2 個 後，還餘下 個 。

1A班正在準備聖誕派對。

9.



(a) 準備的果汁比牛奶少2盒，即準備了_____盒果汁。

(b) 有16名學生想喝牛奶，還欠_____盒才足夠每人喝一盒。

10.



老師準備了以上兩種氣球佈置課室，各用去7個。餘下的*  /  (*圈出答案)較多，餘下_____個。

 解題金鑰匙

原有的數量越多，用去的數量相同，餘下越多。



家傲在點算他的玩具。

11.

玩具車			
數量(輛)	15	9	7

比較數量最少和最多的玩具車，相差多少輛？

 A. 2輛 B. 3輛 C. 6輛 D. 8輛

12. 家傲有10個 ，送給弟弟和3位朋友各一個後，還餘下  多少個？
(列式計算)

還餘下  :

= _____ (個)

