


數 10 0 的認識



要點導航

例

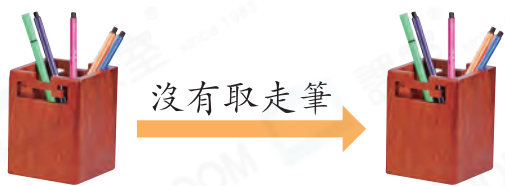


兩個  上共有 $3 + 0 = 3$ (杯)

- 「0」讀作「零」，表示沒有。
- 任何數加上0，都等於原來的數。

依圖示，完成算式。

1.



$$5 - \underline{\quad} = \underline{\quad}$$

2.



$$\underline{\quad} - \underline{\quad} = \underline{\quad}$$

計算下列各題。

3. $4 - 4 = \underline{\quad}$

4. $8 - 0 = \underline{\quad}$

5. $0 + 0 = \underline{\quad}$



6. $6 + 0 = \underline{\quad}$

子辰的媽媽今天去超級市場，買了許多日用品。

日用品			
數量	6 個	3 枝	9 個

7. 媽媽買了 個 。

8. 子辰不小心打碎了全部 ，餘下 個完好的 。

9. 家裏原來沒有 ，現在家裏共有 枝 。

以下是圖書角的圖書。




10. 共有 _____ 本  和  。

11. 沒有學生借閱 ，還有 _____ 本  。

12. 今天借出了半打 ，還有  多少本？(列式計算)



還有 ：

= _____ (本)



伊晴和婉怡各收集了一些郵票。








以上是伊晴的郵票，下列哪一道算式可計算出她共有  和  多少枚？

A. $3 + 0 = 3$

B. $2 + 0 = 2$

C. $1 + 1 = 2$

D. $2 + 3 = 5$

14. 婉怡原有 5 枚  和 ，其中有 5 枚是 。伊晴送給婉怡 2 枚  後，婉怡現有 _____ 枚 。