

13 量度活動



要點導航

例



筷子比2枝鉛筆長。



毛筆比2枝鉛筆短。


筷子比毛筆長。

量度以下各物件的長度時，選用哪一種工具較合適？圈出答案。

1.



2.



3.

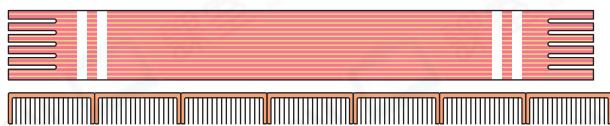


4.

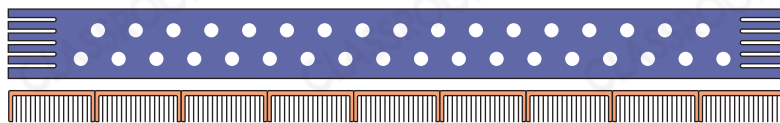


家傲的媽媽給家人織了圍巾。

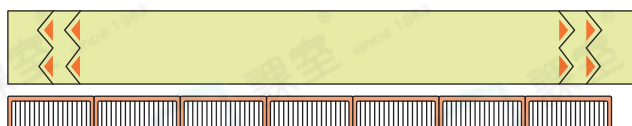
圍巾 A



圍巾 B



圍巾 C



5. 圍巾 B 長 _____ 把 。

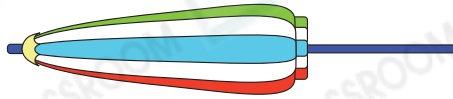
6. 圍巾 A 比圍巾 C* 長 / 短。
(* 圈出答案)




解題金鑰匙

先找出圍巾 A 和 C 的長度分別與 的關係。

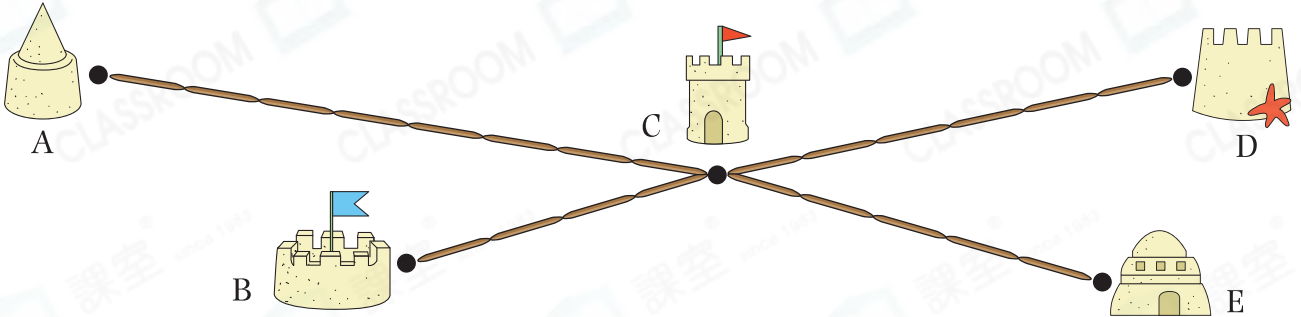
子辰一家去海邊遊玩。


7.



最適合用 *  /  /  (*圈出答案) 來量度沙灘傘的長度。

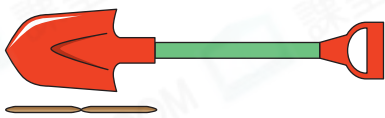
8.



(a) 沙堡 A 比沙堡 D 距離沙堡 C * 遠 / 近 _____ 枝 。
(*圈出答案)

(b) 沙堡 _____ 距離沙堡 C 最近，相距 _____ 枝 。

9.



 約長多少枝  ?

答案：_____ 枝

家明買了一些賀卡和信封。

10.

P



Q



賀卡 P 比賀卡 Q * 長 / 短 (*圈出答案)。

11. 家明 * 可以 / 不可以 (*圈出答案)

把賀卡放入信封裏。



 解題金鑰匙

先比較信封和賀卡中較長的邊。