




# 快速重溫 (二)

練習 8-13


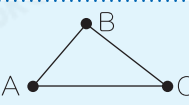
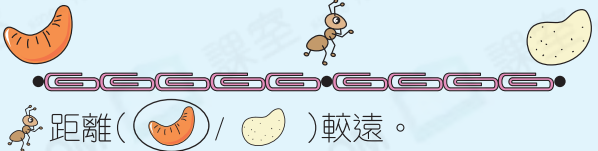


## 數範疇

**基本加法和減法**

- 基本加法**
  - 加法的概念及計算
  - 加法交換性質： $a + b = b + a$
  - 例   
 $3 + 2 = 5$  或  $2 + 3 = 5$
- 基本減法**
  - 減法的概念及計算
  - 由  $6 - \Delta = 2$  可得
  - 例   
餘下： $6 - 2 = 4$  (副)
  - $\Delta = 6 - 2 = 4$
- 認識 0**
  - 0 讀作「零」，表示沒有
  - 任何數減去自己等於 0
  - 例  $8 + 0 = 8$ ,  $0 + 8 = 8$   
 $8 - 0 = 8$   
 $8 - 8 = 0$
  - 任何數加上或減去 0 等於自己
- 加法和減法的關係**
  - 例   
 $5 + 4 = 9$   
 $9 - 5 = 4$   
 $9 - 4 = 5$

## 度量範疇

**長度和距離**

- 比較長短**
  - 其中一端對齊，再比較
  - 例   
較短  
較長
- 比較距離**
  - 例   
A 與 B 的距離最近，  
A 與 C 的距離最遠。
- 自訂單位**
  - 例   
距離 (  /  ) 較遠。

## 圖形與空間範疇

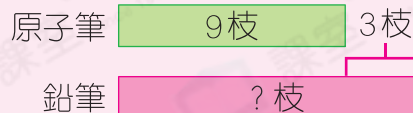
**位置**




- 左、右和之間**
  - 一般以自己的左、右手來判斷左和右。
- 上、下和之間**
  - 例   
綠色碗在最上面。  
黃色碗在其他兩個碗之間。  
粉色碗在最下面。
- 前、後和之間**

**例1** 媽媽買了9枝原子筆，比鉛筆少3枝，即買了 12 枝鉛筆。


**剖析**

- 1 畫出草圖，理清數量關係：
- 2 須用加法計算。
- 3 解答： $9 + 3 = 12$




**考考你** 1. 一束花有3枝 ， 比  少5枝，而  比  多2枝， 和  相差          枝。

**例2**

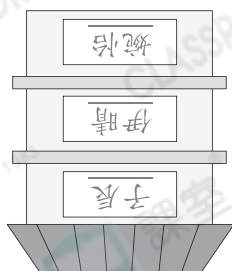


上圖中， 在  的 \* 前 / 後 (\* 圈出答案) 面。

**剖析**

- 1 找到「在」字後面的物件，即 。
- 2 在  的後面有 ，即  在  的後面。

**考考你** 2. 根據提示，在右圖填上人名，以表示各家的位置。



我家在伊晴家的上面，而伊晴家在婉怡家上面。

子辰

