



要點導航

例



上面共有 9 顆 ★。

把物件和對應的數量連起來。



12

10

6

數一數，填數字。





伊晴有許多髮飾。




伊晴有 5 個 ，在上圖圈出伊晴有的 。



伊晴共有 個 和 ，其中有 個 。

家傲的媽媽買了許多水果放在桌子上。



8. 媽媽買了 _____ 顆 。

9. 媽媽買了 5 個 *  /  /  (* 圈出答案)。



10. 媽媽共買了水果多少種？

答案：_____ 種



留意題目要求回答水果種類的數量。



(a) 媽媽把  切開，如上圖所示，共切成了 _____ 塊 。

(b) 吃掉 9 塊，還餘 _____ 塊 。

解題金鑰匙

先劃去吃掉的，再數餘下的。

STEAM 探索營

12. 地球的陸地被劃分為 _____ 個大洲，而海洋則被劃分為 _____ 片大洋。

知多點

地球的表面分為陸地和海洋。陸地分為亞洲、歐洲、非洲、北美洲、南美洲、大洋洲以及南極洲。海洋又分為太平洋、大西洋、印度洋和北冰洋。