

數 16 每2、5和10個一數



要點導航

例



上圖共有 10 隻手套。

依規律，填數字。

-
-
-

婉怡有許多不同的夾子。

- 個5是 _____，即婉怡有 _____ 個 .

-

(a) _____ 個10是 _____，即婉怡有 _____ 個 .

(b) 把所有  每5個分一份，共可分成 _____ 份。



日期

成績

學校活動室有許多體育用品。

6.



每格約有_____個乒乓球，即約共有_____個乒乓球。

7.



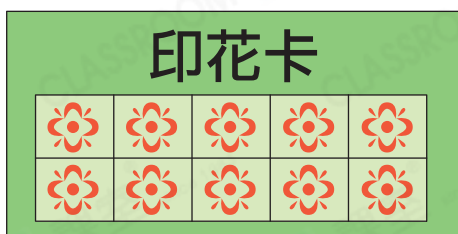
原有 25 個羽毛球，買回以上羽毛球後，共有_____個羽毛球。

8.



原有 20 塊乒乓球拍，借出以上的乒乓球拍後，餘下_____塊乒乓球拍。

伊晴去玩具店換領玩具。





9. 伊晴有 7 張



，即她共有_____個印花。

10.

換領 4 個  的印花，剛好可換領_____個  。

11.

伊晴換領一個  和 3 個  ，共需要_____個印花。

解題金鑰匙

從 30 開始，每 5 個一數，往後數三次便是答案。