

數 17 加法(一)

▶ 不進位



要點導航

例 $13 + 25 = 38$

$$\begin{array}{r} 13 \\ + 25 \\ \hline \end{array}$$

對齊各個數位的數

先加個位的數：

$$3 + 5 = 8$$



$$\begin{array}{r} 13 \\ + 25 \\ \hline 38 \end{array}$$

再加十位的數：

$$1 + 2 = 3$$

計算下列各題。

1. $\begin{array}{r} 12 \\ + 7 \\ \hline \end{array}$

2. $\begin{array}{r} 23 \\ + 21 \\ \hline \end{array}$

3. $\begin{array}{r} 56 \\ + 12 \\ \hline \end{array}$

4. $43 + 31 + 13$

= _____

= _____

5. $62 + 10 + 27$

= _____

= _____

6. $25 + 71 =$ _____

7. $11 + 36 + 22 =$ _____




子辰和媽媽去買餐具。

8. 媽媽買了2盒右面的筷子，即共買了
筷子多少雙？

答案：_____ 雙



12 雙

9. 媽媽買了13把 ，比  少5把，即她買了
_____ 把 。

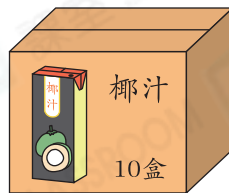


10. 家裏原有21隻  和13個 ，買回8隻 
和15個  後，現在*  /  的數量較多。

(* 圈出答案)

快過年了，婉怡一家在點算各種年貨。

11. 爸爸在牆上掛了 12 個  後，還餘下 6 個 ，婉怡家共有 _____ 個 .

12.




留意選取有用的數據。

(a) 共有 _____ 盒果汁。


(b) 數量最多的兩種飲品共有 _____ 盒。

13. 家裏有 25 個 ， 與  的數量相差 12 個。即最多有  多少個？(列式計算)

最多有 ：

= _____ (個)

 解題金鑰匙

「最多」即有的  較多。



能力挑戰館

14. 弟弟有以下的積木。
跨課題

積木				
數量(塊)	22	16	33	24



解難題

(a) 哪一種立體圖形的積木數量最多？

答案：_____

(b) 共有 _____ 塊角柱積木。