

度量 21 小時



要點導航

例



時針走了2格，時間過了2小時



寫出時間間隔或結束時間。

1.



5小時後



2.



8小時後



3.



_____小時後



_____小時後



解題金鑰匙

「1小時」即時針走了一格，通過數格數可得出答案。

子辰記錄了家人昨天午睡的時間。

	妹妹	媽媽	爸爸
入睡時間	12時半	1時半	2時
起牀時間	3時半	?	3時

4. 妹妹睡了_____小時。




5. 媽媽睡了2小時，她在_____起牀。

6. 三人中，* 妹妹 / 媽媽 / 爸爸 的睡眠時間最短。

(* 圈出答案)

家傲的叔叔參加了馬拉松比賽。

7. 叔叔在  出發，在  到達比賽場地。他用了 _____ 小時。

8.  →  → 
 比賽開始 完成半程 完成全程

以上時鐘顯示叔叔完成比賽的時間。

(a) 叔叔用了 _____ 小時完成比賽。

(b) 叔叔前半程所用的時間比後半程* 多 / 少 _____ 小時。

(* 圈出答案)

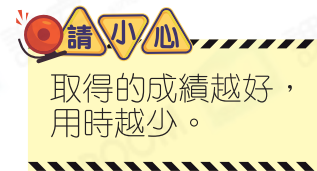
9. 這次比賽的冠軍用了3小時完成比賽，冠軍與季軍所用的時間相差1小時，即季軍在什麼時候完成比賽？


A. 9時半

B. 10時半

C. 11時半

D. 12時半



10. 頒獎典禮在  開始，在2小時後結束，即頒獎典禮在什麼時候結束？

答案：_____

能力挑戰館

11. 時鐘逢幾時正響鬧幾下，逢半時則響鬧1下。婉怡開始繪畫時，聽到1下響鬧，結束時聽到3下響鬧。婉怡共聽到8下響鬧，即她用了 _____ 小時繪畫。

