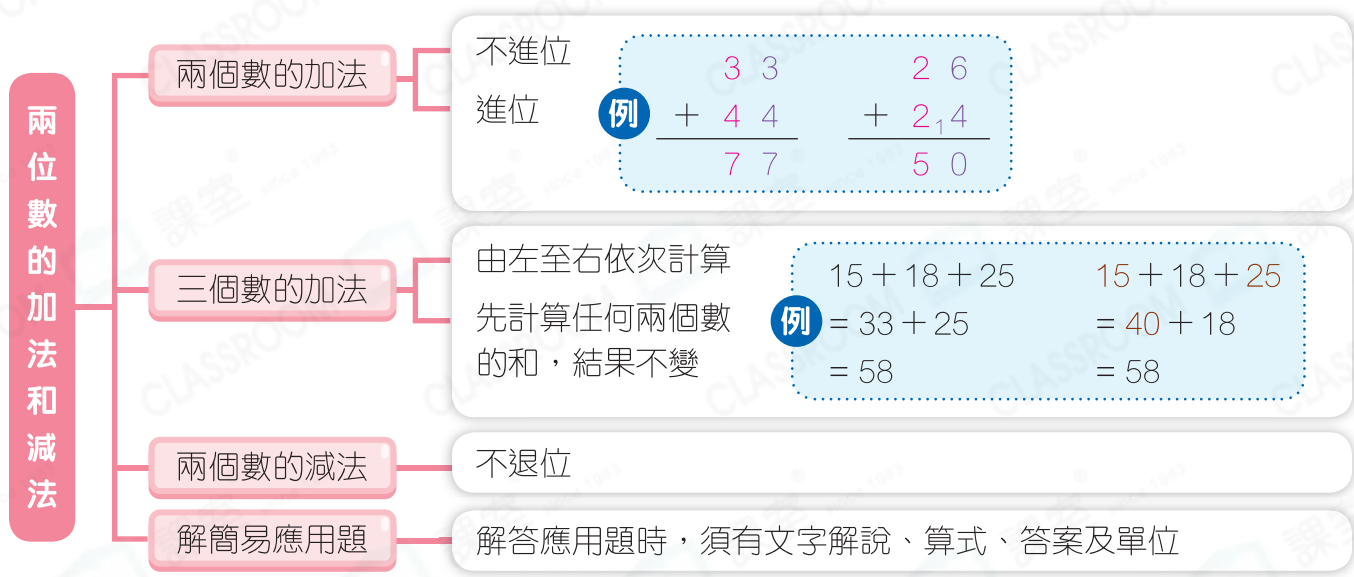
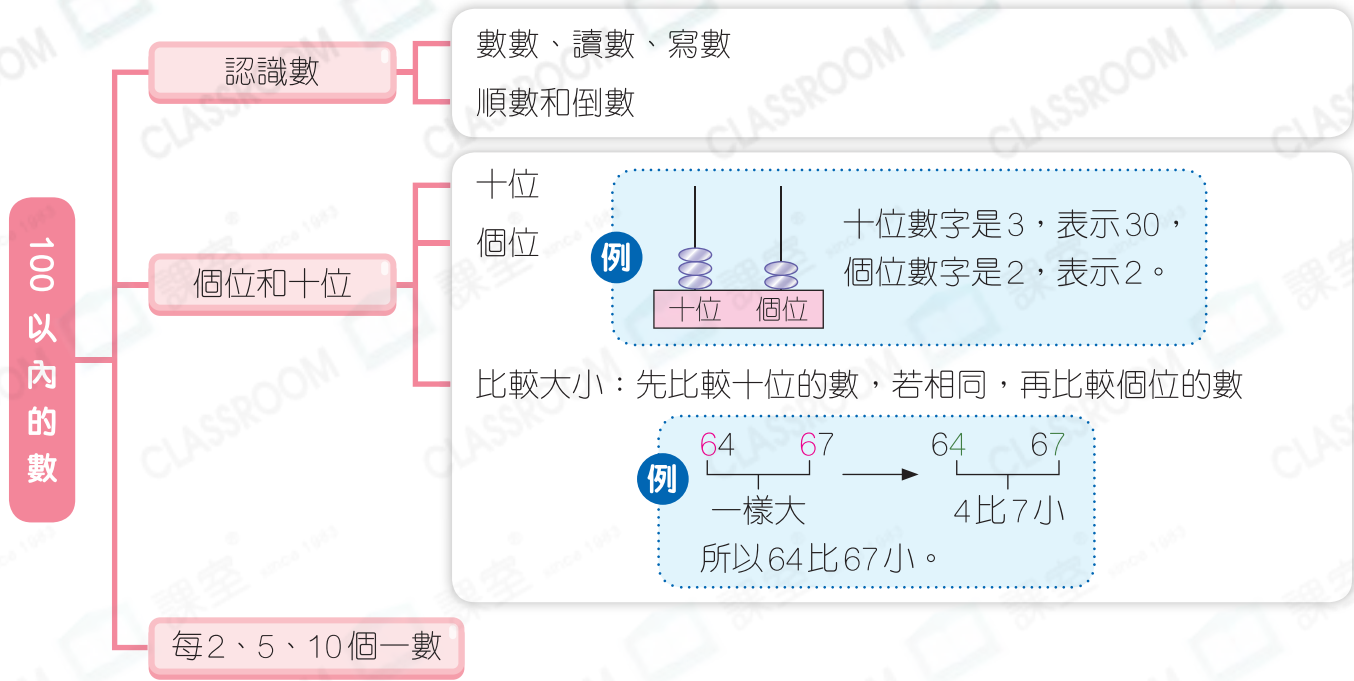


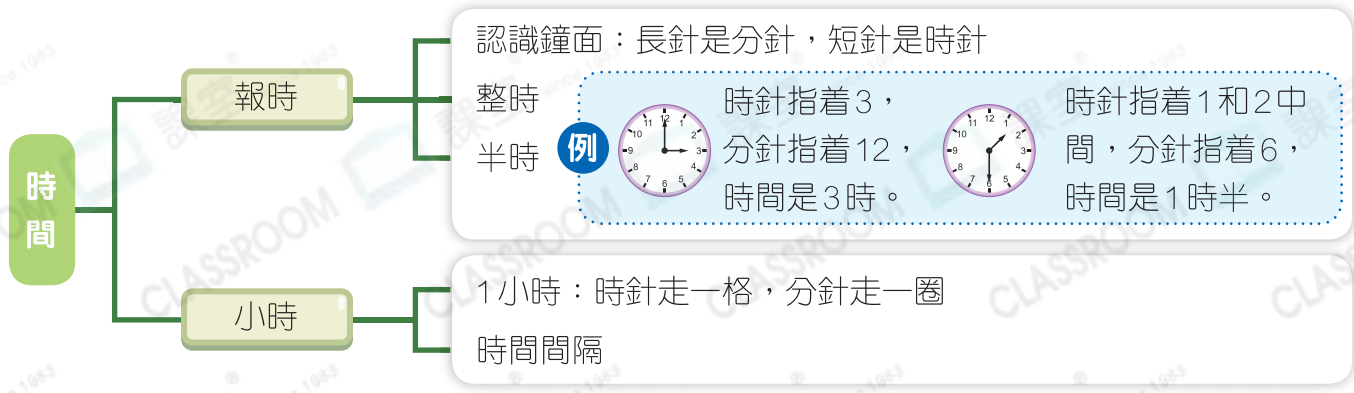
快速重溫 (三)

練習 14-21

數範疇



度量範疇



例 1 一包牛奶糖有 24 顆，一包水果糖有 26 顆，婉怡和妹妹各買一包水果糖，他們共買了 52 顆糖果。

剖析

- ① 「共買」應該用加法。
- ② 「婉怡和妹妹各買一包」即買 2 包。
- ③ 「各買一包水果糖」即 26 顆是有用的數據。
- ④ 共買了糖果： $26 + 26 = 52$ (顆)

考考你

1. 抽獎箱中有 12 個白球、26 個黃球和 15 個藍球，比較箱內數量最少和最多的球類，它們相差 個。

例 2




開始時間



結束時間


以上兩個時鐘分別顯示數學新課程會議的開始時間和結束時間，這次會議持續了 3 小時。

剖析



時針走了 3 格，即時間過了 3 小時。

考考你

2. 演唱會在  開始，持續 3 小時。婉怡提早 1 小時離場，她在何時離場？

答案：