

# 23 香港的硬幣



## 要點導航

例

金色



1角

波浪形



2角



5角

銀色



1元

波浪形



2元



5元

金、銀兩色



10元

寫出下列各組硬幣的總值。

1.



\_\_\_\_\_元\_\_\_\_\_角

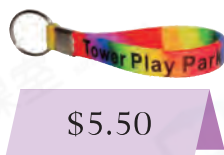
2.



\_\_\_\_\_元\_\_\_\_\_角

寫出下列各商品的售價。

3.



\_\_\_\_\_元\_\_\_\_\_角

4.



\_\_\_\_\_元\_\_\_\_\_角

放學後，伊晴和婉怡一起乘巴士回家。

5. 伊晴須付5元6角的車費。

(a) 伊晴用1個  兌換成\_\_\_\_\_個  。

(b) 兌換硬幣後，伊晴有以下硬幣，圈出她須付的款項。



6. 婉怡付了車費後，餘下   ，即餘下款項多少？

答案：\_\_\_\_\_元\_\_\_\_\_角

日期




成績

子辰儲蓄了一些硬幣。



7. 子辰共有 \_\_\_\_\_ 個1元硬幣。

8. 波浪形硬幣的總值是 \_\_\_\_\_ 元 \_\_\_\_\_ 角。

9. 子辰可將  兌換成 \_\_\_\_\_ 個  和 \_\_\_\_\_ 個 .

家傲和弟弟去買花送給媽媽。



\$7.80




\$9.60

10. (a) 一枝  售 \_\_\_\_\_ 元 \_\_\_\_\_ 角。

(b)  的售價比  \* 貴 / 便宜 (\* 圈出答案)。

11. 家傲有        ，買了一枝較便宜的花後，餘下 \_\_\_\_\_ 元 \_\_\_\_\_ 角。

12. 弟弟最少須付多少個硬幣才能剛好買到一枝  ?

答案： \_\_\_\_\_ 個

 解題金鑰匙

要使數量最少，須使用幣值大的硬幣付款。