

圖形與空間 24 點、直線和曲線



要點導航

例

AB 和 CD 是兩條不同的直線，它們相交於一點。



也可以用「×」來表示一點。

依指示，圈出答案。

1. 只由曲線組成

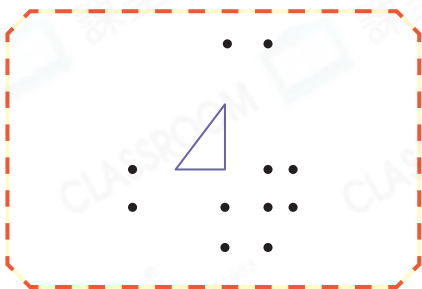


2. 只由直線組成

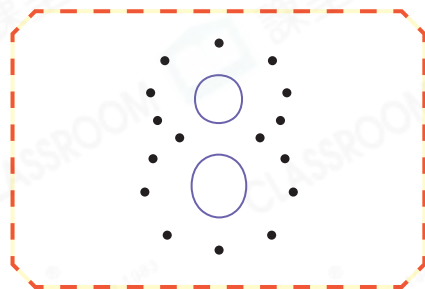


依指示把點連起來，形成指定的數字。

3. 用直線連成 4。



4. 用曲線連成 8。



婉怡正在畫畫。

5. 下列哪一件物件不適合婉怡用來畫直線？

A.



B.



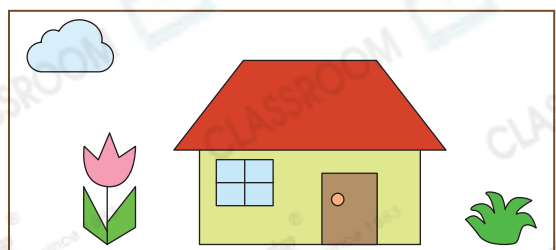
C.



D.



6. 婉怡畫了雲、花、房子和草，其中有 _____ 個圖案是由曲線和直線組成的。



日期

成績

家傲的表弟正在練習寫英文生字。

7. 右面哪一個字母只由曲線組成？

A. W

B. O

C. L

D. F



8. 右面哪一個字母不是由直線和曲線組成？

A. B

B. I

C. R

D. D



9. 觀察下列的英文字母，並寫出所有答案。



(a) 只由直線組成的英文字母：_____

(b) 只由曲線組成的英文字母：_____

(c) 由直線和曲線組成的英文字母：_____

10. 把下列生字的所有字母轉為大寫字母，哪一個只由直線組成？

A. hen

B. fox

C. cat

D. pig

11. 在26個大寫英文字母中，只由直線組成的字母共有多少個？

答案：_____個



能力挑戰館

12. 右圖中，每兩個村莊之間各修一條筆直的公路，最多可修公路多少條？

答案：_____條

