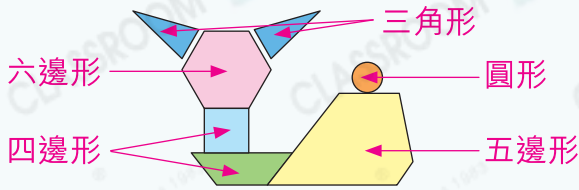




要點導航

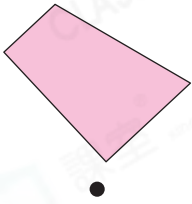
例



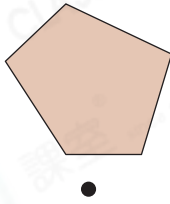
通過圖形邊的數目來辨認圖形種類。

把同類別的平面圖形連起來。

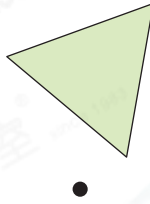
1.



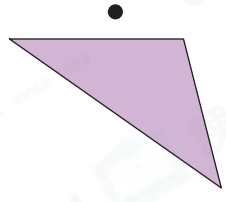
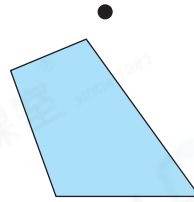
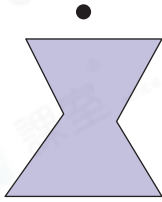
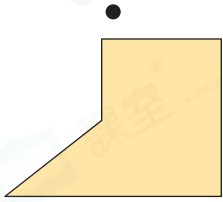
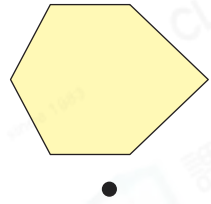
2.



3.



4.



婉怡的默書簿上貼了不同形狀的貼紙。



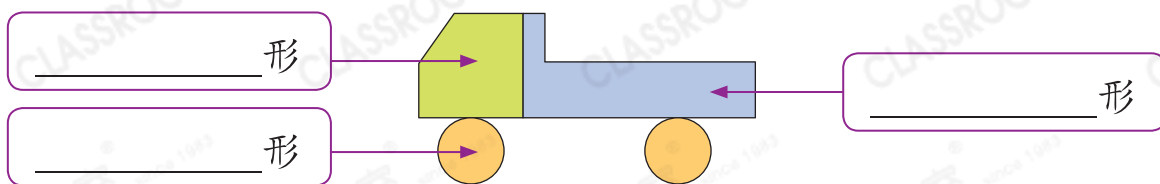
5.  是一張 _____ 形貼紙。

6. 默書簿上共貼了 _____ 張四邊形貼紙。

7. 默書簿上貼的 * 圓形 / 三角形 / 四邊形 貼紙最少。
(* 圈出答案)

老師讓學生用平面圖形砌出美麗的圖案。

8. 以下是子辰的作品，在空格內寫上平面圖形的名稱。

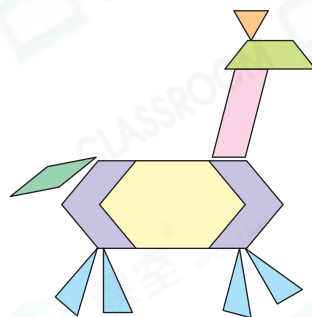


9. 伊晴用不同的平面圖形拼砌了一匹馬。

(a) 右圖有 _____ 個四邊形。


(b) 右圖有 _____ 個六邊形。

(c) 右圖有 _____ 個三角形。

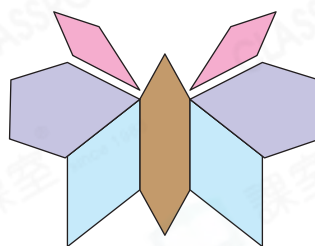


10.

作品A



作品B



家傲拼砌了以上兩件作品。

(a) 在作品A和作品B中， _____ 形的數量相等。

(b) 作品 _____ 中沒有六邊形。

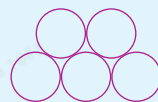
STEAM 探索營

11.



從圖片能看到，蜂巢是由許多個緊密排列的 _____ 形組成。

知多點



用同樣多的材料，可圍成的最大圖形是圓形，但是圓形堆在一起會有空隙，所以蜂巢建成了最接近圓形但堆在一起不會有空隙的形狀。