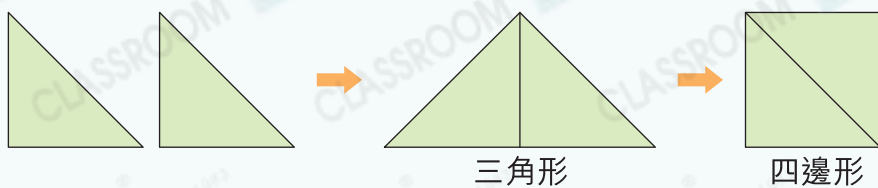


# 圖形與空間 26 製作平面圖形



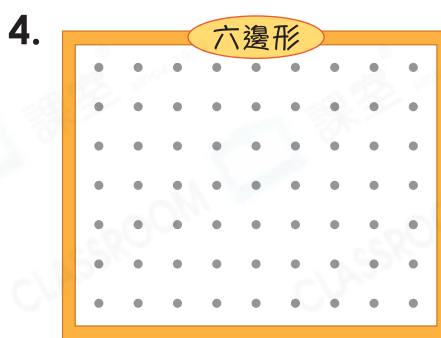
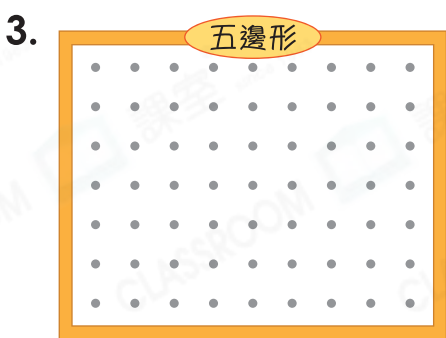
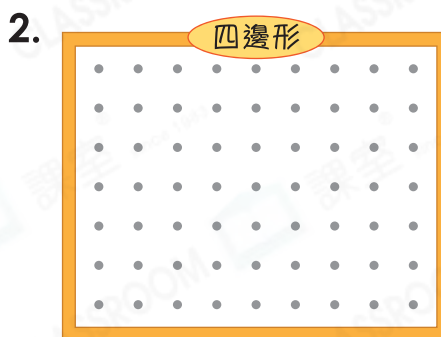
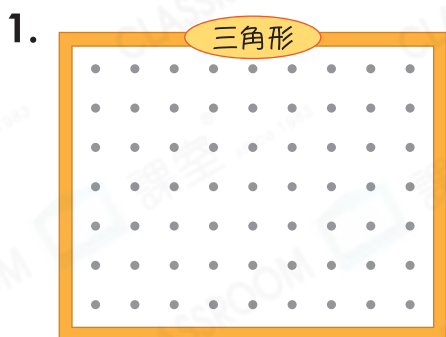
## 要點導航

例



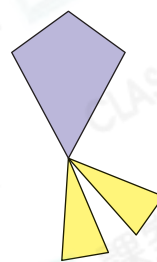
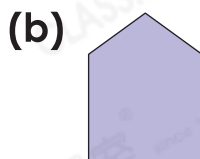
把長度相等的邊重合來拼砌

在釘板上畫出指定的圖形。



家傲和弟弟正在製作風箏。

5. 家傲怎樣剪出右圖的兩種圖形？在圖中畫直線表示。



6. 弟弟在 上剪一刀，他不可能得到下列哪一種平面圖形？

答案：\* 三角形 / 四邊形 / 五邊形 (\* 圈出答案)

伊晴用不同的方法製作平面圖形。

7. 下列哪一件物件不適合伊晴用來畫圓形？

A.



B.



C.



D.




8. 伊晴用右面的竹籤不能拼成下列哪一種圖形？

A. 三角形

B. 四邊形

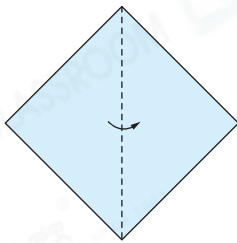
C. 五邊形

D. 六邊形



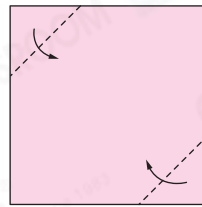
9. 伊晴沿虛線對摺卡紙後，可得出哪一種圖形？寫出它們的名稱。

(a)



形

(b)



形

子辰在玩七巧板。

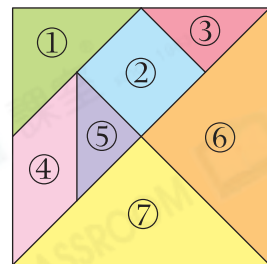
10. 下列哪一組七巧板不可以拼成一個四邊形？

A. ①和②

B. ③和④

C. ⑤和①

D. ⑥和⑦



11. 子辰用編號②、\_\_\_\_\_和\_\_\_\_\_的三塊板可拼成一個三角形。

12. 子辰用其中5塊板拼成了右圖的樹，他用了哪些板？

答案：編號\_\_\_\_\_

