

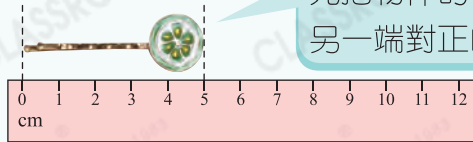
27 厘米



要點導航

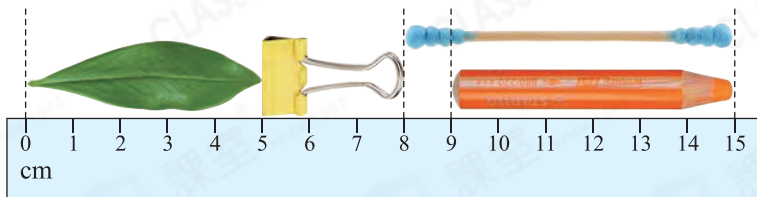
例 長多少？

答案： 5 cm



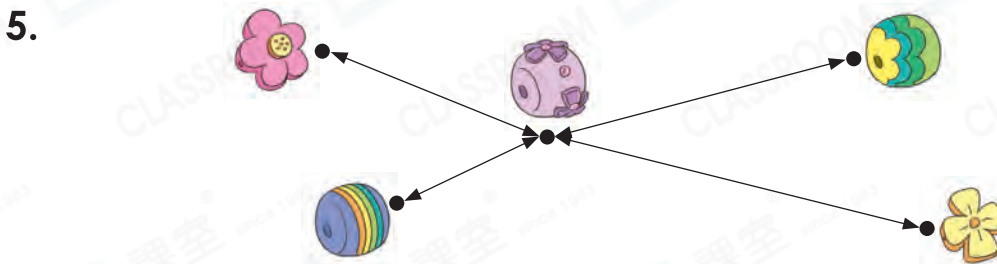
先把物件的一端對正「0」的刻度，
另一端對正的刻度即物件長度。

根據下圖，在 _____ 上填答案。



- 長 _____ cm。
- 長 _____ cm。
- 長 _____ cm。
- 長 _____ cm。

伊晴正在做手鏈。



- 與 相距 _____ cm。
- 距離 最遠的是 ，相距 _____ cm。
- 距離 最近的是 ，相距 _____ cm。

6. 下圖是伊晴做好的手鏈，用厘米尺量度它的長度。



它的長度是 _____ cm。



日期

成績

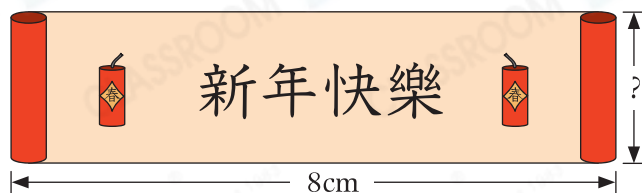
子辰正在製作送給朋友的新年賀卡。

7. 右圖是子辰在賀卡上畫的燈籠。用厘米尺量度他畫的燈籠，燈籠長多少？

答案：_____ cm




8.

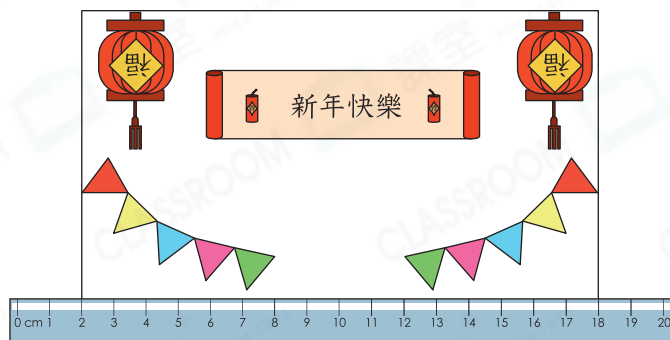


子辰在賀卡上畫上卷軸和寫上祝語。

(a) 用厘米尺量度，卷軸闊_____ cm。

(b) 用厘米尺量度兩個之間的距離，距離是_____ cm。

9.



上圖是子辰製作好的賀卡。賀卡長多少？

答案：_____ cm

能力挑戰館

10.

跨課題



把一條繩子剪三次，分成長度相同的小段，上圖是其中一段。這條繩子原來長_____ cm。

