

28 永備尺



要點導航

例



長 10cm



長多少？

答案： 40 cm

把最適合用來量度各物件實際長度的永備尺和物件連起來。

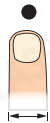
1.



2.



3.



子辰利用身體各部分來量度課室中各物件的長度。

4. 最適合子辰用  來量度的是

A. 筆盒的長度。

B. 課室門的闊度。

C. 粉筆的長度。


D. 書籍的闊度。

5.  約長多少個  ？

答案： 個



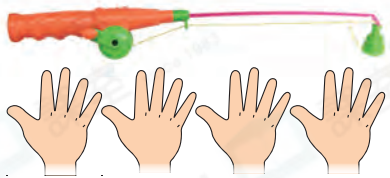
6.



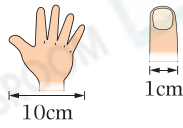
子辰量得窗戶比黑板 * 高 / 矮 (* 圈出答案) 個  。

婉怡和弟弟用手掌和手指量度玩具的長度。

婉怡



弟弟



7. 婉怡的魚竿約長 _____ cm。

8. 弟弟的玩具槍約長 _____ cm。

9. 如果弟弟用他的  來量度魚竿的長度，魚竿長 _____ 個 。

伊晴正在量度部分家具及家具之間的距離。



10. 牀和* 衣櫃 / 圓凳 (*圈出答案)之間的距離較近。

11. 圓凳與衣櫃相距 _____ 個 。

12. 下列哪一項最適合用來量度  一圈的長度？

