

階段闖關 (四)

15分鐘

練習 22-28

回答下列各題。(8分) 8分鐘

1.

六月						
日	一	二	三	四	五	六
	1	2	3	4	5	6
7	8	9	10	11	12	13
14	15	16	17	18	19	20
21	22	23	24	25	26	27
28	29	30				

(a) 叔叔由6月12日起，有連續4天的假期，假期結束後的第二天是星期_____。(1分)

(b) 六月第三個星期日是父親節，那天是_____月_____日。(1分)

2. 用厘米尺量度右圖書簽夾的長度。

它的長度是多少？(1分)

答案：_____ cm



3. (a) 一個蛋撻的售價是多少？(1分)

答案：_____元_____角



(b) 家傲買一個蛋撻。圈出他須付的金額。(1分)

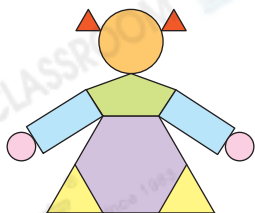


4. 右圖由* 直線 / 曲線 / 點 組成。(1分)

(* 圈出所有答案)



5.



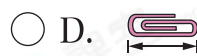
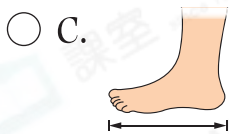
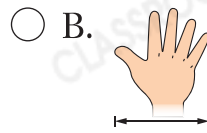
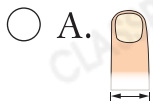
左圖中，

(a) 有_____個圓形。(1分)

(b) 有_____個三角形。(1分)

選出答案，把代表答案的○塗黑和塗滿。(4分，每題1分)  4分鐘

6. 下列哪一項最適合用來量度  的實際長度？



7. 子辰有     ，即他有

A. 6元3角。

B. 6元6角。

C. 7元1角。

D. 7元5角。

8. 在右圖卡紙上剪一刀，把它分成兩個圖形，不能得到

A. 三角形。

B. 四邊形。

C. 五邊形。

D. 六邊形。



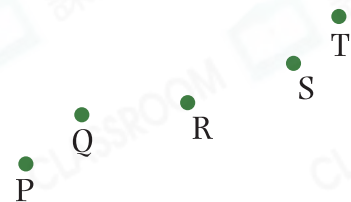
9. 右圖中，過3點可畫一條直線，餘下兩點是

A. P和R。

B. Q和S。

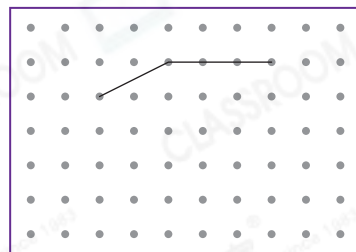
C. R和T。

D. Q和T。

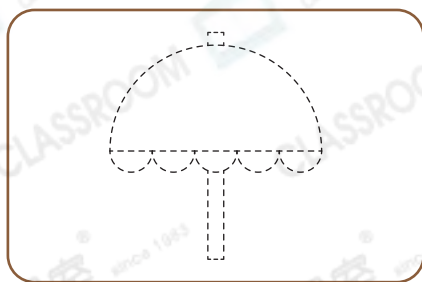


繪圖題。(4分，每題2分)  3分鐘

10. 右圖中顯示一個六邊形的其中兩條邊，畫出這個六邊形其餘的邊。



11.



沿虛線畫出左圖中所有的曲線。